


Para uma situação em que houvesse a opção de realizar uma viagem de **AUTO** com uma distância de **80 KM (ATÉ 1 HORA)** por duas alternativas de rotas, conforme apresentado nas imagens abaixo, qual é a alternativa que você escolheria?

<p>GRUPO A</p> <p>ORDEM 1 DE 4</p> <p>CARTÃO ID 1</p> <p>PISTA SIMPLES</p>		
Alternativa	RODOVIA PEDAGIADA	FUGA
Tempo de Viagem	00:50	01:35
Pagamento Pedágio(s)	R\$ 6.15	SEM PEDÁGIO
Escolha	A	B



**AUTO / PISTA SIMPLES / ATÉ 1 HORA / GRUPO A / CARTÃO ID 1**

Para uma situação em que houvesse a opção de realizar uma viagem de **AUTO** com uma distância de **80 KM (ATÉ 1 HORA)** por duas alternativas de rotas, conforme apresentado nas imagens abaixo, qual é a alternativa que você escolheria?

<p>GRUPO A</p> <p>ORDEM 2 DE 4</p> <p>CARTÃO ID 2</p> <p>PISTA SIMPLES</p>		
Alternativa	RODOVIA PEDAGIADA	FUGA
Tempo de Viagem	01:00	01:35
Pagamento Pedágio(s)	R\$ 10.00	SEM PEDÁGIO
Escolha	A	B

**AUTO / PISTA SIMPLES / ATÉ 1 HORA / GRUPO A / CARTÃO ID 2**

Para uma situação em que houvesse a opção de realizar uma viagem de **AUTO** com uma distância de **80 KM (ATÉ 1 HORA)** por duas alternativas de rotas, conforme apresentado nas imagens abaixo, qual é a alternativa que você escolheria?

<p>GRUPO A</p> <p>ORDEM 3 DE 4</p> <p>CARTÃO ID 3</p> <p>PISTA SIMPLES</p>		
Alternativa	RODOVIA PEDAGIADA	FUGA
Tempo de Viagem	00:55	01:25
Pagamento Pedágio(s)	R\$ 10.00	SEM PEDÁGIO
Escolha	A	B

**AUTO / PISTA SIMPLES / ATÉ 1 HORA / GRUPO A / CARTÃO ID 3**

Para uma situação em que houvesse a opção de realizar uma viagem de **AUTO** com uma distância de **80 KM (ATÉ 1 HORA)** por duas alternativas de rotas, conforme apresentado nas imagens abaixo, qual é a alternativa que você escolheria?

<p>GRUPO A</p> <p>ORDEM 4 DE 4</p> <p>CARTÃO ID 4</p> <p>PISTA SIMPLES</p>		
Alternativa	RODOVIA PEDAGIADA	FUGA
Tempo de Viagem	00:55	01:20
Pagamento Pedágio(s)	R\$ 13.80	SEM PEDÁGIO
Escolha	A	B

**AUTO / PISTA SIMPLES / ATÉ 1 HORA / GRUPO A / CARTÃO ID 4**




Para uma situação em que houvesse a opção de realizar uma viagem de **AUTO** com uma distância de **160 KM (ENTRE 1-2 HORAS)** por duas alternativas de rotas, conforme apresentado nas imagens abaixo, qual é a alternativa que você escolheria?

GRUPO B  ORDEM 1 DE 4  CARTÃO ID 5  PISTA SIMPLES		
Alternativa	RODOVIA PEDAGIADA	FUGA
Tempo de Viagem	01:45	03:10
Pagamento Pedágio(s)	R\$ 12.30	SEM PEDÁGIO
Escolha	A	B



**AUTO / PISTA SIMPLES / ENTRE 1-2 HORAS / GRUPO B / CARTÃO ID 5**

Para uma situação em que houvesse a opção de realizar uma viagem de **AUTO** com uma distância de **160 KM (ENTRE 1-2 HORAS)** por duas alternativas de rotas, conforme apresentado nas imagens abaixo, qual é a alternativa que você escolheria?

<p>GRUPO B</p> <p>ORDEM 2 DE 4</p> <p>CARTÃO ID 6</p> <p>PISTA SIMPLES</p>		
Alternativa	RODOVIA PEDAGIADA	FUGA
Tempo de Viagem	01:30	03:10
Pagamento Pedágio(s)	R\$ 27.50	SEM PEDÁGIO
Escolha	A	B



**AUTO / PISTA SIMPLES / ENTRE 1-2 HORAS / GRUPO B / CARTÃO ID 6**

Para uma situação em que houvesse a opção de realizar uma viagem de **AUTO** com uma distância de **160 KM (ENTRE 1-2 HORAS)** por duas alternativas de rotas, conforme apresentado nas imagens abaixo, qual é a alternativa que você escolheria?

<p>GRUPO B</p> <p>ORDEM 3 DE 4</p> <p>CARTÃO ID 7</p> <p>PISTA SIMPLES</p>		
Alternativa	RODOVIA PEDAGIADA	FUGA
Tempo de Viagem	01:35	02:35
Pagamento Pedágio(s)	R\$ 19.90	SEM PEDÁGIO
Escolha	A	B

**AUTO / PISTA SIMPLES / ENTRE 1-2 HORAS / GRUPO B / CARTÃO ID 7**

Para uma situação em que houvesse a opção de realizar uma viagem de **AUTO** com uma distância de **160 KM (ENTRE 1-2 HORAS)** por duas alternativas de rotas, conforme apresentado nas imagens abaixo, qual é a alternativa que você escolheria?

<p>GRUPO B</p> <p>ORDEM 4 DE 4</p> <p>CARTÃO ID 8</p> <p>PISTA SIMPLES</p>		
Alternativa	RODOVIA PEDAGIADA	FUGA
Tempo de Viagem	01:30	02:35
Pagamento Pedágio(s)	R\$ 35.20	SEM PEDÁGIO
Escolha	A	B

**AUTO / PISTA SIMPLES / ENTRE 1-2 HORAS / GRUPO B / CARTÃO ID 8**



Para uma situação em que houvesse a opção de realizar uma viagem de **AUTO** com uma distância de **240 KM (ACIMA DE 2 HORAS)** por duas alternativas de rotas, conforme apresentado nas imagens abaixo, qual é a alternativa que você escolheria?

GRUPO C  ORDEM 1 DE 4  CARTÃO ID 9  PISTA SIMPLES		
Alternativa	RODOVIA PEDAGIADA	FUGA
Tempo de Viagem	02:40	04:50
Pagamento Pedágio(s)	R\$ 15.35	SEM PEDÁGIO
Escolha	A	B


**AUTO / PISTA SIMPLES / ACIMA DE 2 HORAS / GRUPO C / CARTÃO ID 9**

Para uma situação em que houvesse a opção de realizar uma viagem de **AUTO** com uma distância de **240 KM (ACIMA DE 2 HORAS)** por duas alternativas de rotas, conforme apresentado nas imagens abaixo, qual é a alternativa que você escolheria?

GRUPO C  ORDEM 2 DE 4  CARTÃO ID 10  PISTA SIMPLES		
Alternativa	RODOVIA PEDAGIADA	FUGA
Tempo de Viagem	02:24	03:55
Pagamento Pedágio(s)	R\$ 24.90	SEM PEDÁGIO
Escolha	A	B



**AUTO / PISTA SIMPLES / ACIMA DE 2 HORAS / GRUPO C / CARTÃO ID 10**

Para uma situação em que houvesse a opção de realizar uma viagem de **AUTO** com uma distância de **240 KM (ACIMA DE 2 HORAS)** por duas alternativas de rotas, conforme apresentado nas imagens abaixo, qual é a alternativa que você escolheria?

<p>GRUPO C</p> <p>ORDEM 3 DE 4</p> <p>CARTÃO ID 11</p> <p>PISTA SIMPLES</p>		
Alternativa	RODOVIA PEDAGIADA	FUGA
Tempo de Viagem	02:40	03:55
Pagamento Pedágio(s)	R\$ 24.90	SEM PEDÁGIO
Escolha	A	B

**AUTO / PISTA SIMPLES / ACIMA DE 2 HORAS / GRUPO C / CARTÃO ID 11**

Para uma situação em que houvesse a opção de realizar uma viagem de **AUTO** com uma distância de **240 KM (ACIMA DE 2 HORAS)** por duas alternativas de rotas, conforme apresentado nas imagens abaixo, qual é a alternativa que você escolheria?

<p>GRUPO C</p> <p>ORDEM 4 DE 4</p> <p>CARTÃO ID 12</p> <p>PISTA SIMPLES</p>		
Alternativa	RODOVIA PEDAGIADA	FUGA
Tempo de Viagem	02:40	03:55
Pagamento Pedágio(s)	R\$ 44.00	SEM PEDÁGIO
Escolha	A	B

**AUTO / PISTA SIMPLES / ACIMA DE 2 HORAS / GRUPO C / CARTÃO ID 12**



Para uma situação em que houvesse a opção de realizar uma viagem de **AUTO** com uma distância de **80 KM (ATÉ 1 HORA)** por duas alternativas de rotas, conforme apresentado nas imagens abaixo, qual é a alternativa que você escolheria?

<p>GRUPO D</p> <p>ORDEM 1 DE 4</p> <p>CARTÃO ID 13</p> <p>PISTA SIMPLES</p>		
Alternativa	RODOVIA PEDAGIADA	FUGA
Tempo de Viagem	00:50	01:20
Pagamento Pedágio(s)	R\$ 6.15	SEM PEDÁGIO
Escolha	A	B

**AUTO / PISTA SIMPLES / ATÉ 1 HORA / GRUPO D / CARTÃO ID 13**

Para uma situação em que houvesse a opção de realizar uma viagem de **AUTO** com uma distância de **80 KM (ATÉ 1 HORA)** por duas alternativas de rotas, conforme apresentado nas imagens abaixo, qual é a alternativa que você escolheria?

<p>GRUPO D</p> <p>ORDEM 2 DE 4</p> <p>CARTÃO ID 14</p> <p>PISTA SIMPLES</p>		
Alternativa	RODOVIA PEDAGIADA	FUGA
Tempo de Viagem	01:00	01:25
Pagamento Pedágio(s)	R\$ 10.00	SEM PEDÁGIO
Escolha	A	B

**AUTO / PISTA SIMPLES / ATÉ 1 HORA / GRUPO D / CARTÃO ID 14**

Para uma situação em que houvesse a opção de realizar uma viagem de **AUTO** com uma distância de **80 KM (ATÉ 1 HORA)** por duas alternativas de rotas, conforme apresentado nas imagens abaixo, qual é a alternativa que você escolheria?

<p>GRUPO D</p> <p>ORDEM 3 DE 4</p> <p>CARTÃO ID 15</p> <p>PISTA SIMPLES</p>		
Alternativa	RODOVIA PEDAGIADA	FUGA
Tempo de Viagem	00:55	01:25
Pagamento Pedágio(s)	R\$ 13.80	SEM PEDÁGIO
Escolha	A	B

**AUTO / PISTA SIMPLES / ATÉ 1 HORA / GRUPO D / CARTÃO ID 15**

Para uma situação em que houvesse a opção de realizar uma viagem de **AUTO** com uma distância de **80 KM (ATÉ 1 HORA)** por duas alternativas de rotas, conforme apresentado nas imagens abaixo, qual é a alternativa que você escolheria?

<p>GRUPO D</p> <p>ORDEM 4 DE 4</p> <p>CARTÃO ID 16</p> <p>PISTA SIMPLES</p>		
Alternativa	RODOVIA PEDAGIADA	FUGA
Tempo de Viagem	01:00	01:20
Pagamento Pedágio(s)	R\$ 13.80	SEM PEDÁGIO
Escolha	A	B

**AUTO / PISTA SIMPLES / ATÉ 1 HORA / GRUPO D / CARTÃO ID 16**



Para uma situação em que houvesse a opção de realizar uma viagem de **AUTO** com uma distância de **160 KM (ENTRE 1-2 HORAS)** por duas alternativas de rotas, conforme apresentado nas imagens abaixo, qual é a alternativa que você escolheria?

<p>GRUPO E</p> <p>ORDEM 1 DE 4</p> <p>CARTÃO ID 17</p> <p>PISTA SIMPLES</p>		
Alternativa	RODOVIA PEDAGIADA	FUGA
Tempo de Viagem	01:30	02:35
Pagamento Pedágio(s)	R\$ 12.30	SEM PEDÁGIO
Escolha	A	B

**AUTO / PISTA SIMPLES / ENTRE 1-2 HORAS / GRUPO E / CARTÃO ID 17**

Para uma situação em que houvesse a opção de realizar uma viagem de **AUTO** com uma distância de **160 KM (ENTRE 1-2 HORAS)** por duas alternativas de rotas, conforme apresentado nas imagens abaixo, qual é a alternativa que você escolheria?

<p>GRUPO E</p> <p>ORDEM 2 DE 4</p> <p>CARTÃO ID 18</p> <p>PISTA SIMPLES</p>		
Alternativa	RODOVIA PEDAGIADA	FUGA
Tempo de Viagem	02:00	03:10
Pagamento Pedágio(s)	R\$ 27.50	SEM PEDÁGIO
Escolha	A	B

**AUTO / PISTA SIMPLES / ENTRE 1-2 HORAS / GRUPO E / CARTÃO ID 18**

Para uma situação em que houvesse a opção de realizar uma viagem de **AUTO** com uma distância de **160 KM (ENTRE 1-2 HORAS)** por duas alternativas de rotas, conforme apresentado nas imagens abaixo, qual é a alternativa que você escolheria?

<p>GRUPO E</p> <p>ORDEM 3 DE 4</p> <p>CARTÃO ID 19</p> <p>PISTA SIMPLES</p>		
Alternativa	RODOVIA PEDAGIADA	FUGA
Tempo de Viagem	01:30	02:50
Pagamento Pedágio(s)	R\$ 35.20	SEM PEDÁGIO
Escolha	A	B

**AUTO / PISTA SIMPLES / ENTRE 1-2 HORAS / GRUPO E / CARTÃO ID 19**

Para uma situação em que houvesse a opção de realizar uma viagem de **AUTO** com uma distância de **160 KM (ENTRE 1-2 HORAS)** por duas alternativas de rotas, conforme apresentado nas imagens abaixo, qual é a alternativa que você escolheria?

<p>GRUPO E</p> <p>ORDEM 4 DE 4</p> <p>CARTÃO ID 20</p> <p>PISTA SIMPLES</p>		
Alternativa	RODOVIA PEDAGIADA	FUGA
Tempo de Viagem	02:00	02:50
Pagamento Pedágio(s)	R\$ 35.20	SEM PEDÁGIO
Escolha	A	B

**AUTO / PISTA SIMPLES / ENTRE 1-2 HORAS / GRUPO E / CARTÃO ID 20**



Para uma situação em que houvesse a opção de realizar uma viagem de **AUTO** com uma distância de **240 KM (ACIMA DE 2 HORAS)** por duas alternativas de rotas, conforme apresentado nas imagens abaixo, qual é a alternativa que você escolheria?

<p>GRUPO F</p> <p>ORDEM 1 DE 4</p> <p>CARTÃO ID 21</p> <p>PISTA SIMPLES</p>		
Alternativa	RODOVIA PEDAGIADA	FUGA
Tempo de Viagem	02:40	03:55
Pagamento Pedágio(s)	R\$ 15.35	SEM PEDÁGIO
Escolha	A	B

**AUTO / PISTA SIMPLES / ACIMA DE 2 HORAS / GRUPO F / CARTÃO ID 21**

Para uma situação em que houvesse a opção de realizar uma viagem de **AUTO** com uma distância de **240 KM (ACIMA DE 2 HORAS)** por duas alternativas de rotas, conforme apresentado nas imagens abaixo, qual é a alternativa que você escolheria?

<p>GRUPO F</p> <p>ORDEM 2 DE 4</p> <p>CARTÃO ID 22</p> <p>PISTA SIMPLES</p>		
Alternativa	RODOVIA PEDAGIADA	FUGA
Tempo de Viagem	03:00	04:50
Pagamento Pedágio(s)	R\$ 44.00	SEM PEDÁGIO
Escolha	A	B

**AUTO / PISTA SIMPLES / ACIMA DE 2 HORAS / GRUPO F / CARTÃO ID 22**

Para uma situação em que houvesse a opção de realizar uma viagem de **AUTO** com uma distância de **240 KM (ACIMA DE 2 HORAS)** por duas alternativas de rotas, conforme apresentado nas imagens abaixo, qual é a alternativa que você escolheria?

<p>GRUPO F</p> <p>ORDEM 3 DE 4</p> <p>CARTÃO ID 23</p> <p>PISTA SIMPLES</p>		
Alternativa	RODOVIA PEDAGIADA	FUGA
Tempo de Viagem	02:40	03:35
Pagamento Pedágio(s)	R\$ 24.90	SEM PEDÁGIO
Escolha	A	B

**AUTO / PISTA SIMPLES / ACIMA DE 2 HORAS / GRUPO F / CARTÃO ID 23**

Para uma situação em que houvesse a opção de realizar uma viagem de **AUTO** com uma distância de **240 KM (ACIMA DE 2 HORAS)** por duas alternativas de rotas, conforme apresentado nas imagens abaixo, qual é a alternativa que você escolheria?

<p>GRUPO F</p> <p>ORDEM 4 DE 4</p> <p>CARTÃO ID 24</p> <p>PISTA SIMPLES</p>		
Alternativa	RODOVIA PEDAGIADA	FUGA
Tempo de Viagem	03:00	03:35
Pagamento Pedágio(s)	R\$ 24.90	SEM PEDÁGIO
Escolha	A	B

**AUTO / PISTA SIMPLES / ACIMA DE 2 HORAS / GRUPO F / CARTÃO ID 24**



Para uma situação em que houvesse a opção de realizar uma viagem de **AUTO** com uma distância de **80 KM (ATÉ 1 HORA)** por duas alternativas de rotas, conforme apresentado nas imagens abaixo, qual é a alternativa que você escolheria?

<p>GRUPO G</p> <p>ORDEM 1 DE 4</p> <p>CARTÃO ID 25</p> <p>PISTA DUPLA</p>		
Alternativa	RODOVIA PEDAGIADA	FUGA
Tempo de Viagem	01:00	01:35
Pagamento Pedágio(s)	R\$ 6.15	SEM PEDÁGIO
Escolha	A	B

**AUTO / PISTA DUPLA / ATÉ 1 HORA / GRUPO G / CARTÃO ID 25**

Para uma situação em que houvesse a opção de realizar uma viagem de **AUTO** com uma distância de **80 KM (ATÉ 1 HORA)** por duas alternativas de rotas, conforme apresentado nas imagens abaixo, qual é a alternativa que você escolheria?

<p>GRUPO G</p> <p>ORDEM 2 DE 4</p> <p>CARTÃO ID 26</p> <p>PISTA DUPLA</p>		
Alternativa	RODOVIA PEDAGIADA	FUGA
Tempo de Viagem	00:50	01:35
Pagamento Pedágio(s)	R\$ 13.80	SEM PEDÁGIO
Escolha	A	B

**AUTO / PISTA DUPLA / ATÉ 1 HORA / GRUPO G / CARTÃO ID 26**

Para uma situação em que houvesse a opção de realizar uma viagem de **AUTO** com uma distância de **80 KM (ATÉ 1 HORA)** por duas alternativas de rotas, conforme apresentado nas imagens abaixo, qual é a alternativa que você escolheria?

<p>GRUPO G</p> <p>ORDEM 3 DE 4</p> <p>CARTÃO ID 27</p> <p>PISTA DUPLA</p>		
Alternativa	RODOVIA PEDAGIADA	FUGA
Tempo de Viagem	00:45	01:35
Pagamento Pedágio(s)	R\$ 17.60	SEM PEDÁGIO
Escolha	A	B

**AUTO / PISTA DUPLA / ATÉ 1 HORA / GRUPO G / CARTÃO ID 27**

Para uma situação em que houvesse a opção de realizar uma viagem de **AUTO** com uma distância de **80 KM (ATÉ 1 HORA)** por duas alternativas de rotas, conforme apresentado nas imagens abaixo, qual é a alternativa que você escolheria?

<p>GRUPO G</p> <p>ORDEM 4 DE 4</p> <p>CARTÃO ID 28</p> <p>PISTA DUPLA</p>		
Alternativa	RODOVIA PEDAGIADA	FUGA
Tempo de Viagem	00:50	01:20
Pagamento Pedágio(s)	R\$ 17.60	SEM PEDÁGIO
Escolha	A	B

**AUTO / PISTA DUPLA / ATÉ 1 HORA / GRUPO G / CARTÃO ID 28**



Para uma situação em que houvesse a opção de realizar uma viagem de **AUTO** com uma distância de **160 KM (ENTRE 1-2 HORAS)** por duas alternativas de rotas, conforme apresentado nas imagens abaixo, qual é a alternativa que você escolheria?

<p>GRUPO H</p> <p>ORDEM 1 DE 4</p> <p>CARTÃO ID 29</p> <p>PISTA DUPLA</p>		
Alternativa	RODOVIA PEDAGIADA	FUGA
Tempo de Viagem	01:35	02:50
Pagamento Pedágio(s)	R\$ 12.30	SEM PEDÁGIO
Escolha	A	B

**AUTO / PISTA DUPLA / ENTRE 1-2 HORAS / GRUPO H / CARTÃO ID 29**

Para uma situação em que houvesse a opção de realizar uma viagem de **AUTO** com uma distância de **160 KM (ENTRE 1-2 HORAS)** por duas alternativas de rotas, conforme apresentado nas imagens abaixo, qual é a alternativa que você escolheria?

GRUPO H  ORDEM 2 DE 4  CARTÃO ID 30  PISTA DUPLA		
Alternativa	RODOVIA PEDAGIADA	FUGA
Tempo de Viagem	01:45	02:50
Pagamento Pedágio(s)	R\$ 19.90	SEM PEDÁGIO
Escolha	A	B

**AUTO / PISTA DUPLA / ENTRE 1-2 HORAS / GRUPO H / CARTÃO ID 30**

Para uma situação em que houvesse a opção de realizar uma viagem de **AUTO** com uma distância de **160 KM (ENTRE 1-2 HORAS)** por duas alternativas de rotas, conforme apresentado nas imagens abaixo, qual é a alternativa que você escolheria?

<p>GRUPO H</p> <p>ORDEM 3 DE 4</p> <p>CARTÃO ID 31</p> <p>PISTA DUPLA</p>		
Alternativa	RODOVIA PEDAGIADA	FUGA
Tempo de Viagem	01:35	02:50
Pagamento Pedágio(s)	R\$ 27.50	SEM PEDÁGIO
Escolha	A	B

**AUTO / PISTA DUPLA / ENTRE 1-2 HORAS / GRUPO H / CARTÃO ID 31**

Para uma situação em que houvesse a opção de realizar uma viagem de **AUTO** com uma distância de **160 KM (ENTRE 1-2 HORAS)** por duas alternativas de rotas, conforme apresentado nas imagens abaixo, qual é a alternativa que você escolheria?

<p>GRUPO H</p> <p>ORDEM 4 DE 4</p> <p>CARTÃO ID 32</p> <p>PISTA DUPLA</p>		
Alternativa	RODOVIA PEDAGIADA	FUGA
Tempo de Viagem	01:35	02:35
Pagamento Pedágio(s)	R\$ 35.20	SEM PEDÁGIO
Escolha	A	B

**AUTO / PISTA DUPLA / ENTRE 1-2 HORAS / GRUPO H / CARTÃO ID 32**



Para uma situação em que houvesse a opção de realizar uma viagem de **AUTO** com uma distância de **240 KM (ACIMA DE 2 HORAS)** por duas alternativas de rotas, conforme apresentado nas imagens abaixo, qual é a alternativa que você escolheria?

<p>GRUPO I</p> <p>ORDEM 1 DE 4</p> <p>CARTÃO ID 33</p> <p>PISTA DUPLA</p>		
Alternativa	RODOVIA PEDAGIADA	FUGA
Tempo de Viagem	02:24	03:55
Pagamento Pedágio(s)	R\$ 15.35	SEM PEDÁGIO
Escolha	A	B

**AUTO / PISTA DUPLA / ACIMA DE 2 HORAS / GRUPO I / CARTÃO ID 33**

Para uma situação em que houvesse a opção de realizar uma viagem de **AUTO** com uma distância de **240 KM (ACIMA DE 2 HORAS)** por duas alternativas de rotas, conforme apresentado nas imagens abaixo, qual é a alternativa que você escolheria?

<p>GRUPO I</p> <p>ORDEM 2 DE 4</p> <p>CARTÃO ID 34</p> <p>PISTA DUPLA</p>		
Alternativa	RODOVIA PEDAGIADA	FUGA
Tempo de Viagem	02:24	04:50
Pagamento Pedágio(s)	R\$ 44.00	SEM PEDÁGIO
Escolha	A	B

**AUTO / PISTA DUPLA / ACIMA DE 2 HORAS / GRUPO I / CARTÃO ID 34**

Para uma situação em que houvesse a opção de realizar uma viagem de **AUTO** com uma distância de **240 KM (ACIMA DE 2 HORAS)** por duas alternativas de rotas, conforme apresentado nas imagens abaixo, qual é a alternativa que você escolheria?

<p>GRUPO I</p> <p>ORDEM 3 DE 4</p> <p>CARTÃO ID 35</p> <p>PISTA DUPLA</p>		
Alternativa	RODOVIA PEDAGIADA	FUGA
Tempo de Viagem	02:40	04:20
Pagamento Pedágio(s)	R\$ 34.40	SEM PEDÁGIO
Escolha	A	B

**AUTO / PISTA DUPLA / ACIMA DE 2 HORAS / GRUPO I / CARTÃO ID 35**



Para uma situação em que houvesse a opção de realizar uma viagem de **AUTO** com uma distância de **240 KM (ACIMA DE 2 HORAS)** por duas alternativas de rotas, conforme apresentado nas imagens abaixo, qual é a alternativa que você escolheria?

GRUPO I  ORDEM 4 DE 4  CARTÃO ID 36  PISTA DUPLA		
Alternativa	RODOVIA PEDAGIADA	FUGA
Tempo de Viagem	03:00	03:55
Pagamento Pedágio(s)	R\$ 34.40	SEM PEDÁGIO
Escolha	A	B

**AUTO / PISTA DUPLA / ACIMA DE 2 HORAS / GRUPO I / CARTÃO ID 36**



Para uma situação em que houvesse a opção de realizar uma viagem de **AUTO** com uma distância de **80 KM (ATÉ 1 HORA)** por duas alternativas de rotas, conforme apresentado nas imagens abaixo, qual é a alternativa que você escolheria?

<p>GRUPO J</p> <p>ORDEM 1 DE 4</p> <p>CARTÃO ID 37</p> <p>PISTA DUPLA</p>		
Alternativa	RODOVIA PEDAGIADA	FUGA
Tempo de Viagem	00:45	01:10
Pagamento Pedágio(s)	R\$ 6.15	SEM PEDÁGIO
Escolha	A	B

**AUTO / PISTA DUPLA / ATÉ 1 HORA / GRUPO J / CARTÃO ID 37**

Para uma situação em que houvesse a opção de realizar uma viagem de **AUTO** com uma distância de **80 KM (ATÉ 1 HORA)** por duas alternativas de rotas, conforme apresentado nas imagens abaixo, qual é a alternativa que você escolheria?

<p>GRUPO J</p> <p>ORDEM 2 DE 4</p> <p>CARTÃO ID 38</p> <p>PISTA DUPLA</p>		
Alternativa	RODOVIA PEDAGIADA	FUGA
Tempo de Viagem	00:55	01:20
Pagamento Pedágio(s)	R\$ 10.00	SEM PEDÁGIO
Escolha	A	B

**AUTO / PISTA DUPLA / ATÉ 1 HORA / GRUPO J / CARTÃO ID 38**

Para uma situação em que houvesse a opção de realizar uma viagem de **AUTO** com uma distância de **80 KM (ATÉ 1 HORA)** por duas alternativas de rotas, conforme apresentado nas imagens abaixo, qual é a alternativa que você escolheria?

<p>GRUPO J</p> <p>ORDEM 3 DE 4</p> <p>CARTÃO ID 39</p> <p>PISTA DUPLA</p>		
Alternativa	RODOVIA PEDAGIADA	FUGA
Tempo de Viagem	01:00	01:35
Pagamento Pedágio(s)	R\$ 17.60	SEM PEDÁGIO
Escolha	A	B

**AUTO / PISTA DUPLA / ATÉ 1 HORA / GRUPO J / CARTÃO ID 39**

Para uma situação em que houvesse a opção de realizar uma viagem de **AUTO** com uma distância de **80 KM (ATÉ 1 HORA)** por duas alternativas de rotas, conforme apresentado nas imagens abaixo, qual é a alternativa que você escolheria?

<p>GRUPO J</p> <p>ORDEM 4 DE 4</p> <p>CARTÃO ID 40</p> <p>PISTA DUPLA</p>		
Alternativa	RODOVIA PEDAGIADA	FUGA
Tempo de Viagem	01:00	01:25
Pagamento Pedágio(s)	R\$ 17.60	SEM PEDÁGIO
Escolha	A	B

**AUTO / PISTA DUPLA / ATÉ 1 HORA / GRUPO J / CARTÃO ID 40**



Para uma situação em que houvesse a opção de realizar uma viagem de **AUTO** com uma distância de **160 KM (ENTRE 1-2 HORAS)** por duas alternativas de rotas, conforme apresentado nas imagens abaixo, qual é a alternativa que você escolheria?

<p>GRUPO K</p> <p>ORDEM 1 DE 4</p> <p>CARTÃO ID 41</p> <p>PISTA DUPLA</p>		
Alternativa	RODOVIA PEDAGIADA	FUGA
Tempo de Viagem	02:00	02:50
Pagamento Pedágio(s)	R\$ 12.30	SEM PEDÁGIO
Escolha	A	B

**AUTO / PISTA DUPLA / ENTRE 1-2 HORAS / GRUPO K / CARTÃO ID 41**

Para uma situação em que houvesse a opção de realizar uma viagem de **AUTO** com uma distância de **160 KM (ENTRE 1-2 HORAS)** por duas alternativas de rotas, conforme apresentado nas imagens abaixo, qual é a alternativa que você escolheria?

<p>GRUPO K</p> <p>ORDEM 2 DE 4</p> <p>CARTÃO ID 42</p> <p>PISTA DUPLA</p>		
Alternativa	RODOVIA PEDAGIADA	FUGA
Tempo de Viagem	01:45	03:10
Pagamento Pedágio(s)	R\$ 35.20	SEM PEDÁGIO
Escolha	A	B

**AUTO / PISTA DUPLA / ENTRE 1-2 HORAS / GRUPO K / CARTÃO ID 42**

Para uma situação em que houvesse a opção de realizar uma viagem de **AUTO** com uma distância de **160 KM (ENTRE 1-2 HORAS)** por duas alternativas de rotas, conforme apresentado nas imagens abaixo, qual é a alternativa que você escolheria?

<p>GRUPO K</p> <p>ORDEM 3 DE 4</p> <p>CARTÃO ID 43</p> <p>PISTA DUPLA</p>		
Alternativa	RODOVIA PEDAGIADA	FUGA
Tempo de Viagem	01:30	02:25
Pagamento Pedágio(s)	R\$ 27.50	SEM PEDÁGIO
Escolha	A	B

**AUTO / PISTA DUPLA / ENTRE 1-2 HORAS / GRUPO K / CARTÃO ID 43**

Para uma situação em que houvesse a opção de realizar uma viagem de **AUTO** com uma distância de **160 KM (ENTRE 1-2 HORAS)** por duas alternativas de rotas, conforme apresentado nas imagens abaixo, qual é a alternativa que você escolheria?

<p>GRUPO K</p> <p>ORDEM 4 DE 4</p> <p>CARTÃO ID 44</p> <p>PISTA DUPLA</p>		
Alternativa	RODOVIA PEDAGIADA	FUGA
Tempo de Viagem	02:00	02:25
Pagamento Pedágio(s)	R\$ 19.90	SEM PEDÁGIO
Escolha	A	B

**AUTO / PISTA DUPLA / ENTRE 1-2 HORAS / GRUPO K / CARTÃO ID 44**



Para uma situação em que houvesse a opção de realizar uma viagem de **AUTO** com uma distância de **240 KM (ACIMA DE 2 HORAS)** por duas alternativas de rotas, conforme apresentado nas imagens abaixo, qual é a alternativa que você escolheria?

GRUPO L  ORDEM 1 DE 4  CARTÃO ID 45  PISTA DUPLA		
Alternativa	RODOVIA PEDAGIADA	FUGA
Tempo de Viagem	03:00	04:50
Pagamento Pedágio(s)	R\$ 24.90	SEM PEDÁGIO
Escolha	A	B

**AUTO / PISTA DUPLA / ACIMA DE 2 HORAS / GRUPO L / CARTÃO ID 45**

Para uma situação em que houvesse a opção de realizar uma viagem de **AUTO** com uma distância de **240 KM (ACIMA DE 2 HORAS)** por duas alternativas de rotas, conforme apresentado nas imagens abaixo, qual é a alternativa que você escolheria?

GRUPO L  ORDEM 2 DE 4  CARTÃO ID 46  PISTA DUPLA		
Alternativa	RODOVIA PEDAGIADA	FUGA
Tempo de Viagem	03:00	03:35
Pagamento Pedágio(s)	R\$ 15.35	SEM PEDÁGIO
Escolha	A	B

**AUTO / PISTA DUPLA / ACIMA DE 2 HORAS / GRUPO L / CARTÃO ID 46**

Para uma situação em que houvesse a opção de realizar uma viagem de **AUTO** com uma distância de **240 KM (ACIMA DE 2 HORAS)** por duas alternativas de rotas, conforme apresentado nas imagens abaixo, qual é a alternativa que você escolheria?

GRUPO L  ORDEM 3 DE 4  CARTÃO ID 47  PISTA DUPLA		
Alternativa	RODOVIA PEDAGIADA	FUGA
Tempo de Viagem	02:24	03:55
Pagamento Pedágio(s)	R\$ 44.00	SEM PEDÁGIO
Escolha	A	B

**AUTO / PISTA DUPLA / ACIMA DE 2 HORAS / GRUPO L / CARTÃO ID 47**

Para uma situação em que houvesse a opção de realizar uma viagem de **AUTO** com uma distância de **240 KM (ACIMA DE 2 HORAS)** por duas alternativas de rotas, conforme apresentado nas imagens abaixo, qual é a alternativa que você escolheria?

GRUPO L  ORDEM 4 DE 4  CARTÃO ID 48  PISTA DUPLA		
Alternativa	RODOVIA PEDAGIADA	FUGA
Tempo de Viagem	03:00	03:55
Pagamento Pedágio(s)	R\$ 44.00	SEM PEDÁGIO
Escolha	A	B

**AUTO / PISTA DUPLA / ACIMA DE 2 HORAS / GRUPO L / CARTÃO ID 48**