

Para uma situação em que houvesse a opção de realizar uma viagem de **CAMINHÃO 2 EIXOS** com uma distância de **80 KM (ATÉ 1 HORA)** por duas alternativas de rotas, conforme apresentado nas imagens abaixo, qual é a alternativa que você escolheria?

<p>GRUPO 2A</p> <p>ORDEM 1 DE 4</p> <p>CARTÃO ID 1</p> <p>PISTA SIMPLES</p>		
Alternativa	RODOVIA PEDAGIADA	FUGA
Tempo de Viagem	00:55	01:35
Pagamento Pedágio(s)	R\$ 12.30	SEM PEDÁGIO
Escolha	A	B

CAMINHÃO 2 EIXOS / PISTA SIMPLES / ATÉ 1 HORA / GRUPO 2A / CARTÃO ID 1

Para uma situação em que houvesse a opção de realizar uma viagem de **CAMINHÃO 2 EIXOS** com uma distância de **80 KM (ATÉ 1 HORA)** por duas alternativas de rotas, conforme apresentado nas imagens abaixo, qual é a alternativa que você escolheria?

<p>GRUPO 2A</p> <p>ORDEM 2 DE 4</p> <p>CARTÃO ID 2</p> <p>PISTA SIMPLES</p>		
Alternativa	RODOVIA PEDAGIADA	FUGA
Tempo de Viagem	00:55	01:20
Pagamento Pedágio(s)	R\$ 12.30	SEM PEDÁGIO
Escolha	A	B

CAMINHÃO 2 EIXOS / PISTA SIMPLES / ATÉ 1 HORA / GRUPO 2A / CARTÃO ID 2

Para uma situação em que houvesse a opção de realizar uma viagem de **CAMINHÃO 2 EIXOS** com uma distância de **80 KM (ATÉ 1 HORA)** por duas alternativas de rotas, conforme apresentado nas imagens abaixo, qual é a alternativa que você escolheria?

<p>GRUPO 2A</p> <p>ORDEM 3 DE 4</p> <p>CARTÃO ID 3</p> <p>PISTA SIMPLES</p>		
Alternativa	RODOVIA PEDAGIADA	FUGA
Tempo de Viagem	00:55	01:35
Pagamento Pedágio(s)	R\$ 27.50	SEM PEDÁGIO
Escolha	A	B

CAMINHÃO 2 EIXOS / PISTA SIMPLES / ATÉ 1 HORA / GRUPO 2A / CARTÃO ID 3

Para uma situação em que houvesse a opção de realizar uma viagem de **CAMINHÃO 2 EIXOS** com uma distância de **80 KM (ATÉ 1 HORA)** por duas alternativas de rotas, conforme apresentado nas imagens abaixo, qual é a alternativa que você escolheria?

<p>GRUPO 2A</p> <p>ORDEM 4 DE 4</p> <p>CARTÃO ID 4</p> <p>PISTA SIMPLES</p>		
Alternativa	RODOVIA PEDAGIADA	FUGA
Tempo de Viagem	00:45	01:25
Pagamento Pedágio(s)	R\$ 35.20	SEM PEDÁGIO
Escolha	A	B

CAMINHÃO 2 EIXOS / PISTA SIMPLES / ATÉ 1 HORA / GRUPO 2A / CARTÃO ID 4

Para uma situação em que houvesse a opção de realizar uma viagem de **CAMINHÃO 2 EIXOS** com uma distância de **80 KM (ATÉ 1 HORA)** por duas alternativas de rotas, conforme apresentado nas imagens abaixo, qual é a alternativa que você escolheria?

<p>GRUPO 2B</p> <p>ORDEM 1 DE 4</p> <p>CARTÃO ID 5</p> <p>PISTA SIMPLES</p>		
Alternativa	RODOVIA PEDAGIADA	FUGA
Tempo de Viagem	00:55	01:25
Pagamento Pedágio(s)	R\$ 12.30	SEM PEDÁGIO
Escolha	A	B

CAMINHÃO 2 EIXOS / PISTA SIMPLES / ATÉ 1 HORA / GRUPO 2B / CARTÃO ID 5

Para uma situação em que houvesse a opção de realizar uma viagem de **CAMINHÃO 2 EIXOS** com uma distância de **80 KM (ATÉ 1 HORA)** por duas alternativas de rotas, conforme apresentado nas imagens abaixo, qual é a alternativa que você escolheria?

<p>GRUPO 2B</p> <p>ORDEM 2 DE 4</p> <p>CARTÃO ID 6</p> <p>PISTA SIMPLES</p>		
Alternativa	RODOVIA PEDAGIADA	FUGA
Tempo de Viagem	00:45	01:20
Pagamento Pedágio(s)	R\$ 19.90	SEM PEDÁGIO
Escolha	A	B

CAMINHÃO 2 EIXOS / PISTA SIMPLES / ATÉ 1 HORA / GRUPO 2B / CARTÃO ID 6

Para uma situação em que houvesse a opção de realizar uma viagem de **CAMINHÃO 2 EIXOS** com uma distância de **80 KM (ATÉ 1 HORA)** por duas alternativas de rotas, conforme apresentado nas imagens abaixo, qual é a alternativa que você escolheria?

<p>GRUPO 2B</p> <p>ORDEM 3 DE 4</p> <p>CARTÃO ID 7</p> <p>PISTA SIMPLES</p>		
Alternativa	RODOVIA PEDAGIADA	FUGA
Tempo de Viagem	01:00	01:35
Pagamento Pedágio(s)	R\$ 27.50	SEM PEDÁGIO
Escolha	A	B

CAMINHÃO 2 EIXOS / PISTA SIMPLES / ATÉ 1 HORA / GRUPO 2B / CARTÃO ID 7

Para uma situação em que houvesse a opção de realizar uma viagem de **CAMINHÃO 2 EIXOS** com uma distância de **80 KM (ATÉ 1 HORA)** por duas alternativas de rotas, conforme apresentado nas imagens abaixo, qual é a alternativa que você escolheria?

GRUPO 2B ORDEM 4 DE 4 CARTÃO ID 8 PISTA SIMPLES		
Alternativa	RODOVIA PEDAGIADA	FUGA
Tempo de Viagem	01:00	01:20
Pagamento Pedágio(s)	R\$ 19.90	SEM PEDÁGIO
Escolha	A	B

CAMINHÃO 2 EIXOS / PISTA SIMPLES / ATÉ 1 HORA / GRUPO 2B / CARTÃO ID 8

Para uma situação em que houvesse a opção de realizar uma viagem de **CAMINHÃO 2 EIXOS** com uma distância de **80 KM (ATÉ 1 HORA)** por duas alternativas de rotas, conforme apresentado nas imagens abaixo, qual é a alternativa que você escolheria?

<p>GRUPO 2C</p> <p>ORDEM 1 DE 4</p> <p>CARTÃO ID 9</p> <p>PISTA DUPLA</p>		
Alternativa	RODOVIA PEDAGIADA	FUGA
Tempo de Viagem	00:50	01:25
Pagamento Pedágio(s)	R\$ 12.30	SEM PEDÁGIO
Escolha	A	B

CAMINHÃO 2 EIXOS / PISTA DUPLA / ATÉ 1 HORA / GRUPO 2C / CARTÃO ID 9

Para uma situação em que houvesse a opção de realizar uma viagem de **CAMINHÃO 2 EIXOS** com uma distância de **80 KM (ATÉ 1 HORA)** por duas alternativas de rotas, conforme apresentado nas imagens abaixo, qual é a alternativa que você escolheria?

<p>GRUPO 2C</p> <p>ORDEM 2 DE 4</p> <p>CARTÃO ID 10</p> <p>PISTA DUPLA</p>		
Alternativa	RODOVIA PEDAGIADA	FUGA
Tempo de Viagem	00:55	01:35
Pagamento Pedágio(s)	R\$ 19.90	SEM PEDÁGIO
Escolha	A	B

CAMINHÃO 2 EIXOS / PISTA DUPLA / ATÉ 1 HORA / GRUPO 2C / CARTÃO ID 10

Para uma situação em que houvesse a opção de realizar uma viagem de **CAMINHÃO 2 EIXOS** com uma distância de **80 KM (ATÉ 1 HORA)** por duas alternativas de rotas, conforme apresentado nas imagens abaixo, qual é a alternativa que você escolheria?

<p>GRUPO 2C</p> <p>ORDEM 3 DE 4</p> <p>CARTÃO ID 11</p> <p>PISTA DUPLA</p>		
Alternativa	RODOVIA PEDAGIADA	FUGA
Tempo de Viagem	00:45	01:35
Pagamento Pedágio(s)	R\$ 35.20	SEM PEDÁGIO
Escolha	A	B

CAMINHÃO 2 EIXOS / PISTA DUPLA / ATÉ 1 HORA / GRUPO 2C / CARTÃO ID 11

Para uma situação em que houvesse a opção de realizar uma viagem de **CAMINHÃO 2 EIXOS** com uma distância de **80 KM (ATÉ 1 HORA)** por duas alternativas de rotas, conforme apresentado nas imagens abaixo, qual é a alternativa que você escolheria?

<p>GRUPO 2C</p> <p>ORDEM 4 DE 4</p> <p>CARTÃO ID 12</p> <p>PISTA DUPLA</p>		
Alternativa	RODOVIA PEDAGIADA	FUGA
Tempo de Viagem	00:50	01:20
Pagamento Pedágio(s)	R\$ 27.50	SEM PEDÁGIO
Escolha	A	B

CAMINHÃO 2 EIXOS / PISTA DUPLA / ATÉ 1 HORA / GRUPO 2C / CARTÃO ID 12

Para uma situação em que houvesse a opção de realizar uma viagem de **CAMINHÃO 2 EIXOS** com uma distância de **80 KM (ATÉ 1 HORA)** por duas alternativas de rotas, conforme apresentado nas imagens abaixo, qual é a alternativa que você escolheria?

<p>GRUPO 2D</p> <p>ORDEM 1 DE 4</p> <p>CARTÃO ID 13</p> <p>PISTA DUPLA</p>		
Alternativa	RODOVIA PEDAGIADA	FUGA
Tempo de Viagem	00:50	01:35
Pagamento Pedágio(s)	R\$ 19.90	SEM PEDÁGIO
Escolha	A	B

CAMINHÃO 2 EIXOS / PISTA DUPLA / ATÉ 1 HORA / GRUPO 2D / CARTÃO ID 13

Para uma situação em que houvesse a opção de realizar uma viagem de **CAMINHÃO 2 EIXOS** com uma distância de **80 KM (ATÉ 1 HORA)** por duas alternativas de rotas, conforme apresentado nas imagens abaixo, qual é a alternativa que você escolheria?

<p>GRUPO 2D</p> <p>ORDEM 2 DE 4</p> <p>CARTÃO ID 14</p> <p>PISTA DUPLA</p>		
Alternativa	RODOVIA PEDAGIADA	FUGA
Tempo de Viagem	01:00	01:20
Pagamento Pedágio(s)	R\$ 12.30	SEM PEDÁGIO
Escolha	A	B

CAMINHÃO 2 EIXOS / PISTA DUPLA / ATÉ 1 HORA / GRUPO 2D / CARTÃO ID 14

Para uma situação em que houvesse a opção de realizar uma viagem de **CAMINHÃO 2 EIXOS** com uma distância de **80 KM (ATÉ 1 HORA)** por duas alternativas de rotas, conforme apresentado nas imagens abaixo, qual é a alternativa que você escolheria?

<p>GRUPO 2D</p> <p>ORDEM 3 DE 4</p> <p>CARTÃO ID 15</p> <p>PISTA DUPLA</p>		
Alternativa	RODOVIA PEDAGIADA	FUGA
Tempo de Viagem	00:45	01:10
Pagamento Pedágio(s)	R\$ 19.90	SEM PEDÁGIO
Escolha	A	B

CAMINHÃO 2 EIXOS / PISTA DUPLA / ATÉ 1 HORA / GRUPO 2D / CARTÃO ID 15

Para uma situação em que houvesse a opção de realizar uma viagem de **CAMINHÃO 2 EIXOS** com uma distância de **80 KM (ATÉ 1 HORA)** por duas alternativas de rotas, conforme apresentado nas imagens abaixo, qual é a alternativa que você escolheria?

<p>GRUPO 2D</p> <p>ORDEM 4 DE 4</p> <p>CARTÃO ID 16</p> <p>PISTA DUPLA</p>		
Alternativa	RODOVIA PEDAGIADA	FUGA
Tempo de Viagem	00:50	01:10
Pagamento Pedágio(s)	R\$ 19.90	SEM PEDÁGIO
Escolha	A	B

CAMINHÃO 2 EIXOS / PISTA DUPLA / ATÉ 1 HORA / GRUPO 2D / CARTÃO ID 16

Para uma situação em que houvesse a opção de realizar uma viagem de **CAMINHÃO 2 EIXOS** com uma distância de **160 KM (ENTRE 1-2 HORAS)** por duas alternativas de rotas, conforme apresentado nas imagens abaixo, qual é a alternativa que você escolheria?

<p>GRUPO 2E</p> <p>ORDEM 1 DE 4</p> <p>CARTÃO ID 17</p> <p>PISTA SIMPLES</p>		
Alternativa	RODOVIA PEDAGIADA	FUGA
Tempo de Viagem	01:35	03:10
Pagamento Pedágio(s)	R\$ 24.50	SEM PEDÁGIO
Escolha	A	B

CAMINHÃO 2 EIXOS / PISTA SIMPLES / ENTRE 1-2 HORAS / GRUPO 2E / CARTÃO ID 17

Para uma situação em que houvesse a opção de realizar uma viagem de **CAMINHÃO 2 EIXOS** com uma distância de **160 KM (ENTRE 1-2 HORAS)** por duas alternativas de rotas, conforme apresentado nas imagens abaixo, qual é a alternativa que você escolheria?

<p>GRUPO 2E</p> <p>ORDEM 2 DE 4</p> <p>CARTÃO ID 18</p> <p>PISTA SIMPLES</p>		
Alternativa	RODOVIA PEDAGIADA	FUGA
Tempo de Viagem	01:45	03:10
Pagamento Pedágio(s)	R\$ 40.00	SEM PEDÁGIO
Escolha	A	B

CAMINHÃO 2 EIXOS / PISTA SIMPLES / ENTRE 1-2 HORAS / GRUPO 2E / CARTÃO ID 18

Para uma situação em que houvesse a opção de realizar uma viagem de **CAMINHÃO 2 EIXOS** com uma distância de **160 KM (ENTRE 1-2 HORAS)** por duas alternativas de rotas, conforme apresentado nas imagens abaixo, qual é a alternativa que você escolheria?

<p>GRUPO 2E</p> <p>ORDEM 3 DE 4</p> <p>CARTÃO ID 19</p> <p>PISTA SIMPLES</p>		
Alternativa	RODOVIA PEDAGIADA	FUGA
Tempo de Viagem	01:30	02:50
Pagamento Pedágio(s)	R\$ 55.00	SEM PEDÁGIO
Escolha	A	B

CAMINHÃO 2 EIXOS / PISTA SIMPLES / ENTRE 1-2 HORAS / GRUPO 2E / CARTÃO ID 19

Para uma situação em que houvesse a opção de realizar uma viagem de **CAMINHÃO 2 EIXOS** com uma distância de **160 KM (ENTRE 1-2 HORAS)** por duas alternativas de rotas, conforme apresentado nas imagens abaixo, qual é a alternativa que você escolheria?

<p>GRUPO 2E</p> <p>ORDEM 4 DE 4</p> <p>CARTÃO ID 20</p> <p>PISTA SIMPLES</p>		
Alternativa	RODOVIA PEDAGIADA	FUGA
Tempo de Viagem	01:30	02:35
Pagamento Pedágio(s)	R\$ 55.00	SEM PEDÁGIO
Escolha	A	B

CAMINHÃO 2 EIXOS / PISTA SIMPLES / ENTRE 1-2 HORAS / GRUPO 2E / CARTÃO ID 20

Para uma situação em que houvesse a opção de realizar uma viagem de **CAMINHÃO 2 EIXOS** com uma distância de **160 KM (ENTRE 1-2 HORAS)** por duas alternativas de rotas, conforme apresentado nas imagens abaixo, qual é a alternativa que você escolheria?

<p>GRUPO 2F</p> <p>ORDEM 1 DE 4</p> <p>CARTÃO ID 21</p> <p>PISTA SIMPLES</p>		
Alternativa	RODOVIA PEDAGIADA	FUGA
Tempo de Viagem	01:45	02:50
Pagamento Pedágio(s)	R\$ 24.50	SEM PEDÁGIO
Escolha	A	B

CAMINHÃO 2 EIXOS / PISTA SIMPLES / ENTRE 1-2 HORAS / GRUPO 2F / CARTÃO ID 21

Para uma situação em que houvesse a opção de realizar uma viagem de **CAMINHÃO 2 EIXOS** com uma distância de **160 KM (ENTRE 1-2 HORAS)** por duas alternativas de rotas, conforme apresentado nas imagens abaixo, qual é a alternativa que você escolheria?

<p>GRUPO 2F</p> <p>ORDEM 2 DE 4</p> <p>CARTÃO ID 22</p> <p>PISTA SIMPLES</p>		
Alternativa	RODOVIA PEDAGIADA	FUGA
Tempo de Viagem	02:00	03:10
Pagamento Pedágio(s)	R\$ 40.00	SEM PEDÁGIO
Escolha	A	B

CAMINHÃO 2 EIXOS / PISTA SIMPLES / ENTRE 1-2 HORAS / GRUPO 2F / CARTÃO ID 22

Para uma situação em que houvesse a opção de realizar uma viagem de **CAMINHÃO 2 EIXOS** com uma distância de **160 KM (ENTRE 1-2 HORAS)** por duas alternativas de rotas, conforme apresentado nas imagens abaixo, qual é a alternativa que você escolheria?

<p>GRUPO 2F</p> <p>ORDEM 3 DE 4</p> <p>CARTÃO ID 23</p> <p>PISTA SIMPLES</p>		
Alternativa	RODOVIA PEDAGIADA	FUGA
Tempo de Viagem	01:35	03:10
Pagamento Pedágio(s)	R\$ 70.50	SEM PEDÁGIO
Escolha	A	B


CAMINHÃO 2 EIXOS / PISTA SIMPLES / ENTRE 1-2 HORAS / GRUPO 2F / CARTÃO ID 23

Para uma situação em que houvesse a opção de realizar uma viagem de **CAMINHÃO 2 EIXOS** com uma distância de **160 KM (ENTRE 1-2 HORAS)** por duas alternativas de rotas, conforme apresentado nas imagens abaixo, qual é a alternativa que você escolheria?

GRUPO 2F ORDEM 4 DE 4 CARTÃO ID 24 PISTA SIMPLES		
Alternativa	RODOVIA PEDAGIADA	FUGA
Tempo de Viagem	02:00	02:25
Pagamento Pedágio(s)	R\$ 24.50	SEM PEDÁGIO
Escolha	A	B


CAMINHÃO 2 EIXOS / PISTA SIMPLES / ENTRE 1-2 HORAS / GRUPO 2F / CARTÃO ID 24

Para uma situação em que houvesse a opção de realizar uma viagem de **CAMINHÃO 2 EIXOS** com uma distância de **160 KM (ENTRE 1-2 HORAS)** por duas alternativas de rotas, conforme apresentado nas imagens abaixo, qual é a alternativa que você escolheria?

<p>GRUPO 2G</p> <p>ORDEM 1 DE 4</p> <p>CARTÃO ID 25</p> <p>PISTA DUPLA</p>		
Alternativa	RODOVIA PEDAGIADA	FUGA
Tempo de Viagem	01:35	02:50
Pagamento Pedágio(s)	R\$ 24.50	SEM PEDÁGIO
Escolha	A	B

CAMINHÃO 2 EIXOS / PISTA DUPLA / ENTRE 1-2 HORAS / GRUPO 2G / CARTÃO ID 25

Para uma situação em que houvesse a opção de realizar uma viagem de **CAMINHÃO 2 EIXOS** com uma distância de **160 KM (ENTRE 1-2 HORAS)** por duas alternativas de rotas, conforme apresentado nas imagens abaixo, qual é a alternativa que você escolheria?

<p>GRUPO 2G</p> <p>ORDEM 2 DE 4</p> <p>CARTÃO ID 26</p> <p>PISTA DUPLA</p>		
Alternativa	RODOVIA PEDAGIADA	FUGA
Tempo de Viagem	01:45	02:35
Pagamento Pedágio(s)	R\$ 24.50	SEM PEDÁGIO
Escolha	A	B

CAMINHÃO 2 EIXOS / PISTA DUPLA / ENTRE 1-2 HORAS / GRUPO 2G / CARTÃO ID 26

Para uma situação em que houvesse a opção de realizar uma viagem de **CAMINHÃO 2 EIXOS** com uma distância de **160 KM (ENTRE 1-2 HORAS)** por duas alternativas de rotas, conforme apresentado nas imagens abaixo, qual é a alternativa que você escolheria?

<p>GRUPO 2G</p> <p>ORDEM 3 DE 4</p> <p>CARTÃO ID 27</p> <p>PISTA DUPLA</p>		
Alternativa	RODOVIA PEDAGIADA	FUGA
Tempo de Viagem	01:30	02:25
Pagamento Pedágio(s)	R\$ 40.00	SEM PEDÁGIO
Escolha	A	B

CAMINHÃO 2 EIXOS / PISTA DUPLA / ENTRE 1-2 HORAS / GRUPO 2G / CARTÃO ID 27

Para uma situação em que houvesse a opção de realizar uma viagem de **CAMINHÃO 2 EIXOS** com uma distância de **160 KM (ENTRE 1-2 HORAS)** por duas alternativas de rotas, conforme apresentado nas imagens abaixo, qual é a alternativa que você escolheria?

<p>GRUPO 2G</p> <p>ORDEM 4 DE 4</p> <p>CARTÃO ID 28</p> <p>PISTA DUPLA</p>		
Alternativa	RODOVIA PEDAGIADA	FUGA
Tempo de Viagem	01:35	02:35
Pagamento Pedágio(s)	R\$ 55.00	SEM PEDÁGIO
Escolha	A	B

CAMINHÃO 2 EIXOS / PISTA DUPLA / ENTRE 1-2 HORAS / GRUPO 2G / CARTÃO ID 28

Para uma situação em que houvesse a opção de realizar uma viagem de **CAMINHÃO 2 EIXOS** com uma distância de **160 KM (ENTRE 1-2 HORAS)** por duas alternativas de rotas, conforme apresentado nas imagens abaixo, qual é a alternativa que você escolheria?

<p>GRUPO 2H</p> <p>ORDEM 1 DE 4</p> <p>CARTÃO ID 29</p> <p>PISTA DUPLA</p>		
Alternativa	RODOVIA PEDAGIADA	FUGA
Tempo de Viagem	01:35	03:10
Pagamento Pedágio(s)	R\$ 40.00	SEM PEDÁGIO
Escolha	A	B

CAMINHÃO 2 EIXOS / PISTA DUPLA / ENTRE 1-2 HORAS / GRUPO 2H / CARTÃO ID 29

Para uma situação em que houvesse a opção de realizar uma viagem de **CAMINHÃO 2 EIXOS** com uma distância de **160 KM (ENTRE 1-2 HORAS)** por duas alternativas de rotas, conforme apresentado nas imagens abaixo, qual é a alternativa que você escolheria?

<p>GRUPO 2H</p> <p>ORDEM 2 DE 4</p> <p>CARTÃO ID 30</p> <p>PISTA DUPLA</p>		
Alternativa	RODOVIA PEDAGIADA	FUGA
Tempo de Viagem	01:45	02:50
Pagamento Pedágio(s)	R\$ 40.00	SEM PEDÁGIO
Escolha	A	B

CAMINHÃO 2 EIXOS / PISTA DUPLA / ENTRE 1-2 HORAS / GRUPO 2H / CARTÃO ID 30

Para uma situação em que houvesse a opção de realizar uma viagem de **CAMINHÃO 2 EIXOS** com uma distância de **160 KM (ENTRE 1-2 HORAS)** por duas alternativas de rotas, conforme apresentado nas imagens abaixo, qual é a alternativa que você escolheria?

<p>GRUPO 2H</p> <p>ORDEM 3 DE 4</p> <p>CARTÃO ID 31</p> <p>PISTA DUPLA</p>		
Alternativa	RODOVIA PEDAGIADA	FUGA
Tempo de Viagem	01:45	03:10
Pagamento Pedágio(s)	R\$ 70.50	SEM PEDÁGIO
Escolha	A	B

CAMINHÃO 2 EIXOS / PISTA DUPLA / ENTRE 1-2 HORAS / GRUPO 2H / CARTÃO ID 31

Para uma situação em que houvesse a opção de realizar uma viagem de **CAMINHÃO 2 EIXOS** com uma distância de **160 KM (ENTRE 1-2 HORAS)** por duas alternativas de rotas, conforme apresentado nas imagens abaixo, qual é a alternativa que você escolheria?

<p>GRUPO 2H</p> <p>ORDEM 4 DE 4</p> <p>CARTÃO ID 32</p> <p>PISTA DUPLA</p>		
Alternativa	RODOVIA PEDAGIADA	FUGA
Tempo de Viagem	01:45	02:25
Pagamento Pedágio(s)	R\$ 40.00	SEM PEDÁGIO
Escolha	A	B

CAMINHÃO 2 EIXOS / PISTA DUPLA / ENTRE 1-2 HORAS / GRUPO 2H / CARTÃO ID 32

Para uma situação em que houvesse a opção de realizar uma viagem de **CAMINHÃO 2 EIXOS** com uma distância de **240 KM (ACIMA DE 2 HORAS)** por duas alternativas de rotas, conforme apresentado nas imagens abaixo, qual é a alternativa que você escolheria?

<p>GRUPO 21</p> <p>ORDEM 1 DE 4</p> <p>CARTÃO ID 33</p> <p>PISTA SIMPLES</p>		
Alternativa	RODOVIA PEDAGIADA	FUGA
Tempo de Viagem	02:40	04:50
Pagamento Pedágio(s)	R\$ 30.50	SEM PEDÁGIO
Escolha	A	B

CAMINHÃO 2 EIXOS / PISTA SIMPLES / ACIMA DE 2 HORAS / GRUPO 21 / CARTÃO ID 33

Para uma situação em que houvesse a opção de realizar uma viagem de **CAMINHÃO 2 EIXOS** com uma distância de **240 KM (ACIMA DE 2 HORAS)** por duas alternativas de rotas, conforme apresentado nas imagens abaixo, qual é a alternativa que você escolheria?

<p>GRUPO 21</p> <p>ORDEM 2 DE 4</p> <p>CARTÃO ID 34</p> <p>PISTA SIMPLES</p>		
Alternativa	RODOVIA PEDAGIADA	FUGA
Tempo de Viagem	02:24	04:50
Pagamento Pedágio(s)	R\$ 69.00	SEM PEDÁGIO
Escolha	A	B

CAMINHÃO 2 EIXOS / PISTA SIMPLES / ACIMA DE 2 HORAS / GRUPO 21 / CARTÃO ID 34

Para uma situação em que houvesse a opção de realizar uma viagem de **CAMINHÃO 2 EIXOS** com uma distância de **240 KM (ACIMA DE 2 HORAS)** por duas alternativas de rotas, conforme apresentado nas imagens abaixo, qual é a alternativa que você escolheria?

<p>GRUPO 21</p> <p>ORDEM 3 DE 4</p> <p>CARTÃO ID 35</p> <p>PISTA SIMPLES</p>		
Alternativa	RODOVIA PEDAGIADA	FUGA
Tempo de Viagem	02:40	03:55
Pagamento Pedágio(s)	R\$ 50.00	SEM PEDÁGIO
Escolha	A	B

CAMINHÃO 2 EIXOS / PISTA SIMPLES / ACIMA DE 2 HORAS / GRUPO 21 / CARTÃO ID 35

Para uma situação em que houvesse a opção de realizar uma viagem de **CAMINHÃO 2 EIXOS** com uma distância de **240 KM (ACIMA DE 2 HORAS)** por duas alternativas de rotas, conforme apresentado nas imagens abaixo, qual é a alternativa que você escolheria?

<p>GRUPO 21</p> <p>ORDEM 4 DE 4</p> <p>CARTÃO ID 36</p> <p>PISTA SIMPLES</p>		
Alternativa	RODOVIA PEDAGIADA	FUGA
Tempo de Viagem	02:40	04:20
Pagamento Pedágio(s)	R\$ 88.00	SEM PEDÁGIO
Escolha	A	B

CAMINHÃO 2 EIXOS / PISTA SIMPLES / ACIMA DE 2 HORAS / GRUPO 21 / CARTÃO ID 36

Para uma situação em que houvesse a opção de realizar uma viagem de **CAMINHÃO 2 EIXOS** com uma distância de **240 KM (ACIMA DE 2 HORAS)** por duas alternativas de rotas, conforme apresentado nas imagens abaixo, qual é a alternativa que você escolheria?

GRUPO 2J ORDEM 1 DE 4 CARTÃO ID 37 PISTA SIMPLES		
Alternativa	RODOVIA PEDAGIADA	FUGA
Tempo de Viagem	03:00	04:20
Pagamento Pedágio(s)	R\$ 30.50	SEM PEDÁGIO
Escolha	A	B

CAMINHÃO 2 EIXOS / PISTA SIMPLES / ACIMA DE 2 HORAS / GRUPO 2J / CARTÃO ID 37

Para uma situação em que houvesse a opção de realizar uma viagem de **CAMINHÃO 2 EIXOS** com uma distância de **240 KM (ACIMA DE 2 HORAS)** por duas alternativas de rotas, conforme apresentado nas imagens abaixo, qual é a alternativa que você escolheria?

<p>GRUPO 2J</p> <p>ORDEM 2 DE 4</p> <p>CARTÃO ID 38</p> <p>PISTA SIMPLES</p>		
Alternativa	RODOVIA PEDAGIADA	FUGA
Tempo de Viagem	03:00	03:55
Pagamento Pedágio(s)	R\$ 30.50	SEM PEDÁGIO
Escolha	A	B

CAMINHÃO 2 EIXOS / PISTA SIMPLES / ACIMA DE 2 HORAS / GRUPO 2J / CARTÃO ID 38

Para uma situação em que houvesse a opção de realizar uma viagem de **CAMINHÃO 2 EIXOS** com uma distância de **240 KM (ACIMA DE 2 HORAS)** por duas alternativas de rotas, conforme apresentado nas imagens abaixo, qual é a alternativa que você escolheria?

<p>GRUPO 2J</p> <p>ORDEM 3 DE 4</p> <p>CARTÃO ID 39</p> <p>PISTA SIMPLES</p>		
Alternativa	RODOVIA PEDAGIADA	FUGA
Tempo de Viagem	02:24	04:20
Pagamento Pedágio(s)	R\$ 88.00	SEM PEDÁGIO
Escolha	A	B

CAMINHÃO 2 EIXOS / PISTA SIMPLES / ACIMA DE 2 HORAS / GRUPO 2J / CARTÃO ID 39

Para uma situação em que houvesse a opção de realizar uma viagem de **CAMINHÃO 2 EIXOS** com uma distância de **240 KM (ACIMA DE 2 HORAS)** por duas alternativas de rotas, conforme apresentado nas imagens abaixo, qual é a alternativa que você escolheria?

<p>GRUPO 2J</p> <p>ORDEM 4 DE 4</p> <p>CARTÃO ID 40</p> <p>PISTA SIMPLES</p>		
Alternativa	RODOVIA PEDAGIADA	FUGA
Tempo de Viagem	02:24	03:55
Pagamento Pedágio(s)	R\$ 88.00	SEM PEDÁGIO
Escolha	A	B

CAMINHÃO 2 EIXOS / PISTA SIMPLES / ACIMA DE 2 HORAS / GRUPO 2J / CARTÃO ID 40

Para uma situação em que houvesse a opção de realizar uma viagem de **CAMINHÃO 2 EIXOS** com uma distância de **240 KM (ACIMA DE 2 HORAS)** por duas alternativas de rotas, conforme apresentado nas imagens abaixo, qual é a alternativa que você escolheria?

GRUPO 2K ORDEM 1 DE 4 CARTÃO ID 41 PISTA DUPLA		
Alternativa	RODOVIA PEDAGIADA	FUGA
Tempo de Viagem	02:40	04:20
Pagamento Pedágio(s)	R\$ 30.50	SEM PEDÁGIO
Escolha	A	B

CAMINHÃO 2 EIXOS / PISTA DUPLA / ACIMA DE 2 HORAS / GRUPO 2K / CARTÃO ID 41

Para uma situação em que houvesse a opção de realizar uma viagem de **CAMINHÃO 2 EIXOS** com uma distância de **240 KM (ACIMA DE 2 HORAS)** por duas alternativas de rotas, conforme apresentado nas imagens abaixo, qual é a alternativa que você escolheria?

<p>GRUPO 2K</p> <p>ORDEM 2 DE 4</p> <p>CARTÃO ID 42</p> <p>PISTA DUPLA</p>		
Alternativa	RODOVIA PEDAGIADA	FUGA
Tempo de Viagem	02:40	04:50
Pagamento Pedágio(s)	R\$ 69.00	SEM PEDÁGIO
Escolha	A	B

CAMINHÃO 2 EIXOS / PISTA DUPLA / ACIMA DE 2 HORAS / GRUPO 2K / CARTÃO ID 42

Para uma situação em que houvesse a opção de realizar uma viagem de **CAMINHÃO 2 EIXOS** com uma distância de **240 KM (ACIMA DE 2 HORAS)** por duas alternativas de rotas, conforme apresentado nas imagens abaixo, qual é a alternativa que você escolheria?

<p>GRUPO 2K</p> <p>ORDEM 3 DE 4</p> <p>CARTÃO ID 43</p> <p>PISTA DUPLA</p>		
Alternativa	RODOVIA PEDAGIADA	FUGA
Tempo de Viagem	02:40	04:20
Pagamento Pedágio(s)	R\$ 69.00	SEM PEDÁGIO
Escolha	A	B

CAMINHÃO 2 EIXOS / PISTA DUPLA / ACIMA DE 2 HORAS / GRUPO 2K / CARTÃO ID 43

Para uma situação em que houvesse a opção de realizar uma viagem de **CAMINHÃO 2 EIXOS** com uma distância de **240 KM (ACIMA DE 2 HORAS)** por duas alternativas de rotas, conforme apresentado nas imagens abaixo, qual é a alternativa que você escolheria?

<p>GRUPO 2K</p> <p>ORDEM 4 DE 4</p> <p>CARTÃO ID 44</p> <p>PISTA DUPLA</p>		
Alternativa	RODOVIA PEDAGIADA	FUGA
Tempo de Viagem	02:40	03:35
Pagamento Pedágio(s)	R\$ 50.00	SEM PEDÁGIO
Escolha	A	B

CAMINHÃO 2 EIXOS / PISTA DUPLA / ACIMA DE 2 HORAS / GRUPO 2K / CARTÃO ID 44

Para uma situação em que houvesse a opção de realizar uma viagem de **CAMINHÃO 2 EIXOS** com uma distância de **240 KM (ACIMA DE 2 HORAS)** por duas alternativas de rotas, conforme apresentado nas imagens abaixo, qual é a alternativa que você escolheria?

<p>GRUPO 2L</p> <p>ORDEM 1 DE 4</p> <p>CARTÃO ID 45</p> <p>PISTA DUPLA</p>		
Alternativa	RODOVIA PEDAGIADA	FUGA
Tempo de Viagem	02:40	03:55
Pagamento Pedágio(s)	R\$ 30.50	SEM PEDÁGIO
Escolha	A	B

CAMINHÃO 2 EIXOS / PISTA DUPLA / ACIMA DE 2 HORAS / GRUPO 2L / CARTÃO ID 45

Para uma situação em que houvesse a opção de realizar uma viagem de **CAMINHÃO 2 EIXOS** com uma distância de **240 KM (ACIMA DE 2 HORAS)** por duas alternativas de rotas, conforme apresentado nas imagens abaixo, qual é a alternativa que você escolheria?

<p>GRUPO 2L</p> <p>ORDEM 2 DE 4</p> <p>CARTÃO ID 46</p> <p>PISTA DUPLA</p>		
Alternativa	RODOVIA PEDAGIADA	FUGA
Tempo de Viagem	02:24	04:50
Pagamento Pedágio(s)	R\$ 88.00	SEM PEDÁGIO
Escolha	A	B

CAMINHÃO 2 EIXOS / PISTA DUPLA / ACIMA DE 2 HORAS / GRUPO 2L / CARTÃO ID 46

Para uma situação em que houvesse a opção de realizar uma viagem de **CAMINHÃO 2 EIXOS** com uma distância de **240 KM (ACIMA DE 2 HORAS)** por duas alternativas de rotas, conforme apresentado nas imagens abaixo, qual é a alternativa que você escolheria?

<p>GRUPO 2L</p> <p>ORDEM 3 DE 4</p> <p>CARTÃO ID 47</p> <p>PISTA DUPLA</p>		
Alternativa	RODOVIA PEDAGIADA	FUGA
Tempo de Viagem	02:10	03:35
Pagamento Pedágio(s)	R\$ 69.00	SEM PEDÁGIO
Escolha	A	B

CAMINHÃO 2 EIXOS / PISTA DUPLA / ACIMA DE 2 HORAS / GRUPO 2L / CARTÃO ID 47

Para uma situação em que houvesse a opção de realizar uma viagem de **CAMINHÃO 2 EIXOS** com uma distância de **240 KM (ACIMA DE 2 HORAS)** por duas alternativas de rotas, conforme apresentado nas imagens abaixo, qual é a alternativa que você escolheria?

<p>GRUPO 2L</p> <p>ORDEM 4 DE 4</p> <p>CARTÃO ID 48</p> <p>PISTA DUPLA</p>		
Alternativa	RODOVIA PEDAGIADA	FUGA
Tempo de Viagem	02:24	03:35
Pagamento Pedágio(s)	R\$ 69.00	SEM PEDÁGIO
Escolha	A	B

CAMINHÃO 2 EIXOS / PISTA DUPLA / ACIMA DE 2 HORAS / GRUPO 2L / CARTÃO ID 48

Para uma situação em que houvesse a opção de realizar uma viagem de **CAMINHÃO 3 EIXOS** com uma distância de **80 KM (ATÉ 1 HORA)** por duas alternativas de rotas, conforme apresentado nas imagens abaixo, qual é a alternativa que você escolheria?

<p>GRUPO 3A</p> <p>ORDEM 1 DE 4</p> <p>CARTÃO ID 49</p> <p>PISTA SIMPLES</p>		
Alternativa	RODOVIA PEDAGIADA	FUGA
Tempo de Viagem	00:45	01:35
Pagamento Pedágio(s)	R\$ 18.45	SEM PEDÁGIO
Escolha	A	B

CAMINHÃO 3 EIXOS / PISTA SIMPLES / ATÉ 1 HORA / GRUPO 3A / CARTÃO ID 49

Para uma situação em que houvesse a opção de realizar uma viagem de **CAMINHÃO 3 EIXOS** com uma distância de **80 KM (ATÉ 1 HORA)** por duas alternativas de rotas, conforme apresentado nas imagens abaixo, qual é a alternativa que você escolheria?

<p>GRUPO 3A</p> <p>ORDEM 2 DE 4</p> <p>CARTÃO ID 50</p> <p>PISTA SIMPLES</p>		
Alternativa	RODOVIA PEDAGIADA	FUGA
Tempo de Viagem	00:55	01:25
Pagamento Pedágio(s)	R\$ 18.45	SEM PEDÁGIO
Escolha	A	B

CAMINHÃO 3 EIXOS / PISTA SIMPLES / ATÉ 1 HORA / GRUPO 3A / CARTÃO ID 50

Para uma situação em que houvesse a opção de realizar uma viagem de **CAMINHÃO 3 EIXOS** com uma distância de **80 KM (ATÉ 1 HORA)** por duas alternativas de rotas, conforme apresentado nas imagens abaixo, qual é a alternativa que você escolheria?

<p>GRUPO 3A</p> <p>ORDEM 3 DE 4</p> <p>CARTÃO ID 51</p> <p>PISTA SIMPLES</p>		
Alternativa	RODOVIA PEDAGIADA	FUGA
Tempo de Viagem	00:45	01:35
Pagamento Pedágio(s)	R\$ 41.25	SEM PEDÁGIO
Escolha	A	B

CAMINHÃO 3 EIXOS / PISTA SIMPLES / ATÉ 1 HORA / GRUPO 3A / CARTÃO ID 51

Para uma situação em que houvesse a opção de realizar uma viagem de **CAMINHÃO 3 EIXOS** com uma distância de **80 KM (ATÉ 1 HORA)** por duas alternativas de rotas, conforme apresentado nas imagens abaixo, qual é a alternativa que você escolheria?

<p>GRUPO 3A</p> <p>ORDEM 4 DE 4</p> <p>CARTÃO ID 52</p> <p>PISTA SIMPLES</p>		
Alternativa	RODOVIA PEDAGIADA	FUGA
Tempo de Viagem	00:50	01:20
Pagamento Pedágio(s)	R\$ 29.85	SEM PEDÁGIO
Escolha	A	B

CAMINHÃO 2



/ PISTA SIMPLES / ATÉ 1 HORA / GRUPO 3A / CARTÃO ID 52

Para uma situação em que houvesse a opção de realizar uma viagem de **CAMINHÃO 3 EIXOS** com uma distância de **80 KM (ATÉ 1 HORA)** por duas alternativas de rotas, conforme apresentado nas imagens abaixo, qual é a alternativa que você escolheria?

<p>GRUPO 3B</p> <p>ORDEM 1 DE 4</p> <p>CARTÃO ID 53</p> <p>PISTA SIMPLES</p>		
Alternativa	RODOVIA PEDAGIADA	FUGA
Tempo de Viagem	00:45	01:25
Pagamento Pedágio(s)	R\$ 18.45	SEM PEDÁGIO
Escolha	A	B

CAMINHÃO 3 EIXOS / PISTA SIMPLES / ATÉ 1 HORA / GRUPO 3B / CARTÃO ID 53

Para uma situação em que houvesse a opção de realizar uma viagem de **CAMINHÃO 3 EIXOS** com uma distância de **80 KM (ATÉ 1 HORA)** por duas alternativas de rotas, conforme apresentado nas imagens abaixo, qual é a alternativa que você escolheria?

<p>GRUPO 3B</p> <p>ORDEM 2 DE 4</p> <p>CARTÃO ID 54</p> <p>PISTA SIMPLES</p>		
Alternativa	RODOVIA PEDAGIADA	FUGA
Tempo de Viagem	00:55	01:20
Pagamento Pedágio(s)	R\$ 18.45	SEM PEDÁGIO
Escolha	A	B

CAMINHÃO 3 EIXOS / PISTA SIMPLES / ATÉ 1 HORA / GRUPO 3B / CARTÃO ID 54

Para uma situação em que houvesse a opção de realizar uma viagem de **CAMINHÃO 3 EIXOS** com uma distância de **80 KM (ATÉ 1 HORA)** por duas alternativas de rotas, conforme apresentado nas imagens abaixo, qual é a alternativa que você escolheria?

<p>GRUPO 3B</p> <p>ORDEM 3 DE 4</p> <p>CARTÃO ID 55</p> <p>PISTA SIMPLES</p>		
Alternativa	RODOVIA PEDAGIADA	FUGA
Tempo de Viagem	00:50	01:35
Pagamento Pedágio(s)	R\$ 41.25	SEM PEDÁGIO
Escolha	A	B

CAMINHÃO 3 EIXOS / PISTA SIMPLES / ATÉ 1 HORA / GRUPO 3B / CARTÃO ID 55

Para uma situação em que houvesse a opção de realizar uma viagem de **CAMINHÃO 3 EIXOS** com uma distância de **80 KM (ATÉ 1 HORA)** por duas alternativas de rotas, conforme apresentado nas imagens abaixo, qual é a alternativa que você escolheria?

<p>GRUPO 3B</p> <p>ORDEM 4 DE 4</p> <p>CARTÃO ID 56</p> <p>PISTA SIMPLES</p>		
Alternativa	RODOVIA PEDAGIADA	FUGA
Tempo de Viagem	00:45	01:35
Pagamento Pedágio(s)	R\$ 52.80	SEM PEDÁGIO
Escolha	A	B

CAMINHÃO 3 EIXOS / PISTA SIMPLES / ATÉ 1 HORA / GRUPO 3B / CARTÃO ID 56

Para uma situação em que houvesse a opção de realizar uma viagem de **CAMINHÃO 3 EIXOS** com uma distância de **80 KM (ATÉ 1 HORA)** por duas alternativas de rotas, conforme apresentado nas imagens abaixo, qual é a alternativa que você escolheria?

<p>GRUPO 3C</p> <p>ORDEM 1 DE 4</p> <p>CARTÃO ID 57</p> <p>PISTA DUPLA</p>		
Alternativa	RODOVIA PEDAGIADA	FUGA
Tempo de Viagem	00:50	01:35
Pagamento Pedágio(s)	R\$ 18.45	SEM PEDÁGIO
Escolha	A	B

CAMINHÃO 3 EIXOS / PISTA DUPLA / ATÉ 1 HORA / GRUPO 3C / CARTÃO ID 57

Para uma situação em que houvesse a opção de realizar uma viagem de **CAMINHÃO 3 EIXOS** com uma distância de **80 KM (ATÉ 1 HORA)** por duas alternativas de rotas, conforme apresentado nas imagens abaixo, qual é a alternativa que você escolheria?

<p>GRUPO 3C</p> <p>ORDEM 2 DE 4</p> <p>CARTÃO ID 58</p> <p>PISTA DUPLA</p>		
Alternativa	RODOVIA PEDAGIADA	FUGA
Tempo de Viagem	00:50	01:35
Pagamento Pedágio(s)	R\$ 29.85	SEM PEDÁGIO
Escolha	A	B


CAMINHÃO 3 EIXOS / PISTA DUPLA / ATÉ 1 HORA / GRUPO 3C / CARTÃO ID 58

Para uma situação em que houvesse a opção de realizar uma viagem de **CAMINHÃO 3 EIXOS** com uma distância de **80 KM (ATÉ 1 HORA)** por duas alternativas de rotas, conforme apresentado nas imagens abaixo, qual é a alternativa que você escolheria?

<p>GRUPO 3C</p> <p>ORDEM 3 DE 4</p> <p>CARTÃO ID 59</p> <p>PISTA DUPLA</p>		
Alternativa	RODOVIA PEDAGIADA	FUGA
Tempo de Viagem	00:45	01:20
Pagamento Pedágio(s)	R\$ 29.85	SEM PEDÁGIO
Escolha	A	B

CAMINHÃO 3 EIXOS / PISTA DUPLA / ATÉ 1 HORA / GRUPO 3C / CARTÃO ID 59

Para uma situação em que houvesse a opção de realizar uma viagem de **CAMINHÃO 3 EIXOS** com uma distância de **80 KM (ATÉ 1 HORA)** por duas alternativas de rotas, conforme apresentado nas imagens abaixo, qual é a alternativa que você escolheria?

<p>GRUPO 3C</p> <p>ORDEM 4 DE 4</p> <p>CARTÃO ID 60</p> <p>PISTA DUPLA</p>		
Alternativa	RODOVIA PEDAGIADA	FUGA
Tempo de Viagem	00:45	01:25
Pagamento Pedágio(s)	R\$ 41.25	SEM PEDÁGIO
Escolha	A	B

CAMINHÃO 3 EIXOS / PISTA DUPLA / ATÉ 1 HORA / GRUPO 3C / CARTÃO ID 60

Para uma situação em que houvesse a opção de realizar uma viagem de **CAMINHÃO 3 EIXOS** com uma distância de **80 KM (ATÉ 1 HORA)** por duas alternativas de rotas, conforme apresentado nas imagens abaixo, qual é a alternativa que você escolheria?

<p>GRUPO 3D</p> <p>ORDEM 1 DE 4</p> <p>CARTÃO ID 61</p> <p>PISTA DUPLA</p>		
Alternativa	RODOVIA PEDAGIADA	FUGA
Tempo de Viagem	00:50	01:25
Pagamento Pedágio(s)	R\$ 18.45	SEM PEDÁGIO
Escolha	A	B

CAMINHÃO 3 EIXOS / PISTA DUPLA / ATÉ 1 HORA / GRUPO 3D / CARTÃO ID 61

Para uma situação em que houvesse a opção de realizar uma viagem de **CAMINHÃO 3 EIXOS** com uma distância de **80 KM (ATÉ 1 HORA)** por duas alternativas de rotas, conforme apresentado nas imagens abaixo, qual é a alternativa que você escolheria?

<p>GRUPO 3D</p> <p>ORDEM 2 DE 4</p> <p>CARTÃO ID 62</p> <p>PISTA DUPLA</p>		
Alternativa	RODOVIA PEDAGIADA	FUGA
Tempo de Viagem	00:55	01:35
Pagamento Pedágio(s)	R\$ 29.85	SEM PEDÁGIO
Escolha	A	B

CAMINHÃO 3 EIXOS / PISTA DUPLA / ATÉ 1 HORA / GRUPO 3D / CARTÃO ID 62

Para uma situação em que houvesse a opção de realizar uma viagem de **CAMINHÃO 3 EIXOS** com uma distância de **80 KM (ATÉ 1 HORA)** por duas alternativas de rotas, conforme apresentado nas imagens abaixo, qual é a alternativa que você escolheria?

<p>GRUPO 3D</p> <p>ORDEM 3 DE 4</p> <p>CARTÃO ID 63</p> <p>PISTA DUPLA</p>		
Alternativa	RODOVIA PEDAGIADA	FUGA
Tempo de Viagem	01:00	01:20
Pagamento Pedágio(s)	R\$ 18.45	SEM PEDÁGIO
Escolha	A	B

CAMINHÃO 3 EIXOS / PISTA DUPLA / ATÉ 1 HORA / GRUPO 3D / CARTÃO ID 63

Para uma situação em que houvesse a opção de realizar uma viagem de **CAMINHÃO 3 EIXOS** com uma distância de **80 KM (ATÉ 1 HORA)** por duas alternativas de rotas, conforme apresentado nas imagens abaixo, qual é a alternativa que você escolheria?

<p>GRUPO 3D</p> <p>ORDEM 4 DE 4</p> <p>CARTÃO ID 64</p> <p>PISTA DUPLA</p>		
Alternativa	RODOVIA PEDAGIADA	FUGA
Tempo de Viagem	00:50	01:35
Pagamento Pedágio(s)	R\$ 52.80	SEM PEDÁGIO
Escolha	A	B

CAMINHÃO 3 EIXOS / PISTA DUPLA / ATÉ 1 HORA / GRUPO 3D / CARTÃO ID 64

Para uma situação em que houvesse a opção de realizar uma viagem de **CAMINHÃO 3 EIXOS** com uma distância de **160 KM (ENTRE 1-2 HORAS)** por duas alternativas de rotas, conforme apresentado nas imagens abaixo, qual é a alternativa que você escolheria?

<p>GRUPO 3E</p> <p>ORDEM 1 DE 4</p> <p>CARTÃO ID 65</p> <p>PISTA SIMPLES</p>		
Alternativa	RODOVIA PEDAGIADA	FUGA
Tempo de Viagem	01:30	03:10
Pagamento Pedágio(s)	R\$ 36.75	SEM PEDÁGIO
Escolha	A	B

CAMINHÃO 3 EIXOS / PISTA SIMPLES / ENTRE 1-2 HORAS / GRUPO 3E / CARTÃO ID 65

Para uma situação em que houvesse a opção de realizar uma viagem de **CAMINHÃO 3 EIXOS** com uma distância de **160 KM (ENTRE 1-2 HORAS)** por duas alternativas de rotas, conforme apresentado nas imagens abaixo, qual é a alternativa que você escolheria?

<p>GRUPO 3E</p> <p>ORDEM 2 DE 4</p> <p>CARTÃO ID 66</p> <p>PISTA SIMPLES</p>		
Alternativa	RODOVIA PEDAGIADA	FUGA
Tempo de Viagem	01:30	02:35
Pagamento Pedágio(s)	R\$ 36.75	SEM PEDÁGIO
Escolha	A	B

CAMINHÃO 3 EIXOS / PISTA SIMPLES / ENTRE 1-2 HORAS / GRUPO 3E / CARTÃO ID 66

Para uma situação em que houvesse a opção de realizar uma viagem de **CAMINHÃO 3 EIXOS** com uma distância de **160 KM (ENTRE 1-2 HORAS)** por duas alternativas de rotas, conforme apresentado nas imagens abaixo, qual é a alternativa que você escolheria?

<p>GRUPO 3E</p> <p>ORDEM 3 DE 4</p> <p>CARTÃO ID 67</p> <p>PISTA SIMPLES</p>		
Alternativa	RODOVIA PEDAGIADA	FUGA
Tempo de Viagem	01:35	02:50
Pagamento Pedágio(s)	R\$ 60.00	SEM PEDÁGIO
Escolha	A	B

CAMINHÃO 3 EIXOS / PISTA SIMPLES / ENTRE 1-2 HORAS / GRUPO 3E / CARTÃO ID 67

Para uma situação em que houvesse a opção de realizar uma viagem de **CAMINHÃO 3 EIXOS** com uma distância de **160 KM (ENTRE 1-2 HORAS)** por duas alternativas de rotas, conforme apresentado nas imagens abaixo, qual é a alternativa que você escolheria?

<p>GRUPO 3E</p> <p>ORDEM 4 DE 4</p> <p>CARTÃO ID 68</p> <p>PISTA SIMPLES</p>		
Alternativa	RODOVIA PEDAGIADA	FUGA
Tempo de Viagem	01:30	02:50
Pagamento Pedágio(s)	R\$ 82.50	SEM PEDÁGIO
Escolha	A	B

CAMINHÃO 3 EIXOS / PISTA SIMPLES / ENTRE 1-2 HORAS / GRUPO 3E / CARTÃO ID 68

Para uma situação em que houvesse a opção de realizar uma viagem de **CAMINHÃO 3 EIXOS** com uma distância de **160 KM (ENTRE 1-2 HORAS)** por duas alternativas de rotas, conforme apresentado nas imagens abaixo, qual é a alternativa que você escolheria?

<p>GRUPO 3F</p> <p>ORDEM 1 DE 4</p> <p>CARTÃO ID 69</p> <p>PISTA SIMPLES</p>		
Alternativa	RODOVIA PEDAGIADA	FUGA
Tempo de Viagem	01:30	02:50
Pagamento Pedágio(s)	R\$ 36.75	SEM PEDÁGIO
Escolha	A	B

CAMINHÃO 3 EIXOS / PISTA SIMPLES / ENTRE 1-2 HORAS / GRUPO 3F / CARTÃO ID 69

Para uma situação em que houvesse a opção de realizar uma viagem de **CAMINHÃO 3 EIXOS** com uma distância de **160 KM (ENTRE 1-2 HORAS)** por duas alternativas de rotas, conforme apresentado nas imagens abaixo, qual é a alternativa que você escolheria?

<p>GRUPO 3F</p> <p>ORDEM 2 DE 4</p> <p>CARTÃO ID 70</p> <p>PISTA SIMPLES</p>		
Alternativa	RODOVIA PEDAGIADA	FUGA
Tempo de Viagem	01:45	02:35
Pagamento Pedágio(s)	R\$ 36.75	SEM PEDÁGIO
Escolha	A	B

CAMINHÃO 3 EIXOS / PISTA SIMPLES / ENTRE 1-2 HORAS / GRUPO 3F / CARTÃO ID 70

Para uma situação em que houvesse a opção de realizar uma viagem de **CAMINHÃO 3 EIXOS** com uma distância de **160 KM (ENTRE 1-2 HORAS)** por duas alternativas de rotas, conforme apresentado nas imagens abaixo, qual é a alternativa que você escolheria?

<p>GRUPO 3F</p> <p>ORDEM 3 DE 4</p> <p>CARTÃO ID 71</p> <p>PISTA SIMPLES</p>		
Alternativa	RODOVIA PEDAGIADA	FUGA
Tempo de Viagem	01:45	02:25
Pagamento Pedágio(s)	R\$ 36.75	SEM PEDÁGIO
Escolha	A	B



CAMINHÃO 3 EIXOS / PISTA SIMPLES / ENTRE 1-2 HORAS / GRUPO 3F / CARTÃO ID 71

Para uma situação em que houvesse a opção de realizar uma viagem de **CAMINHÃO 3 EIXOS** com uma distância de **160 KM (ENTRE 1-2 HORAS)** por duas alternativas de rotas, conforme apresentado nas imagens abaixo, qual é a alternativa que você escolheria?

<p>GRUPO 3F</p> <p>ORDEM 4 DE 4</p> <p>CARTÃO ID 72</p> <p>PISTA SIMPLES</p>		
Alternativa	RODOVIA PEDAGIADA	FUGA
Tempo de Viagem	01:35	02:50
Pagamento Pedágio(s)	R\$ 82.50	SEM PEDÁGIO
Escolha	A	B

CAMINHÃO 3 EIXOS / PISTA SIMPLES / ENTRE 1-2 HORAS / GRUPO 3F / CARTÃO ID 72

Para uma situação em que houvesse a opção de realizar uma viagem de **CAMINHÃO 3 EIXOS** com uma distância de **160 KM (ENTRE 1-2 HORAS)** por duas alternativas de rotas, conforme apresentado nas imagens abaixo, qual é a alternativa que você escolheria?

<p>GRUPO 3G</p> <p>ORDEM 1 DE 4</p> <p>CARTÃO ID 73</p> <p>PISTA DUPLA</p>		
Alternativa	RODOVIA PEDAGIADA	FUGA
Tempo de Viagem	01:35	03:10
Pagamento Pedágio(s)	R\$ 36.75	SEM PEDÁGIO
Escolha	A	B

CAMINHÃO 3 EIXOS / PISTA DUPLA / ENTRE 1-2 HORAS / GRUPO 3G / CARTÃO ID 73

Para uma situação em que houvesse a opção de realizar uma viagem de **CAMINHÃO 3 EIXOS** com uma distância de **160 KM (ENTRE 1-2 HORAS)** por duas alternativas de rotas, conforme apresentado nas imagens abaixo, qual é a alternativa que você escolheria?

<p>GRUPO 3G</p> <p>ORDEM 2 DE 4</p> <p>CARTÃO ID 74</p> <p>PISTA DUPLA</p>		
Alternativa	RODOVIA PEDAGIADA	FUGA
Tempo de Viagem	01:30	02:25
Pagamento Pedágio(s)	R\$ 36.75	SEM PEDÁGIO
Escolha	A	B

CAMINHÃO 3 EIXOS / PISTA DUPLA / ENTRE 1-2 HORAS / GRUPO 3G / CARTÃO ID 74

Para uma situação em que houvesse a opção de realizar uma viagem de **CAMINHÃO 3 EIXOS** com uma distância de **160 KM (ENTRE 1-2 HORAS)** por duas alternativas de rotas, conforme apresentado nas imagens abaixo, qual é a alternativa que você escolheria?

<p>GRUPO 3G</p> <p>ORDEM 3 DE 4</p> <p>CARTÃO ID 75</p> <p>PISTA DUPLA</p>		
Alternativa	RODOVIA PEDAGIADA	FUGA
Tempo de Viagem	01:35	03:10
Pagamento Pedágio(s)	R\$ 82.50	SEM PEDÁGIO
Escolha	A	B



CAMINHÃO 3 EIXOS / PISTA DUPLA / ENTRE 1-2 HORAS / GRUPO 3G / CARTÃO ID 75

Para uma situação em que houvesse a opção de realizar uma viagem de **CAMINHÃO 3 EIXOS** com uma distância de **160 KM (ENTRE 1-2 HORAS)** por duas alternativas de rotas, conforme apresentado nas imagens abaixo, qual é a alternativa que você escolheria?

<p>GRUPO 3G</p> <p>ORDEM 4 DE 4</p> <p>CARTÃO ID 76</p> <p>PISTA DUPLA</p>		
Alternativa	RODOVIA PEDAGIADA	FUGA
Tempo de Viagem	01:30	03:10
Pagamento Pedágio(s)	R\$ 105.75	SEM PEDÁGIO
Escolha	A	B

CAMINHÃO 3 EIXOS / PISTA DUPLA / ENTRE 1-2 HORAS / GRUPO 3G / CARTÃO ID 76

Para uma situação em que houvesse a opção de realizar uma viagem de **CAMINHÃO 3 EIXOS** com uma distância de **160 KM (ENTRE 1-2 HORAS)** por duas alternativas de rotas, conforme apresentado nas imagens abaixo, qual é a alternativa que você escolheria?

<p>GRUPO 3H</p> <p>ORDEM 1 DE 4</p> <p>CARTÃO ID 77</p> <p>PISTA DUPLA</p>		
Alternativa	RODOVIA PEDAGIADA	FUGA
Tempo de Viagem	01:35	02:50
Pagamento Pedágio(s)	R\$ 36.75	SEM PEDÁGIO
Escolha	A	B

CAMINHÃO 3 EIXOS / PISTA DUPLA / ENTRE 1-2 HORAS / GRUPO 3H / CARTÃO ID 77

Para uma situação em que houvesse a opção de realizar uma viagem de **CAMINHÃO 3 EIXOS** com uma distância de **160 KM (ENTRE 1-2 HORAS)** por duas alternativas de rotas, conforme apresentado nas imagens abaixo, qual é a alternativa que você escolheria?

<p>GRUPO 3H</p> <p>ORDEM 2 DE 4</p> <p>CARTÃO ID 78</p> <p>PISTA DUPLA</p>		
Alternativa	RODOVIA PEDAGIADA	FUGA
Tempo de Viagem	01:30	02:50
Pagamento Pedágio(s)	R\$ 60.00	SEM PEDÁGIO
Escolha	A	B



CAMINHÃO 3 EIXOS / PISTA DUPLA / ENTRE 1-2 HORAS / GRUPO 3H / CARTÃO ID 78

Para uma situação em que houvesse a opção de realizar uma viagem de **CAMINHÃO 3 EIXOS** com uma distância de **160 KM (ENTRE 1-2 HORAS)** por duas alternativas de rotas, conforme apresentado nas imagens abaixo, qual é a alternativa que você escolheria?

<p>GRUPO 3H</p> <p>ORDEM 3 DE 4</p> <p>CARTÃO ID 79</p> <p>PISTA DUPLA</p>		
Alternativa	RODOVIA PEDAGIADA	FUGA
Tempo de Viagem	01:30	02:35
Pagamento Pedágio(s)	R\$ 60.00	SEM PEDÁGIO
Escolha	A	B

CAMINHÃO 3 EIXOS / PISTA DUPLA / ENTRE 1-2 HORAS / GRUPO 3H / CARTÃO ID 79

Para uma situação em que houvesse a opção de realizar uma viagem de **CAMINHÃO 3 EIXOS** com uma distância de **160 KM (ENTRE 1-2 HORAS)** por duas alternativas de rotas, conforme apresentado nas imagens abaixo, qual é a alternativa que você escolheria?

<p>GRUPO 3H</p> <p>ORDEM 4 DE 4</p> <p>CARTÃO ID 80</p> <p>PISTA DUPLA</p>		
Alternativa	RODOVIA PEDAGIADA	FUGA
Tempo de Viagem	01:35	03:10
Pagamento Pedágio(s)	R\$ 105.75	SEM PEDÁGIO
Escolha	A	B

CAMINHÃO 3 EIXOS / PISTA DUPLA / ENTRE 1-2 HORAS / GRUPO 3H / CARTÃO ID 80

Para uma situação em que houvesse a opção de realizar uma viagem de **CAMINHÃO 3 EIXOS** com uma distância de **240 KM (ACIMA DE 2 HORAS)** por duas alternativas de rotas, conforme apresentado nas imagens abaixo, qual é a alternativa que você escolheria?

<p>GRUPO 3I</p> <p>ORDEM 1 DE 4</p> <p>CARTÃO ID 81</p> <p>PISTA SIMPLES</p>		
Alternativa	RODOVIA PEDAGIADA	FUGA
Tempo de Viagem	02:24	04:50
Pagamento Pedágio(s)	R\$ 45.75	SEM PEDÁGIO
Escolha	A	B

CAMINHÃO 3 EIXOS / PISTA SIMPLES / ACIMA DE 2 HORAS / GRUPO 3I / CARTÃO ID 81

Para uma situação em que houvesse a opção de realizar uma viagem de **CAMINHÃO 3 EIXOS** com uma distância de **240 KM (ACIMA DE 2 HORAS)** por duas alternativas de rotas, conforme apresentado nas imagens abaixo, qual é a alternativa que você escolheria?

<p>GRUPO 3I</p> <p>ORDEM 2 DE 4</p> <p>CARTÃO ID 82</p> <p>PISTA SIMPLES</p>		
Alternativa	RODOVIA PEDAGIADA	FUGA
Tempo de Viagem	02:10	04:20
Pagamento Pedágio(s)	R\$ 75.00	SEM PEDÁGIO
Escolha	A	B

CAMINHÃO 3 EIXOS / PISTA SIMPLES / ACIMA DE 2 HORAS / GRUPO 3I / CARTÃO ID 82

Para uma situação em que houvesse a opção de realizar uma viagem de **CAMINHÃO 3 EIXOS** com uma distância de **240 KM (ACIMA DE 2 HORAS)** por duas alternativas de rotas, conforme apresentado nas imagens abaixo, qual é a alternativa que você escolheria?

<p>GRUPO 3I</p> <p>ORDEM 3 DE 4</p> <p>CARTÃO ID 83</p> <p>PISTA SIMPLES</p>		
Alternativa	RODOVIA PEDAGIADA	FUGA
Tempo de Viagem	02:40	04:50
Pagamento Pedágio(s)	R\$ 103.50	SEM PEDÁGIO
Escolha	A	B

CAMINHÃO 3 EIXOS / PISTA SIMPLES / ACIMA DE 2 HORAS / GRUPO 3I / CARTÃO ID 83

Para uma situação em que houvesse a opção de realizar uma viagem de **CAMINHÃO 3 EIXOS** com uma distância de **240 KM (ACIMA DE 2 HORAS)** por duas alternativas de rotas, conforme apresentado nas imagens abaixo, qual é a alternativa que você escolheria?

<p>GRUPO 3I</p> <p>ORDEM 4 DE 4</p> <p>CARTÃO ID 84</p> <p>PISTA SIMPLES</p>		
Alternativa	RODOVIA PEDAGIADA	FUGA
Tempo de Viagem	02:10	04:20
Pagamento Pedágio(s)	R\$ 132.00	SEM PEDÁGIO
Escolha	A	B

CAMINHÃO 3 EIXOS / PISTA SIMPLES / ACIMA DE 2 HORAS / GRUPO 3I / CARTÃO ID 84

Para uma situação em que houvesse a opção de realizar uma viagem de **CAMINHÃO 3 EIXOS** com uma distância de **240 KM (ACIMA DE 2 HORAS)** por duas alternativas de rotas, conforme apresentado nas imagens abaixo, qual é a alternativa que você escolheria?

<p>GRUPO 3J</p> <p>ORDEM 1 DE 4</p> <p>CARTÃO ID 85</p> <p>PISTA SIMPLES</p>		
Alternativa	RODOVIA PEDAGIADA	FUGA
Tempo de Viagem	02:40	04:20
Pagamento Pedágio(s)	R\$ 45.75	SEM PEDÁGIO
Escolha	A	B

CAMINHÃO 3 EIXOS / PISTA SIMPLES / ACIMA DE 2 HORAS / GRUPO 3J / CARTÃO ID 85

Para uma situação em que houvesse a opção de realizar uma viagem de **CAMINHÃO 3 EIXOS** com uma distância de **240 KM (ACIMA DE 2 HORAS)** por duas alternativas de rotas, conforme apresentado nas imagens abaixo, qual é a alternativa que você escolheria?

<p>GRUPO 3J</p> <p>ORDEM 2 DE 4</p> <p>CARTÃO ID 86</p> <p>PISTA SIMPLES</p>		
Alternativa	RODOVIA PEDAGIADA	FUGA
Tempo de Viagem	02:24	04:50
Pagamento Pedágio(s)	R\$ 103.50	SEM PEDÁGIO
Escolha	A	B

CAMINHÃO 3 EIXOS / PISTA SIMPLES / ACIMA DE 2 HORAS / GRUPO 3J / CARTÃO ID 86

Para uma situação em que houvesse a opção de realizar uma viagem de **CAMINHÃO 3 EIXOS** com uma distância de **240 KM (ACIMA DE 2 HORAS)** por duas alternativas de rotas, conforme apresentado nas imagens abaixo, qual é a alternativa que você escolheria?

<p>GRUPO 3J</p> <p>ORDEM 3 DE 4</p> <p>CARTÃO ID 87</p> <p>PISTA SIMPLES</p>		
Alternativa	RODOVIA PEDAGIADA	FUGA
Tempo de Viagem	02:24	04:20
Pagamento Pedágio(s)	R\$ 103.50	SEM PEDÁGIO
Escolha	A	B


CAMINHÃO 3 EIXOS / PISTA SIMPLES / ACIMA DE 2 HORAS / GRUPO 3J / CARTÃO ID 87

Para uma situação em que houvesse a opção de realizar uma viagem de **CAMINHÃO 3 EIXOS** com uma distância de **240 KM (ACIMA DE 2 HORAS)** por duas alternativas de rotas, conforme apresentado nas imagens abaixo, qual é a alternativa que você escolheria?

<p>GRUPO 3J</p> <p>ORDEM 4 DE 4</p> <p>CARTÃO ID 88</p> <p>PISTA SIMPLES</p>		
Alternativa	RODOVIA PEDAGIADA	FUGA
Tempo de Viagem	02:24	03:55
Pagamento Pedágio(s)	R\$ 103.50	SEM PEDÁGIO
Escolha	A	B

CAMINHÃO 3 EIXOS / PISTA SIMPLES / ACIMA DE 2 HORAS / GRUPO 3J / CARTÃO ID 88

Para uma situação em que houvesse a opção de realizar uma viagem de **CAMINHÃO 3 EIXOS** com uma distância de **240 KM (ACIMA DE 2 HORAS)** por duas alternativas de rotas, conforme apresentado nas imagens abaixo, qual é a alternativa que você escolheria?

<p>GRUPO 3K</p> <p>ORDEM 1 DE 4</p> <p>CARTÃO ID 89</p> <p>PISTA DUPLA</p>		
Alternativa	RODOVIA PEDAGIADA	FUGA
Tempo de Viagem	02:24	04:20
Pagamento Pedágio(s)	R\$ 45.75	SEM PEDÁGIO
Escolha	A	B

CAMINHÃO 3 EIXOS / PISTA DUPLA / ACIMA DE 2 HORAS / GRUPO 3K / CARTÃO ID 89

Para uma situação em que houvesse a opção de realizar uma viagem de **CAMINHÃO 3 EIXOS** com uma distância de **240 KM (ACIMA DE 2 HORAS)** por duas alternativas de rotas, conforme apresentado nas imagens abaixo, qual é a alternativa que você escolheria?

<p>GRUPO 3K</p> <p>ORDEM 2 DE 4</p> <p>CARTÃO ID 90</p> <p>PISTA DUPLA</p>		
Alternativa	RODOVIA PEDAGIADA	FUGA
Tempo de Viagem	02:24	03:35
Pagamento Pedágio(s)	R\$ 45.75	SEM PEDÁGIO
Escolha	A	B

CAMINHÃO 3 EIXOS / PISTA DUPLA / ACIMA DE 2 HORAS / GRUPO 3K / CARTÃO ID 90

Para uma situação em que houvesse a opção de realizar uma viagem de **CAMINHÃO 3 EIXOS** com uma distância de **240 KM (ACIMA DE 2 HORAS)** por duas alternativas de rotas, conforme apresentado nas imagens abaixo, qual é a alternativa que você escolheria?

<p>GRUPO 3K</p> <p>ORDEM 3 DE 4</p> <p>CARTÃO ID 91</p> <p>PISTA DUPLA</p>		
Alternativa	RODOVIA PEDAGIADA	FUGA
Tempo de Viagem	03:00	03:55
Pagamento Pedágio(s)	R\$ 45.75	SEM PEDÁGIO
Escolha	A	B

CAMINHÃO 3 EIXOS / PISTA DUPLA / ACIMA DE 2 HORAS / GRUPO 3K / CARTÃO ID 91

Para uma situação em que houvesse a opção de realizar uma viagem de **CAMINHÃO 3 EIXOS** com uma distância de **240 KM (ACIMA DE 2 HORAS)** por duas alternativas de rotas, conforme apresentado nas imagens abaixo, qual é a alternativa que você escolheria?

<p>GRUPO 3K</p> <p>ORDEM 4 DE 4</p> <p>CARTÃO ID 92</p> <p>PISTA DUPLA</p>		
Alternativa	RODOVIA PEDAGIADA	FUGA
Tempo de Viagem	02:40	04:20
Pagamento Pedágio(s)	R\$ 103.50	SEM PEDÁGIO
Escolha	A	B

CAMINHÃO 3 EIXOS / PISTA DUPLA / ACIMA DE 2 HORAS / GRUPO 3K / CARTÃO ID 92

Para uma situação em que houvesse a opção de realizar uma viagem de **CAMINHÃO 3 EIXOS** com uma distância de **240 KM (ACIMA DE 2 HORAS)** por duas alternativas de rotas, conforme apresentado nas imagens abaixo, qual é a alternativa que você escolheria?

<p>GRUPO 3L</p> <p>ORDEM 1 DE 4</p> <p>CARTÃO ID 93</p> <p>PISTA DUPLA</p>		
Alternativa	RODOVIA PEDAGIADA	FUGA
Tempo de Viagem	02:24	04:50
Pagamento Pedágio(s)	R\$ 75.00	SEM PEDÁGIO
Escolha	A	B

CAMINHÃO 3 EIXOS / PISTA DUPLA / ACIMA DE 2 HORAS / GRUPO 3L / CARTÃO ID 93

Para uma situação em que houvesse a opção de realizar uma viagem de **CAMINHÃO 3 EIXOS** com uma distância de **240 KM (ACIMA DE 2 HORAS)** por duas alternativas de rotas, conforme apresentado nas imagens abaixo, qual é a alternativa que você escolheria?

<p>GRUPO 3L</p> <p>ORDEM 2 DE 4</p> <p>CARTÃO ID 94</p> <p>PISTA DUPLA</p>		
Alternativa	RODOVIA PEDAGIADA	FUGA
Tempo de Viagem	02:40	04:20
Pagamento Pedágio(s)	R\$ 75.00	SEM PEDÁGIO
Escolha	A	B

CAMINHÃO 3 EIXOS / PISTA DUPLA / ACIMA DE 2 HORAS / GRUPO 3L / CARTÃO ID 94

Para uma situação em que houvesse a opção de realizar uma viagem de **CAMINHÃO 3 EIXOS** com uma distância de **240 KM (ACIMA DE 2 HORAS)** por duas alternativas de rotas, conforme apresentado nas imagens abaixo, qual é a alternativa que você escolheria?

<p>GRUPO 3L</p> <p>ORDEM 3 DE 4</p> <p>CARTÃO ID 95</p> <p>PISTA DUPLA</p>		
Alternativa	RODOVIA PEDAGIADA	FUGA
Tempo de Viagem	02:24	04:50
Pagamento Pedágio(s)	R\$ 132.00	SEM PEDÁGIO
Escolha	A	B

CAMINHÃO 3 EIXOS / PISTA DUPLA / ACIMA DE 2 HORAS / GRUPO 3L / CARTÃO ID 95

Para uma situação em que houvesse a opção de realizar uma viagem de **CAMINHÃO 3 EIXOS** com uma distância de **240 KM (ACIMA DE 2 HORAS)** por duas alternativas de rotas, conforme apresentado nas imagens abaixo, qual é a alternativa que você escolheria?

<p>GRUPO 3L</p> <p>ORDEM 4 DE 4</p> <p>CARTÃO ID 96</p> <p>PISTA DUPLA</p>		
Alternativa	RODOVIA PEDAGIADA	FUGA
Tempo de Viagem	02:24	04:20
Pagamento Pedágio(s)	R\$ 132.00	SEM PEDÁGIO
Escolha	A	B

CAMINHÃO 3 EIXOS / PISTA DUPLA / ACIMA DE 2 HORAS / GRUPO 3L / CARTÃO ID 96

Para uma situação em que houvesse a opção de realizar uma viagem de **CAMINHÃO 4 EIXOS** com uma distância de **80 KM (ATÉ 1 HORA)** por duas alternativas de rotas, conforme apresentado nas imagens abaixo, qual é a alternativa que você escolheria?

<p>GRUPO 4A</p> <p>ORDEM 1 DE 4</p> <p>CARTÃO ID 97</p> <p>PISTA SIMPLES</p>		
Alternativa	RODOVIA PEDAGIADA	FUGA
Tempo de Viagem	00:45	01:35
Pagamento Pedágio(s)	R\$ 24.60	SEM PEDÁGIO
Escolha	A	B

CAMINHÃO 4 EIXOS / PISTA SIMPLES / ATÉ 1 HORA / GRUPO 4A / CARTÃO ID 97

Para uma situação em que houvesse a opção de realizar uma viagem de **CAMINHÃO 4 EIXOS** com uma distância de **80 KM (ATÉ 1 HORA)** por duas alternativas de rotas, conforme apresentado nas imagens abaixo, qual é a alternativa que você escolheria?

<p>GRUPO 4A</p> <p>ORDEM 2 DE 4</p> <p>CARTÃO ID 98</p> <p>PISTA SIMPLES</p>		
Alternativa	RODOVIA PEDAGIADA	FUGA
Tempo de Viagem	00:45	01:20
Pagamento Pedágio(s)	R\$ 24.60	SEM PEDÁGIO
Escolha	A	B

CAMINHÃO 4 EIXOS / PISTA SIMPLES / ATÉ 1 HORA / GRUPO 4A / CARTÃO ID 98

Para uma situação em que houvesse a opção de realizar uma viagem de **CAMINHÃO 4 EIXOS** com uma distância de **80 KM (ATÉ 1 HORA)** por duas alternativas de rotas, conforme apresentado nas imagens abaixo, qual é a alternativa que você escolheria?

<p>GRUPO 4A</p> <p>ORDEM 3 DE 4</p> <p>CARTÃO ID 99</p> <p>PISTA SIMPLES</p>		
Alternativa	RODOVIA PEDAGIADA	FUGA
Tempo de Viagem	00:45	01:25
Pagamento Pedágio(s)	R\$ 39.80	SEM PEDÁGIO
Escolha	A	B

CAMINHÃO 4 EIXOS / PISTA SIMPLES / ATÉ 1 HORA / GRUPO 4A / CARTÃO ID 99

Para uma situação em que houvesse a opção de realizar uma viagem de **CAMINHÃO 4 EIXOS** com uma distância de **80 KM (ATÉ 1 HORA)** por duas alternativas de rotas, conforme apresentado nas imagens abaixo, qual é a alternativa que você escolheria?

<p>GRUPO 4A</p> <p>ORDEM 4 DE 4</p> <p>CARTÃO ID 100</p> <p>PISTA SIMPLES</p>		
Alternativa	RODOVIA PEDAGIADA	FUGA
Tempo de Viagem	00:50	01:10
Pagamento Pedágio(s)	R\$ 24.60	SEM PEDÁGIO
Escolha	A	B

CAMINHÃO 4 EIXOS / PISTA SIMPLES / ATÉ 1 HORA / GRUPO 4A / CARTÃO ID 100

Para uma situação em que houvesse a opção de realizar uma viagem de **CAMINHÃO 4 EIXOS** com uma distância de **80 KM (ATÉ 1 HORA)** por duas alternativas de rotas, conforme apresentado nas imagens abaixo, qual é a alternativa que você escolheria?

<p>GRUPO 4B</p> <p>ORDEM 1 DE 4</p> <p>CARTÃO ID 101</p> <p>PISTA SIMPLES</p>		
Alternativa	RODOVIA PEDAGIADA	FUGA
Tempo de Viagem	00:45	01:25
Pagamento Pedágio(s)	R\$ 24.60	SEM PEDÁGIO
Escolha	A	B

CAMINHÃO 4 EIXOS / PISTA SIMPLES / ATÉ 1 HORA / GRUPO 4B / CARTÃO ID 101

Para uma situação em que houvesse a opção de realizar uma viagem de **CAMINHÃO 4 EIXOS** com uma distância de **80 KM (ATÉ 1 HORA)** por duas alternativas de rotas, conforme apresentado nas imagens abaixo, qual é a alternativa que você escolheria?

<p>GRUPO 4B</p> <p>ORDEM 2 DE 4</p> <p>CARTÃO ID 102</p> <p>PISTA SIMPLES</p>		
Alternativa	RODOVIA PEDAGIADA	FUGA
Tempo de Viagem	00:50	01:35
Pagamento Pedágio(s)	R\$ 39.80	SEM PEDÁGIO
Escolha	A	B

CAMINHÃO 4 EIXOS / PISTA SIMPLES / ATÉ 1 HORA / GRUPO 4B / CARTÃO ID 102

Para uma situação em que houvesse a opção de realizar uma viagem de **CAMINHÃO 4 EIXOS** com uma distância de **80 KM (ATÉ 1 HORA)** por duas alternativas de rotas, conforme apresentado nas imagens abaixo, qual é a alternativa que você escolheria?

<p>GRUPO 4B</p> <p>ORDEM 3 DE 4</p> <p>CARTÃO ID 103</p> <p>PISTA SIMPLES</p>		
Alternativa	RODOVIA PEDAGIADA	FUGA
Tempo de Viagem	00:50	01:25
Pagamento Pedágio(s)	R\$ 39.80	SEM PEDÁGIO
Escolha	A	B


CAMINHÃO 4 EIXOS / PISTA SIMPLES / ATÉ 1 HORA / GRUPO 4B / CARTÃO ID 103

Para uma situação em que houvesse a opção de realizar uma viagem de **CAMINHÃO 4 EIXOS** com uma distância de **80 KM (ATÉ 1 HORA)** por duas alternativas de rotas, conforme apresentado nas imagens abaixo, qual é a alternativa que você escolheria?

<p>GRUPO 4B</p> <p>ORDEM 4 DE 4</p> <p>CARTÃO ID 104</p> <p>PISTA SIMPLES</p>		
Alternativa	RODOVIA PEDAGIADA	FUGA
Tempo de Viagem	00:50	01:20
Pagamento Pedágio(s)	R\$ 39.80	SEM PEDÁGIO
Escolha	A	B

CAMINHÃO 4 EIXOS / PISTA SIMPLES / ATÉ 1 HORA / GRUPO 4B / CARTÃO ID 104

Para uma situação em que houvesse a opção de realizar uma viagem de **CAMINHÃO 4 EIXOS** com uma distância de **80 KM (ATÉ 1 HORA)** por duas alternativas de rotas, conforme apresentado nas imagens abaixo, qual é a alternativa que você escolheria?

<p>GRUPO 4C</p> <p>ORDEM 1 DE 4</p> <p>CARTÃO ID 105</p> <p>PISTA DUPLA</p>		
Alternativa	RODOVIA PEDAGIADA	FUGA
Tempo de Viagem	00:55	01:35
Pagamento Pedágio(s)	R\$ 24.60	SEM PEDÁGIO
Escolha	A	B

CAMINHÃO 4 EIXOS / PISTA DUPLA / ATÉ 1 HORA / GRUPO 4C / CARTÃO ID 105

Para uma situação em que houvesse a opção de realizar uma viagem de **CAMINHÃO 4 EIXOS** com uma distância de **80 KM (ATÉ 1 HORA)** por duas alternativas de rotas, conforme apresentado nas imagens abaixo, qual é a alternativa que você escolheria?

<p>GRUPO 4C</p> <p>ORDEM 2 DE 4</p> <p>CARTÃO ID 106</p> <p>PISTA DUPLA</p>		
Alternativa	RODOVIA PEDAGIADA	FUGA
Tempo de Viagem	00:55	01:25
Pagamento Pedágio(s)	R\$ 24.60	SEM PEDÁGIO
Escolha	A	B

CAMINHÃO 4 EIXOS / PISTA DUPLA / ATÉ 1 HORA / GRUPO 4C / CARTÃO ID 106

Para uma situação em que houvesse a opção de realizar uma viagem de **CAMINHÃO 4 EIXOS** com uma distância de **80 KM (ATÉ 1 HORA)** por duas alternativas de rotas, conforme apresentado nas imagens abaixo, qual é a alternativa que você escolheria?

<p>GRUPO 4C</p> <p>ORDEM 3 DE 4</p> <p>CARTÃO ID 107</p> <p>PISTA DUPLA</p>		
Alternativa	RODOVIA PEDAGIADA	FUGA
Tempo de Viagem	00:45	01:35
Pagamento Pedágio(s)	R\$ 55.00	SEM PEDÁGIO
Escolha	A	B

CAMINHÃO 4 EIXOS / PISTA DUPLA / ATÉ 1 HORA / GRUPO 4C / CARTÃO ID 107

Para uma situação em que houvesse a opção de realizar uma viagem de **CAMINHÃO 4 EIXOS** com uma distância de **80 KM (ATÉ 1 HORA)** por duas alternativas de rotas, conforme apresentado nas imagens abaixo, qual é a alternativa que você escolheria?

<p>GRUPO 4C</p> <p>ORDEM 4 DE 4</p> <p>CARTÃO ID 108</p> <p>PISTA DUPLA</p>		
Alternativa	RODOVIA PEDAGIADA	FUGA
Tempo de Viagem	00:55	01:25
Pagamento Pedágio(s)	R\$ 39.80	SEM PEDÁGIO
Escolha	A	B

CAMINHÃO 4 EIXOS / PISTA DUPLA / ATÉ 1 HORA / GRUPO 4C / CARTÃO ID 108

Para uma situação em que houvesse a opção de realizar uma viagem de **CAMINHÃO 4 EIXOS** com uma distância de **80 KM (ATÉ 1 HORA)** por duas alternativas de rotas, conforme apresentado nas imagens abaixo, qual é a alternativa que você escolheria?

<p>GRUPO 4D</p> <p>ORDEM 1 DE 4</p> <p>CARTÃO ID 109</p> <p>PISTA DUPLA</p>		
Alternativa	RODOVIA PEDAGIADA	FUGA
Tempo de Viagem	00:50	01:25
Pagamento Pedágio(s)	R\$ 24.60	SEM PEDÁGIO
Escolha	A	B

CAMINHÃO 4 EIXOS / PISTA DUPLA / ATÉ 1 HORA / GRUPO 4D / CARTÃO ID 109

Para uma situação em que houvesse a opção de realizar uma viagem de **CAMINHÃO 4 EIXOS** com uma distância de **80 KM (ATÉ 1 HORA)** por duas alternativas de rotas, conforme apresentado nas imagens abaixo, qual é a alternativa que você escolheria?

<p>GRUPO 4D</p> <p>ORDEM 2 DE 4</p> <p>CARTÃO ID 110</p> <p>PISTA DUPLA</p>		
Alternativa	RODOVIA PEDAGIADA	FUGA
Tempo de Viagem	00:55	01:20
Pagamento Pedágio(s)	R\$ 24.60	SEM PEDÁGIO
Escolha	A	B

CAMINHÃO 4 EIXOS / PISTA DUPLA / ATÉ 1 HORA / GRUPO 4D / CARTÃO ID 110

Para uma situação em que houvesse a opção de realizar uma viagem de **CAMINHÃO 4 EIXOS** com uma distância de **80 KM (ATÉ 1 HORA)** por duas alternativas de rotas, conforme apresentado nas imagens abaixo, qual é a alternativa que você escolheria?

<p>GRUPO 4D</p> <p>ORDEM 3 DE 4</p> <p>CARTÃO ID 111</p> <p>PISTA DUPLA</p>		
Alternativa	RODOVIA PEDAGIADA	FUGA
Tempo de Viagem	01:00	01:20
Pagamento Pedágio(s)	R\$ 24.60	SEM PEDÁGIO
Escolha	A	B

CAMINHÃO 4 EIXOS / PISTA DUPLA / ATÉ 1 HORA / GRUPO 4D / CARTÃO ID 111

Para uma situação em que houvesse a opção de realizar uma viagem de **CAMINHÃO 4 EIXOS** com uma distância de **160 KM (ENTRE 1-2 HORAS)** por duas alternativas de rotas, conforme apresentado nas imagens abaixo, qual é a alternativa que você escolheria?

<p>GRUPO 4D</p> <p>ORDEM 4 DE 4</p> <p>CARTÃO ID 112</p> <p>PISTA DUPLA</p>		
Alternativa	RODOVIA PEDAGIADA	FUGA
Tempo de Viagem	01:30	03:10
Pagamento Pedágio(s)	R\$ 49.00	SEM PEDÁGIO
Escolha	A	B

CAMINHÃO 4 EIXOS / PISTA DUPLA / ENTRE 1-2 HORAS / GRUPO 4D / CARTÃO ID 112

Para uma situação em que houvesse a opção de realizar uma viagem de **CAMINHÃO 4 EIXOS** com uma distância de **160 KM (ENTRE 1-2 HORAS)** por duas alternativas de rotas, conforme apresentado nas imagens abaixo, qual é a alternativa que você escolheria?

GRUPO 4E ORDEM 1 DE 4 CARTÃO ID 113 PISTA SIMPLES		
Alternativa	RODOVIA PEDAGIADA	FUGA
Tempo de Viagem	01:35	03:10
Pagamento Pedágio(s)	R\$ 49.00	SEM PEDÁGIO
Escolha	A	B

CAMINHÃO 4 EIXOS / PISTA SIMPLES / ENTRE 1-2 HORAS / GRUPO 4E / CARTÃO ID 113

Para uma situação em que houvesse a opção de realizar uma viagem de **CAMINHÃO 4 EIXOS** com uma distância de **160 KM (ENTRE 1-2 HORAS)** por duas alternativas de rotas, conforme apresentado nas imagens abaixo, qual é a alternativa que você escolheria?

<p>GRUPO 4E</p> <p>ORDEM 2 DE 4</p> <p>CARTÃO ID 114</p> <p>PISTA SIMPLES</p>		
Alternativa	RODOVIA PEDAGIADA	FUGA
Tempo de Viagem	01:30	02:35
Pagamento Pedágio(s)	R\$ 49.00	SEM PEDÁGIO
Escolha	A	B

CAMINHÃO 4 EIXOS / PISTA SIMPLES / ENTRE 1-2 HORAS / GRUPO 4E / CARTÃO ID 114

Para uma situação em que houvesse a opção de realizar uma viagem de **CAMINHÃO 4 EIXOS** com uma distância de **160 KM (ENTRE 1-2 HORAS)** por duas alternativas de rotas, conforme apresentado nas imagens abaixo, qual é a alternativa que você escolheria?

<p>GRUPO 4E</p> <p>ORDEM 3 DE 4</p> <p>CARTÃO ID 115</p> <p>PISTA SIMPLES</p>		
Alternativa	RODOVIA PEDAGIADA	FUGA
Tempo de Viagem	01:30	02:50
Pagamento Pedágio(s)	R\$ 80.00	SEM PEDÁGIO
Escolha	A	B

CAMINHÃO 4 EIXOS / PISTA SIMPLES / ENTRE 1-2 HORAS / GRUPO 4E / CARTÃO ID 115

Para uma situação em que houvesse a opção de realizar uma viagem de **CAMINHÃO 4 EIXOS** com uma distância de **160 KM (ENTRE 1-2 HORAS)** por duas alternativas de rotas, conforme apresentado nas imagens abaixo, qual é a alternativa que você escolheria?

<p>GRUPO 4E</p> <p>ORDEM 4 DE 4</p> <p>CARTÃO ID 116</p> <p>PISTA SIMPLES</p>		
Alternativa	RODOVIA PEDAGIADA	FUGA
Tempo de Viagem	01:45	02:50
Pagamento Pedágio(s)	R\$ 80.00	SEM PEDÁGIO
Escolha	A	B

CAMINHÃO 4 EIXOS / PISTA SIMPLES / ENTRE 1-2 HORAS / GRUPO 4E / CARTÃO ID 116

Para uma situação em que houvesse a opção de realizar uma viagem de **CAMINHÃO 4 EIXOS** com uma distância de **160 KM (ENTRE 1-2 HORAS)** por duas alternativas de rotas, conforme apresentado nas imagens abaixo, qual é a alternativa que você escolheria?

<p>GRUPO 4F</p> <p>ORDEM 1 DE 4</p> <p>CARTÃO ID 117</p> <p>PISTA SIMPLES</p>		
Alternativa	RODOVIA PEDAGIADA	FUGA
Tempo de Viagem	01:30	02:50
Pagamento Pedágio(s)	R\$ 49.00	SEM PEDÁGIO
Escolha	A	B

CAMINHÃO 4 EIXOS / PISTA SIMPLES / ENTRE 1-2 HORAS / GRUPO 4F / CARTÃO ID 117

Para uma situação em que houvesse a opção de realizar uma viagem de **CAMINHÃO 4 EIXOS** com uma distância de **160 KM (ENTRE 1-2 HORAS)** por duas alternativas de rotas, conforme apresentado nas imagens abaixo, qual é a alternativa que você escolheria?

<p>GRUPO 4F</p> <p>ORDEM 2 DE 4</p> <p>CARTÃO ID 118</p> <p>PISTA SIMPLES</p>		
Alternativa	RODOVIA PEDAGIADA	FUGA
Tempo de Viagem	01:30	02:25
Pagamento Pedágio(s)	R\$ 49.00	SEM PEDÁGIO
Escolha	A	B

CAMINHÃO 4 EIXOS / PISTA SIMPLES / ENTRE 1-2 HORAS / GRUPO 4F / CARTÃO ID 118

Para uma situação em que houvesse a opção de realizar uma viagem de **CAMINHÃO 4 EIXOS** com uma distância de **160 KM (ENTRE 1-2 HORAS)** por duas alternativas de rotas, conforme apresentado nas imagens abaixo, qual é a alternativa que você escolheria?

<p>GRUPO 4F</p> <p>ORDEM 3 DE 4</p> <p>CARTÃO ID 119</p> <p>PISTA SIMPLES</p>		
Alternativa	RODOVIA PEDAGIADA	FUGA
Tempo de Viagem	01:35	03:10
Pagamento Pedágio(s)	R\$ 110.00	SEM PEDÁGIO
Escolha	A	B

CAMINHÃO 4 EIXOS / PISTA SIMPLES / ENTRE 1-2 HORAS / GRUPO 4F / CARTÃO ID 119

Para uma situação em que houvesse a opção de realizar uma viagem de **CAMINHÃO 4 EIXOS** com uma distância de **160 KM (ENTRE 1-2 HORAS)** por duas alternativas de rotas, conforme apresentado nas imagens abaixo, qual é a alternativa que você escolheria?

<p>GRUPO 4F</p> <p>ORDEM 4 DE 4</p> <p>CARTÃO ID 120</p> <p>PISTA SIMPLES</p>		
Alternativa	RODOVIA PEDAGIADA	FUGA
Tempo de Viagem	01:35	02:35
Pagamento Pedágio(s)	R\$ 80.00	SEM PEDÁGIO
Escolha	A	B

CAMINHÃO 4 EIXOS / PISTA SIMPLES / ENTRE 1-2 HORAS / GRUPO 4F / CARTÃO ID 120

Para uma situação em que houvesse a opção de realizar uma viagem de **CAMINHÃO 4 EIXOS** com uma distância de **160 KM (ENTRE 1-2 HORAS)** por duas alternativas de rotas, conforme apresentado nas imagens abaixo, qual é a alternativa que você escolheria?

<p>GRUPO 4G</p> <p>ORDEM 1 DE 4</p> <p>CARTÃO ID 121</p> <p>PISTA DUPLA</p>		
Alternativa	RODOVIA PEDAGIADA	FUGA
Tempo de Viagem	01:45	03:10
Pagamento Pedágio(s)	R\$ 49.00	SEM PEDÁGIO
Escolha	A	B

CAMINHÃO 4 EIXOS / PISTA DUPLA / ENTRE 1-2 HORAS / GRUPO 4G / CARTÃO ID 121

Para uma situação em que houvesse a opção de realizar uma viagem de **CAMINHÃO 4 EIXOS** com uma distância de **160 KM (ENTRE 1-2 HORAS)** por duas alternativas de rotas, conforme apresentado nas imagens abaixo, qual é a alternativa que você escolheria?

<p>GRUPO 4G</p> <p>ORDEM 2 DE 4</p> <p>CARTÃO ID 122</p> <p>PISTA DUPLA</p>		
Alternativa	RODOVIA PEDAGIADA	FUGA
Tempo de Viagem	01:35	03:10
Pagamento Pedágio(s)	R\$ 80.00	SEM PEDÁGIO
Escolha	A	B

CAMINHÃO 4 EIXOS / PISTA DUPLA / ENTRE 1-2 HORAS / GRUPO 4G / CARTÃO ID 122

Para uma situação em que houvesse a opção de realizar uma viagem de **CAMINHÃO 4 EIXOS** com uma distância de **160 KM (ENTRE 1-2 HORAS)** por duas alternativas de rotas, conforme apresentado nas imagens abaixo, qual é a alternativa que você escolheria?

<p>GRUPO 4G</p> <p>ORDEM 3 DE 4</p> <p>CARTÃO ID 123</p> <p>PISTA DUPLA</p>		
Alternativa	RODOVIA PEDAGIADA	FUGA
Tempo de Viagem	01:30	03:10
Pagamento Pedágio(s)	R\$ 110.00	SEM PEDÁGIO
Escolha	A	B

CAMINHÃO 4 EIXOS / PISTA DUPLA / ENTRE 1-2 HORAS / GRUPO 4G / CARTÃO ID 123

Para uma situação em que houvesse a opção de realizar uma viagem de **CAMINHÃO 4 EIXOS** com uma distância de **160 KM (ENTRE 1-2 HORAS)** por duas alternativas de rotas, conforme apresentado nas imagens abaixo, qual é a alternativa que você escolheria?

<p>GRUPO 4G</p> <p>ORDEM 4 DE 4</p> <p>CARTÃO ID 124</p> <p>PISTA DUPLA</p>		
Alternativa	RODOVIA PEDAGIADA	FUGA
Tempo de Viagem	01:45	03:10
Pagamento Pedágio(s)	R\$ 110.00	SEM PEDÁGIO
Escolha	A	B

CAMINHÃO 4 EIXOS / PISTA DUPLA / ENTRE 1-2 HORAS / GRUPO 4G / CARTÃO ID 124

Para uma situação em que houvesse a opção de realizar uma viagem de **CAMINHÃO 4 EIXOS** com uma distância de **160 KM (ENTRE 1-2 HORAS)** por duas alternativas de rotas, conforme apresentado nas imagens abaixo, qual é a alternativa que você escolheria?

<p>GRUPO 4H</p> <p>ORDEM 1 DE 4</p> <p>CARTÃO ID 125</p> <p>PISTA DUPLA</p>		
Alternativa	RODOVIA PEDAGIADA	FUGA
Tempo de Viagem	02:00	03:10
Pagamento Pedágio(s)	R\$ 49.00	SEM PEDÁGIO
Escolha	A	B

CAMINHÃO 4 EIXOS / PISTA DUPLA / ENTRE 1-2 HORAS / GRUPO 4H / CARTÃO ID 125

Para uma situação em que houvesse a opção de realizar uma viagem de **CAMINHÃO 4 EIXOS** com uma distância de **160 KM (ENTRE 1-2 HORAS)** por duas alternativas de rotas, conforme apresentado nas imagens abaixo, qual é a alternativa que você escolheria?

<p>GRUPO 4H</p> <p>ORDEM 2 DE 4</p> <p>CARTÃO ID 126</p> <p>PISTA DUPLA</p>		
Alternativa	RODOVIA PEDAGIADA	FUGA
Tempo de Viagem	01:45	02:35
Pagamento Pedágio(s)	R\$ 49.00	SEM PEDÁGIO
Escolha	A	B

CAMINHÃO 4 EIXOS / PISTA DUPLA / ENTRE 1-2 HORAS / GRUPO 4H / CARTÃO ID 126

Para uma situação em que houvesse a opção de realizar uma viagem de **CAMINHÃO 4 EIXOS** com uma distância de **160 KM (ENTRE 1-2 HORAS)** por duas alternativas de rotas, conforme apresentado nas imagens abaixo, qual é a alternativa que você escolheria?

<p>GRUPO 4H</p> <p>ORDEM 3 DE 4</p> <p>CARTÃO ID 127</p> <p>PISTA DUPLA</p>		
Alternativa	RODOVIA PEDAGIADA	FUGA
Tempo de Viagem	01:45	02:25
Pagamento Pedágio(s)	R\$ 49.00	SEM PEDÁGIO
Escolha	A	B

CAMINHÃO 4 EIXOS / PISTA DUPLA / ENTRE 1-2 HORAS / GRUPO 4H / CARTÃO ID 127

Para uma situação em que houvesse a opção de realizar uma viagem de **CAMINHÃO 4 EIXOS** com uma distância de **240 KM (ACIMA DE 2 HORAS)** por duas alternativas de rotas, conforme apresentado nas imagens abaixo, qual é a alternativa que você escolheria?

GRUPO 4H ORDEM 4 DE 4 CARTÃO ID 128 PISTA DUPLA		
Alternativa	RODOVIA PEDAGIADA	FUGA
Tempo de Viagem	02:10	04:50
Pagamento Pedágio(s)	R\$ 61.00	SEM PEDÁGIO
Escolha	A	B

CAMINHÃO 4 EIXOS / PISTA DUPLA / ACIMA DE 2 HORAS / GRUPO 4H / CARTÃO ID 128

Para uma situação em que houvesse a opção de realizar uma viagem de **CAMINHÃO 4 EIXOS** com uma distância de **240 KM (ACIMA DE 2 HORAS)** por duas alternativas de rotas, conforme apresentado nas imagens abaixo, qual é a alternativa que você escolheria?

<p>GRUPO 4I</p> <p>ORDEM 1 DE 4</p> <p>CARTÃO ID 129</p> <p>PISTA SIMPLES</p>		
Alternativa	RODOVIA PEDAGIADA	FUGA
Tempo de Viagem	02:10	04:20
Pagamento Pedágio(s)	R\$ 61.00	SEM PEDÁGIO
Escolha	A	B

CAMINHÃO 4 EIXOS / PISTA SIMPLES / ACIMA DE 2 HORAS / GRUPO 4I / CARTÃO ID 129

Para uma situação em que houvesse a opção de realizar uma viagem de **CAMINHÃO 4 EIXOS** com uma distância de **240 KM (ACIMA DE 2 HORAS)** por duas alternativas de rotas, conforme apresentado nas imagens abaixo, qual é a alternativa que você escolheria?

<p>GRUPO 4I</p> <p>ORDEM 2 DE 4</p> <p>CARTÃO ID 130</p> <p>PISTA SIMPLES</p>		
Alternativa	RODOVIA PEDAGIADA	FUGA
Tempo de Viagem	02:10	03:35
Pagamento Pedágio(s)	R\$ 61.00	SEM PEDÁGIO
Escolha	A	B

CAMINHÃO 4 EIXOS / PISTA SIMPLES / ACIMA DE 2 HORAS / GRUPO 4I / CARTÃO ID 130

Para uma situação em que houvesse a opção de realizar uma viagem de **CAMINHÃO 4 EIXOS** com uma distância de **240 KM (ACIMA DE 2 HORAS)** por duas alternativas de rotas, conforme apresentado nas imagens abaixo, qual é a alternativa que você escolheria?

<p>GRUPO 4I</p> <p>ORDEM 3 DE 4</p> <p>CARTÃO ID 131</p> <p>PISTA SIMPLES</p>		
Alternativa	RODOVIA PEDAGIADA	FUGA
Tempo de Viagem	03:00	04:50
Pagamento Pedágio(s)	R\$ 100.00	SEM PEDÁGIO
Escolha	A	B

CAMINHÃO 4 EIXOS / PISTA SIMPLES / ACIMA DE 2 HORAS / GRUPO 4I / CARTÃO ID 131

Para uma situação em que houvesse a opção de realizar uma viagem de **CAMINHÃO 4 EIXOS** com uma distância de **240 KM (ACIMA DE 2 HORAS)** por duas alternativas de rotas, conforme apresentado nas imagens abaixo, qual é a alternativa que você escolheria?

<p>GRUPO 4I</p> <p>ORDEM 4 DE 4</p> <p>CARTÃO ID 132</p> <p>PISTA SIMPLES</p>		
Alternativa	RODOVIA PEDAGIADA	FUGA
Tempo de Viagem	02:10	03:35
Pagamento Pedágio(s)	R\$ 100.00	SEM PEDÁGIO
Escolha	A	B

CAMINHÃO 4 EIXOS / PISTA SIMPLES / ACIMA DE 2 HORAS / GRUPO 4I / CARTÃO ID 132

Para uma situação em que houvesse a opção de realizar uma viagem de **CAMINHÃO 4 EIXOS** com uma distância de **240 KM (ACIMA DE 2 HORAS)** por duas alternativas de rotas, conforme apresentado nas imagens abaixo, qual é a alternativa que você escolheria?

<p>GRUPO 4J</p> <p>ORDEM 1 DE 4</p> <p>CARTÃO ID 133</p> <p>PISTA SIMPLES</p>		
Alternativa	RODOVIA PEDAGIADA	FUGA
Tempo de Viagem	02:40	04:20
Pagamento Pedágio(s)	R\$ 61.00	SEM PEDÁGIO
Escolha	A	B

CAMINHÃO 4 EIXOS / PISTA SIMPLES / ACIMA DE 2 HORAS / GRUPO 4J / CARTÃO ID 133

Para uma situação em que houvesse a opção de realizar uma viagem de **CAMINHÃO 4 EIXOS** com uma distância de **240 KM (ACIMA DE 2 HORAS)** por duas alternativas de rotas, conforme apresentado nas imagens abaixo, qual é a alternativa que você escolheria?

<p>GRUPO 4J</p> <p>ORDEM 2 DE 4</p> <p>CARTÃO ID 134</p> <p>PISTA SIMPLES</p>		
Alternativa	RODOVIA PEDAGIADA	FUGA
Tempo de Viagem	02:40	03:55
Pagamento Pedágio(s)	R\$ 61.00	SEM PEDÁGIO
Escolha	A	B

CAMINHÃO 4 EIXOS / PISTA SIMPLES / ACIMA DE 2 HORAS / GRUPO 4J / CARTÃO ID 134

Para uma situação em que houvesse a opção de realizar uma viagem de **CAMINHÃO 4 EIXOS** com uma distância de **240 KM (ACIMA DE 2 HORAS)** por duas alternativas de rotas, conforme apresentado nas imagens abaixo, qual é a alternativa que você escolheria?

<p>GRUPO 4J</p> <p>ORDEM 3 DE 4</p> <p>CARTÃO ID 135</p> <p>PISTA SIMPLES</p>		
Alternativa	RODOVIA PEDAGIADA	FUGA
Tempo de Viagem	02:40	04:50
Pagamento Pedágio(s)	R\$ 138.00	SEM PEDÁGIO
Escolha	A	B

CAMINHÃO 4 EIXOS / PISTA SIMPLES / ACIMA DE 2 HORAS / GRUPO 4J / CARTÃO ID 135

Para uma situação em que houvesse a opção de realizar uma viagem de **CAMINHÃO 4 EIXOS** com uma distância de **240 KM (ACIMA DE 2 HORAS)** por duas alternativas de rotas, conforme apresentado nas imagens abaixo, qual é a alternativa que você escolheria?

<p>GRUPO 4J</p> <p>ORDEM 4 DE 4</p> <p>CARTÃO ID 136</p> <p>PISTA SIMPLES</p>		
Alternativa	RODOVIA PEDAGIADA	FUGA
Tempo de Viagem	02:10	03:55
Pagamento Pedágio(s)	R\$ 138.00	SEM PEDÁGIO
Escolha	A	B

CAMINHÃO 4 EIXOS / PISTA SIMPLES / ACIMA DE 2 HORAS / GRUPO 4J / CARTÃO ID 136

Para uma situação em que houvesse a opção de realizar uma viagem de **CAMINHÃO 4 EIXOS** com uma distância de **240 KM (ACIMA DE 2 HORAS)** por duas alternativas de rotas, conforme apresentado nas imagens abaixo, qual é a alternativa que você escolheria?

<p>GRUPO 4K</p> <p>ORDEM 1 DE 4</p> <p>CARTÃO ID 137</p> <p>PISTA DUPLA</p>		
Alternativa	RODOVIA PEDAGIADA	FUGA
Tempo de Viagem	03:00	04:50
Pagamento Pedágio(s)	R\$ 61.00	SEM PEDÁGIO
Escolha	A	B

CAMINHÃO 4 EIXOS / PISTA DUPLA / ACIMA DE 2 HORAS / GRUPO 4K / CARTÃO ID 137

Para uma situação em que houvesse a opção de realizar uma viagem de **CAMINHÃO 4 EIXOS** com uma distância de **240 KM (ACIMA DE 2 HORAS)** por duas alternativas de rotas, conforme apresentado nas imagens abaixo, qual é a alternativa que você escolheria?

<p>GRUPO 4K</p> <p>ORDEM 2 DE 4</p> <p>CARTÃO ID 138</p> <p>PISTA DUPLA</p>		
Alternativa	RODOVIA PEDAGIADA	FUGA
Tempo de Viagem	02:10	04:20
Pagamento Pedágio(s)	R\$ 100.00	SEM PEDÁGIO
Escolha	A	B

CAMINHÃO 4 EIXOS / PISTA DUPLA / ACIMA DE 2 HORAS / GRUPO 4K / CARTÃO ID 138

Para uma situação em que houvesse a opção de realizar uma viagem de **CAMINHÃO 4 EIXOS** com uma distância de **240 KM (ACIMA DE 2 HORAS)** por duas alternativas de rotas, conforme apresentado nas imagens abaixo, qual é a alternativa que você escolheria?

<p>GRUPO 4K</p> <p>ORDEM 3 DE 4</p> <p>CARTÃO ID 139</p> <p>PISTA DUPLA</p>		
Alternativa	RODOVIA PEDAGIADA	FUGA
Tempo de Viagem	02:40	04:20
Pagamento Pedágio(s)	R\$ 100.00	SEM PEDÁGIO
Escolha	A	B

CAMINHÃO 4 EIXOS / PISTA DUPLA / ACIMA DE 2 HORAS / GRUPO 4K / CARTÃO ID 139

Para uma situação em que houvesse a opção de realizar uma viagem de **CAMINHÃO 4 EIXOS** com uma distância de **240 KM (ACIMA DE 2 HORAS)** por duas alternativas de rotas, conforme apresentado nas imagens abaixo, qual é a alternativa que você escolheria?

<p>GRUPO 4K</p> <p>ORDEM 4 DE 4</p> <p>CARTÃO ID 140</p> <p>PISTA DUPLA</p>		
Alternativa	RODOVIA PEDAGIADA	FUGA
Tempo de Viagem	03:00	04:50
Pagamento Pedágio(s)	R\$ 138.00	SEM PEDÁGIO
Escolha	A	B

CAMINHÃO 4 EIXOS / PISTA DUPLA / ACIMA DE 2 HORAS / GRUPO 4K / CARTÃO ID 140

Para uma situação em que houvesse a opção de realizar uma viagem de **CAMINHÃO 4 EIXOS** com uma distância de **240 KM (ACIMA DE 2 HORAS)** por duas alternativas de rotas, conforme apresentado nas imagens abaixo, qual é a alternativa que você escolheria?

<p>GRUPO 4L</p> <p>ORDEM 1 DE 4</p> <p>CARTÃO ID 141</p> <p>PISTA DUPLA</p>		
Alternativa	RODOVIA PEDAGIADA	FUGA
Tempo de Viagem	02:24	03:55
Pagamento Pedágio(s)	R\$ 61.00	SEM PEDÁGIO
Escolha	A	B

CAMINHÃO 4 EIXOS / PISTA DUPLA / ACIMA DE 2 HORAS / GRUPO 4L / CARTÃO ID 141

Para uma situação em que houvesse a opção de realizar uma viagem de **CAMINHÃO 4 EIXOS** com uma distância de **240 KM (ACIMA DE 2 HORAS)** por duas alternativas de rotas, conforme apresentado nas imagens abaixo, qual é a alternativa que você escolheria?

<p>GRUPO 4L</p> <p>ORDEM 2 DE 4</p> <p>CARTÃO ID 142</p> <p>PISTA DUPLA</p>		
Alternativa	RODOVIA PEDAGIADA	FUGA
Tempo de Viagem	02:24	03:35
Pagamento Pedágio(s)	R\$ 61.00	SEM PEDÁGIO
Escolha	A	B

CAMINHÃO 4 EIXOS / PISTA DUPLA / ACIMA DE 2 HORAS / GRUPO 4L / CARTÃO ID 142

Para uma situação em que houvesse a opção de realizar uma viagem de **CAMINHÃO 4 EIXOS** com uma distância de **240 KM (ACIMA DE 2 HORAS)** por duas alternativas de rotas, conforme apresentado nas imagens abaixo, qual é a alternativa que você escolheria?

<p>GRUPO 4L</p> <p>ORDEM 3 DE 4</p> <p>CARTÃO ID 143</p> <p>PISTA DUPLA</p>		
Alternativa	RODOVIA PEDAGIADA	FUGA
Tempo de Viagem	03:00	03:55
Pagamento Pedágio(s)	R\$ 61.00	SEM PEDÁGIO
Escolha	A	B

CAMINHÃO 4 EIXOS / PISTA DUPLA / ACIMA DE 2 HORAS / GRUPO 4L / CARTÃO ID 143

Para uma situação em que houvesse a opção de realizar uma viagem de **CAMINHÃO 4 EIXOS** com uma distância de **240 KM (ACIMA DE 2 HORAS)** por duas alternativas de rotas, conforme apresentado nas imagens abaixo, qual é a alternativa que você escolheria?

<p>GRUPO 4L</p> <p>ORDEM 4 DE 4</p> <p>CARTÃO ID 144</p> <p>PISTA DUPLA</p>		
Alternativa	RODOVIA PEDAGIADA	FUGA
Tempo de Viagem	02:40	03:55
Pagamento Pedágio(s)	R\$ 100.00	SEM PEDÁGIO
Escolha	A	B

CAMINHÃO 4 EIXOS / PISTA DUPLA / ACIMA DE 2 HORAS / GRUPO 4L / CARTÃO ID 144

Para uma situação em que houvesse a opção de realizar uma viagem de **CAMINHÃO 5 EIXOS** com uma distância de **80 KM (ATÉ 1 HORA)** por duas alternativas de rotas, conforme apresentado nas imagens abaixo, qual é a alternativa que você escolheria?

<p>GRUPO 5A</p> <p>ORDEM 1 DE 4</p> <p>CARTÃO ID 145</p> <p>PISTA SIMPLES</p>		
Alternativa	RODOVIA PEDAGIADA	FUGA
Tempo de Viagem	00:45	01:35
Pagamento Pedágio(s)	R\$ 30.75	SEM PEDÁGIO
Escolha	A	B

CAMINHÃO 5 EIXOS / PISTA SIMPLES / ATÉ 1 HORA / GRUPO 5A / CARTÃO ID 145

Para uma situação em que houvesse a opção de realizar uma viagem de **CAMINHÃO 5 EIXOS** com uma distância de **80 KM (ATÉ 1 HORA)** por duas alternativas de rotas, conforme apresentado nas imagens abaixo, qual é a alternativa que você escolheria?

<p>GRUPO 5A</p> <p>ORDEM 2 DE 4</p> <p>CARTÃO ID 146</p> <p>PISTA SIMPLES</p>		
Alternativa	RODOVIA PEDAGIADA	FUGA
Tempo de Viagem	00:50	01:25
Pagamento Pedágio(s)	R\$ 30.75	SEM PEDÁGIO
Escolha	A	B

CAMINHÃO 5 EIXOS / PISTA SIMPLES / ATÉ 1 HORA / GRUPO 5A / CARTÃO ID 146

Para uma situação em que houvesse a opção de realizar uma viagem de **CAMINHÃO 5 EIXOS** com uma distância de **80 KM (ATÉ 1 HORA)** por duas alternativas de rotas, conforme apresentado nas imagens abaixo, qual é a alternativa que você escolheria?

<p>GRUPO 5A</p> <p>ORDEM 3 DE 4</p> <p>CARTÃO ID 147</p> <p>PISTA SIMPLES</p>		
Alternativa	RODOVIA PEDAGIADA	FUGA
Tempo de Viagem	00:50	01:20
Pagamento Pedágio(s)	R\$ 30.75	SEM PEDÁGIO
Escolha	A	B

CAMINHÃO 5 EIXOS / PISTA SIMPLES / ATÉ 1 HORA / GRUPO 5A / CARTÃO ID 147

Para uma situação em que houvesse a opção de realizar uma viagem de **CAMINHÃO 5 EIXOS** com uma distância de **80 KM (ATÉ 1 HORA)** por duas alternativas de rotas, conforme apresentado nas imagens abaixo, qual é a alternativa que você escolheria?

<p>GRUPO 5A</p> <p>ORDEM 4 DE 4</p> <p>CARTÃO ID 148</p> <p>PISTA SIMPLES</p>		
Alternativa	RODOVIA PEDAGIADA	FUGA
Tempo de Viagem	00:45	01:35
Pagamento Pedágio(s)	R\$ 68.75	SEM PEDÁGIO
Escolha	A	B

CAMINHÃO 5 EIXOS / PISTA SIMPLES / ATÉ 1 HORA / GRUPO 5A / CARTÃO ID 148

Para uma situação em que houvesse a opção de realizar uma viagem de **CAMINHÃO 5 EIXOS** com uma distância de **80 KM (ATÉ 1 HORA)** por duas alternativas de rotas, conforme apresentado nas imagens abaixo, qual é a alternativa que você escolheria?

<p>GRUPO 5B</p> <p>ORDEM 1 DE 4</p> <p>CARTÃO ID 149</p> <p>PISTA SIMPLES</p>		
Alternativa	RODOVIA PEDAGIADA	FUGA
Tempo de Viagem	00:45	01:25
Pagamento Pedágio(s)	R\$ 30.75	SEM PEDÁGIO
Escolha	A	B


CAMINHÃO 5 EIXOS / PISTA SIMPLES / ATÉ 1 HORA / GRUPO 5B / CARTÃO ID 149

Para uma situação em que houvesse a opção de realizar uma viagem de **CAMINHÃO 5 EIXOS** com uma distância de **80 KM (ATÉ 1 HORA)** por duas alternativas de rotas, conforme apresentado nas imagens abaixo, qual é a alternativa que você escolheria?

<p>GRUPO 5B</p> <p>ORDEM 2 DE 4</p> <p>CARTÃO ID 150</p> <p>PISTA SIMPLES</p>		
Alternativa	RODOVIA PEDAGIADA	FUGA
Tempo de Viagem	00:45	01:35
Pagamento Pedágio(s)	R\$ 49.75	SEM PEDÁGIO
Escolha	A	B

CAMINHÃO 5 EIXOS / PISTA SIMPLES / ATÉ 1 HORA / GRUPO 5B / CARTÃO ID 150

Para uma situação em que houvesse a opção de realizar uma viagem de **CAMINHÃO 5 EIXOS** com uma distância de **80 KM (ATÉ 1 HORA)** por duas alternativas de rotas, conforme apresentado nas imagens abaixo, qual é a alternativa que você escolheria?

<p>GRUPO 5B</p> <p>ORDEM 3 DE 4</p> <p>CARTÃO ID 151</p> <p>PISTA SIMPLES</p>		
Alternativa	RODOVIA PEDAGIADA	FUGA
Tempo de Viagem	00:55	01:20
Pagamento Pedágio(s)	R\$ 30.75	SEM PEDÁGIO
Escolha	A	B


CAMINHÃO 5 EIXOS / PISTA SIMPLES / ATÉ 1 HORA / GRUPO 5B / CARTÃO ID 151

Para uma situação em que houvesse a opção de realizar uma viagem de **CAMINHÃO 5 EIXOS** com uma distância de **80 KM (ATÉ 1 HORA)** por duas alternativas de rotas, conforme apresentado nas imagens abaixo, qual é a alternativa que você escolheria?

<p>GRUPO 5B</p> <p>ORDEM 4 DE 4</p> <p>CARTÃO ID 152</p> <p>PISTA SIMPLES</p>		
Alternativa	RODOVIA PEDAGIADA	FUGA
Tempo de Viagem	00:45	01:20
Pagamento Pedágio(s)	R\$ 49.75	SEM PEDÁGIO
Escolha	A	B



CAMINHÃO 5 EIXOS / PISTA SIMPLES / ATÉ 1 HORA / GRUPO 5B / CARTÃO ID 152

Para uma situação em que houvesse a opção de realizar uma viagem de **CAMINHÃO 5 EIXOS** com uma distância de **80 KM (ATÉ 1 HORA)** por duas alternativas de rotas, conforme apresentado nas imagens abaixo, qual é a alternativa que você escolheria?

<p>GRUPO 5C</p> <p>ORDEM 1 DE 4</p> <p>CARTÃO ID 153</p> <p>PISTA DUPLA</p>		
Alternativa	RODOVIA PEDAGIADA	FUGA
Tempo de Viagem	00:50	01:35
Pagamento Pedágio(s)	R\$ 30.75	SEM PEDÁGIO
Escolha	A	B

CAMINHÃO 5 EIXOS / PISTA DUPLA / ATÉ 1 HORA / GRUPO 5C / CARTÃO ID 153

Para uma situação em que houvesse a opção de realizar uma viagem de **CAMINHÃO 5 EIXOS** com uma distância de **80 KM (ATÉ 1 HORA)** por duas alternativas de rotas, conforme apresentado nas imagens abaixo, qual é a alternativa que você escolheria?

<p>GRUPO 5C</p> <p>ORDEM 2 DE 4</p> <p>CARTÃO ID 154</p> <p>PISTA DUPLA</p>		
Alternativa	RODOVIA PEDAGIADA	FUGA
Tempo de Viagem	00:45	01:20
Pagamento Pedágio(s)	R\$ 30.75	SEM PEDÁGIO
Escolha	A	B

CAMINHÃO 5 EIXOS / PISTA DUPLA / ATÉ 1 HORA / GRUPO 5C / CARTÃO ID 154

Para uma situação em que houvesse a opção de realizar uma viagem de **CAMINHÃO 5 EIXOS** com uma distância de **80 KM (ATÉ 1 HORA)** por duas alternativas de rotas, conforme apresentado nas imagens abaixo, qual é a alternativa que você escolheria?

<p>GRUPO 5C</p> <p>ORDEM 3 DE 4</p> <p>CARTÃO ID 155</p> <p>PISTA DUPLA</p>		
Alternativa	RODOVIA PEDAGIADA	FUGA
Tempo de Viagem	00:50	01:35
Pagamento Pedágio(s)	R\$ 49.75	SEM PEDÁGIO
Escolha	A	B

CAMINHÃO 5 EIXOS / PISTA DUPLA / ATÉ 1 HORA / GRUPO 5C / CARTÃO ID 155

Para uma situação em que houvesse a opção de realizar uma viagem de **CAMINHÃO 5 EIXOS** com uma distância de **80 KM (ATÉ 1 HORA)** por duas alternativas de rotas, conforme apresentado nas imagens abaixo, qual é a alternativa que você escolheria?

<p>GRUPO 5C</p> <p>ORDEM 4 DE 4</p> <p>CARTÃO ID 156</p> <p>PISTA DUPLA</p>		
Alternativa	RODOVIA PEDAGIADA	FUGA
Tempo de Viagem	00:50	01:25
Pagamento Pedágio(s)	R\$ 49.75	SEM PEDÁGIO
Escolha	A	B


CAMINHÃO 5 EIXOS / PISTA DUPLA / ATÉ 1 HORA / GRUPO 5C / CARTÃO ID 156

Para uma situação em que houvesse a opção de realizar uma viagem de **CAMINHÃO 5 EIXOS** com uma distância de **80 KM (ATÉ 1 HORA)** por duas alternativas de rotas, conforme apresentado nas imagens abaixo, qual é a alternativa que você escolheria?

<p>GRUPO 5D</p> <p>ORDEM 1 DE 4</p> <p>CARTÃO ID 157</p> <p>PISTA DUPLA</p>		
Alternativa	RODOVIA PEDAGIADA	FUGA
Tempo de Viagem	01:00	01:35
Pagamento Pedágio(s)	R\$ 30.75	SEM PEDÁGIO
Escolha	A	B


CAMINHÃO 5 EIXOS / PISTA DUPLA / ATÉ 1 HORA / GRUPO 5D / CARTÃO ID 157

Para uma situação em que houvesse a opção de realizar uma viagem de **CAMINHÃO 5 EIXOS** com uma distância de **80 KM (ATÉ 1 HORA)** por duas alternativas de rotas, conforme apresentado nas imagens abaixo, qual é a alternativa que você escolheria?

<p>GRUPO 5D</p> <p>ORDEM 2 DE 4</p> <p>CARTÃO ID 158</p> <p>PISTA DUPLA</p>		
Alternativa	RODOVIA PEDAGIADA	FUGA
Tempo de Viagem	00:55	01:25
Pagamento Pedágio(s)	R\$ 30.75	SEM PEDÁGIO
Escolha	A	B

CAMINHÃO 5 EIXOS / PISTA DUPLA / ATÉ 1 HORA / GRUPO 5D / CARTÃO ID 158

Para uma situação em que houvesse a opção de realizar uma viagem de **CAMINHÃO 5 EIXOS** com uma distância de **80 KM (ATÉ 1 HORA)** por duas alternativas de rotas, conforme apresentado nas imagens abaixo, qual é a alternativa que você escolheria?

<p>GRUPO 5D</p> <p>ORDEM 3 DE 4</p> <p>CARTÃO ID 159</p> <p>PISTA DUPLA</p>		
Alternativa	RODOVIA PEDAGIADA	FUGA
Tempo de Viagem	00:55	01:35
Pagamento Pedágio(s)	R\$ 49.75	SEM PEDÁGIO
Escolha	A	B

CAMINHÃO 5 EIXOS / PISTA DUPLA / ATÉ 1 HORA / GRUPO 5D / CARTÃO ID 159

Para uma situação em que houvesse a opção de realizar uma viagem de **CAMINHÃO 5 EIXOS** com uma distância de **160 KM (ENTRE 1-2 HORAS)** por duas alternativas de rotas, conforme apresentado nas imagens abaixo, qual é a alternativa que você escolheria?

<p>GRUPO 5D</p> <p>ORDEM 4 DE 4</p> <p>CARTÃO ID 160</p> <p>PISTA DUPLA</p>		
Alternativa	RODOVIA PEDAGIADA	FUGA
Tempo de Viagem	01:30	03:10
Pagamento Pedágio(s)	R\$ 61.25	SEM PEDÁGIO
Escolha	A	B

CAMINHÃO 5 EIXOS / PISTA DUPLA / ENTRE 1-2 HORAS / GRUPO 5D / CARTÃO ID 160

Para uma situação em que houvesse a opção de realizar uma viagem de **CAMINHÃO 5 EIXOS** com uma distância de **160 KM (ENTRE 1-2 HORAS)** por duas alternativas de rotas, conforme apresentado nas imagens abaixo, qual é a alternativa que você escolheria?

<p>GRUPO 5E</p> <p>ORDEM 1 DE 4</p> <p>CARTÃO ID 161</p> <p>PISTA SIMPLES</p>		
Alternativa	RODOVIA PEDAGIADA	FUGA
Tempo de Viagem	01:35	03:10
Pagamento Pedágio(s)	R\$ 61.25	SEM PEDÁGIO
Escolha	A	B

CAMINHÃO 5 EIXOS / PISTA SIMPLES / ENTRE 1-2 HORAS / GRUPO 5E / CARTÃO ID 161

Para uma situação em que houvesse a opção de realizar uma viagem de **CAMINHÃO 5 EIXOS** com uma distância de **160 KM (ENTRE 1-2 HORAS)** por duas alternativas de rotas, conforme apresentado nas imagens abaixo, qual é a alternativa que você escolheria?

<p>GRUPO 5E</p> <p>ORDEM 2 DE 4</p> <p>CARTÃO ID 162</p> <p>PISTA SIMPLES</p>		
Alternativa	RODOVIA PEDAGIADA	FUGA
Tempo de Viagem	02:00	03:10
Pagamento Pedágio(s)	R\$ 61.25	SEM PEDÁGIO
Escolha	A	B

CAMINHÃO 5 EIXOS / PISTA SIMPLES / ENTRE 1-2 HORAS / GRUPO 5E / CARTÃO ID 162

Para uma situação em que houvesse a opção de realizar uma viagem de **CAMINHÃO 5 EIXOS** com uma distância de **160 KM (ENTRE 1-2 HORAS)** por duas alternativas de rotas, conforme apresentado nas imagens abaixo, qual é a alternativa que você escolheria?

<p>GRUPO 5E</p> <p>ORDEM 3 DE 4</p> <p>CARTÃO ID 163</p> <p>PISTA SIMPLES</p>		
Alternativa	RODOVIA PEDAGIADA	FUGA
Tempo de Viagem	01:30	02:25
Pagamento Pedágio(s)	R\$ 61.25	SEM PEDÁGIO
Escolha	A	B

CAMINHÃO 5 EIXOS / PISTA SIMPLES / ENTRE 1-2 HORAS / GRUPO 5E / CARTÃO ID 163

Para uma situação em que houvesse a opção de realizar uma viagem de **CAMINHÃO 5 EIXOS** com uma distância de **160 KM (ENTRE 1-2 HORAS)** por duas alternativas de rotas, conforme apresentado nas imagens abaixo, qual é a alternativa que você escolheria?

<p>GRUPO 5E</p> <p>ORDEM 4 DE 4</p> <p>CARTÃO ID 164</p> <p>PISTA SIMPLES</p>		
Alternativa	RODOVIA PEDAGIADA	FUGA
Tempo de Viagem	01:30	03:10
Pagamento Pedágio(s)	R\$ 137.50	SEM PEDÁGIO
Escolha	A	B

CAMINHÃO 5 EIXOS / PISTA SIMPLES / ENTRE 1-2 HORAS / GRUPO 5E / CARTÃO ID 164

Para uma situação em que houvesse a opção de realizar uma viagem de **CAMINHÃO 5 EIXOS** com uma distância de **160 KM (ENTRE 1-2 HORAS)** por duas alternativas de rotas, conforme apresentado nas imagens abaixo, qual é a alternativa que você escolheria?

<p>GRUPO 5F</p> <p>ORDEM 1 DE 4</p> <p>CARTÃO ID 165</p> <p>PISTA SIMPLES</p>		
Alternativa	RODOVIA PEDAGIADA	FUGA
Tempo de Viagem	01:30	02:50
Pagamento Pedágio(s)	R\$ 61.25	SEM PEDÁGIO
Escolha	A	B

CAMINHÃO 5 EIXOS / PISTA SIMPLES / ENTRE 1-2 HORAS / GRUPO 5F / CARTÃO ID 165

Para uma situação em que houvesse a opção de realizar uma viagem de **CAMINHÃO 5 EIXOS** com uma distância de **160 KM (ENTRE 1-2 HORAS)** por duas alternativas de rotas, conforme apresentado nas imagens abaixo, qual é a alternativa que você escolheria?

<p>GRUPO 5F</p> <p>ORDEM 2 DE 4</p> <p>CARTÃO ID 166</p> <p>PISTA SIMPLES</p>		
Alternativa	RODOVIA PEDAGIADA	FUGA
Tempo de Viagem	01:35	02:35
Pagamento Pedágio(s)	R\$ 61.25	SEM PEDÁGIO
Escolha	A	B

CAMINHÃO 5 EIXOS / PISTA SIMPLES / ENTRE 1-2 HORAS / GRUPO 5F / CARTÃO ID 166

Para uma situação em que houvesse a opção de realizar uma viagem de **CAMINHÃO 5 EIXOS** com uma distância de **160 KM (ENTRE 1-2 HORAS)** por duas alternativas de rotas, conforme apresentado nas imagens abaixo, qual é a alternativa que você escolheria?

<p>GRUPO 5F</p> <p>ORDEM 3 DE 4</p> <p>CARTÃO ID 167</p> <p>PISTA SIMPLES</p>		
Alternativa	RODOVIA PEDAGIADA	FUGA
Tempo de Viagem	01:45	02:35
Pagamento Pedágio(s)	R\$ 61.25	SEM PEDÁGIO
Escolha	A	B



CAMINHÃO 5 EIXOS / PISTA SIMPLES / ENTRE 1-2 HORAS / GRUPO 5F / CARTÃO ID 167

Para uma situação em que houvesse a opção de realizar uma viagem de **CAMINHÃO 5 EIXOS** com uma distância de **160 KM (ENTRE 1-2 HORAS)** por duas alternativas de rotas, conforme apresentado nas imagens abaixo, qual é a alternativa que você escolheria?

<p>GRUPO 5F</p> <p>ORDEM 4 DE 4</p> <p>CARTÃO ID 168</p> <p>PISTA SIMPLES</p>		
Alternativa	RODOVIA PEDAGIADA	FUGA
Tempo de Viagem	01:35	03:10
Pagamento Pedágio(s)	R\$ 137.50	SEM PEDÁGIO
Escolha	A	B



CAMINHÃO 5 EIXOS / PISTA SIMPLES / ENTRE 1-2 HORAS / GRUPO 5F / CARTÃO ID 168

Para uma situação em que houvesse a opção de realizar uma viagem de **CAMINHÃO 5 EIXOS** com uma distância de **160 KM (ENTRE 1-2 HORAS)** por duas alternativas de rotas, conforme apresentado nas imagens abaixo, qual é a alternativa que você escolheria?

<p>GRUPO 5G</p> <p>ORDEM 1 DE 4</p> <p>CARTÃO ID 169</p> <p>PISTA DUPLA</p>		
Alternativa	RODOVIA PEDAGIADA	FUGA
Tempo de Viagem	01:45	03:10
Pagamento Pedágio(s)	R\$ 61.25	SEM PEDÁGIO
Escolha	A	B

CAMINHÃO 5 EIXOS / PISTA DUPLA / ENTRE 1-2 HORAS / GRUPO 5G / CARTÃO ID 169

Para uma situação em que houvesse a opção de realizar uma viagem de **CAMINHÃO 5 EIXOS** com uma distância de **160 KM (ENTRE 1-2 HORAS)** por duas alternativas de rotas, conforme apresentado nas imagens abaixo, qual é a alternativa que você escolheria?

<p>GRUPO 5G</p> <p>ORDEM 2 DE 4</p> <p>CARTÃO ID 170</p> <p>PISTA DUPLA</p>		
Alternativa	RODOVIA PEDAGIADA	FUGA
Tempo de Viagem	01:45	02:50
Pagamento Pedágio(s)	R\$ 61.25	SEM PEDÁGIO
Escolha	A	B

CAMINHÃO 5 EIXOS / PISTA DUPLA / ENTRE 1-2 HORAS / GRUPO 5G / CARTÃO ID 170

Para uma situação em que houvesse a opção de realizar uma viagem de **CAMINHÃO 5 EIXOS** com uma distância de **160 KM (ENTRE 1-2 HORAS)** por duas alternativas de rotas, conforme apresentado nas imagens abaixo, qual é a alternativa que você escolheria?

<p>GRUPO 5G</p> <p>ORDEM 3 DE 4</p> <p>CARTÃO ID 171</p> <p>PISTA DUPLA</p>		
Alternativa	RODOVIA PEDAGIADA	FUGA
Tempo de Viagem	01:45	03:10
Pagamento Pedágio(s)	R\$ 100.00	SEM PEDÁGIO
Escolha	A	B



CAMINHÃO 5 EIXOS / PISTA DUPLA / ENTRE 1-2 HORAS / GRUPO 5G / CARTÃO ID 171

Para uma situação em que houvesse a opção de realizar uma viagem de **CAMINHÃO 5 EIXOS** com uma distância de **160 KM (ENTRE 1-2 HORAS)** por duas alternativas de rotas, conforme apresentado nas imagens abaixo, qual é a alternativa que você escolheria?

<p>GRUPO 5G</p> <p>ORDEM 4 DE 4</p> <p>CARTÃO ID 172</p> <p>PISTA DUPLA</p>		
Alternativa	RODOVIA PEDAGIADA	FUGA
Tempo de Viagem	02:00	03:10
Pagamento Pedágio(s)	R\$ 100.00	SEM PEDÁGIO
Escolha	A	B

CAMINHÃO 5 EIXOS / PISTA DUPLA / ENTRE 1-2 HORAS / GRUPO 5G / CARTÃO ID 172

Para uma situação em que houvesse a opção de realizar uma viagem de **CAMINHÃO 5 EIXOS** com uma distância de **160 KM (ENTRE 1-2 HORAS)** por duas alternativas de rotas, conforme apresentado nas imagens abaixo, qual é a alternativa que você escolheria?

<p>GRUPO 5H</p> <p>ORDEM 1 DE 4</p> <p>CARTÃO ID 173</p> <p>PISTA DUPLA</p>		
Alternativa	RODOVIA PEDAGIADA	FUGA
Tempo de Viagem	01:35	02:50
Pagamento Pedágio(s)	R\$ 61.25	SEM PEDÁGIO
Escolha	A	B

CAMINHÃO 5 EIXOS / PISTA DUPLA / ENTRE 1-2 HORAS / GRUPO 5H / CARTÃO ID 173

Para uma situação em que houvesse a opção de realizar uma viagem de **CAMINHÃO 5 EIXOS** com uma distância de **160 KM (ENTRE 1-2 HORAS)** por duas alternativas de rotas, conforme apresentado nas imagens abaixo, qual é a alternativa que você escolheria?

<p>GRUPO 5H</p> <p>ORDEM 2 DE 4</p> <p>CARTÃO ID 174</p> <p>PISTA DUPLA</p>		
Alternativa	RODOVIA PEDAGIADA	FUGA
Tempo de Viagem	01:35	03:10
Pagamento Pedágio(s)	R\$ 100.00	SEM PEDÁGIO
Escolha	A	B


CAMINHÃO 5 EIXOS / PISTA DUPLA / ENTRE 1-2 HORAS / GRUPO 5H / CARTÃO ID 174

Para uma situação em que houvesse a opção de realizar uma viagem de **CAMINHÃO 5 EIXOS** com uma distância de **160 KM (ENTRE 1-2 HORAS)** por duas alternativas de rotas, conforme apresentado nas imagens abaixo, qual é a alternativa que você escolheria?

<p>GRUPO 5H</p> <p>ORDEM 3 DE 4</p> <p>CARTÃO ID 175</p> <p>PISTA DUPLA</p>		
Alternativa	RODOVIA PEDAGIADA	FUGA
Tempo de Viagem	01:35	02:50
Pagamento Pedágio(s)	R\$ 100.00	SEM PEDÁGIO
Escolha	A	B

CAMINHÃO 5 EIXOS / PISTA DUPLA / ENTRE 1-2 HORAS / GRUPO 5H / CARTÃO ID 175

Para uma situação em que houvesse a opção de realizar uma viagem de **CAMINHÃO 5 EIXOS** com uma distância de **240 KM (ACIMA DE 2 HORAS)** por duas alternativas de rotas, conforme apresentado nas imagens abaixo, qual é a alternativa que você escolheria?

<p>GRUPO 5H</p> <p>ORDEM 4 DE 4</p> <p>CARTÃO ID 176</p> <p>PISTA DUPLA</p>		
Alternativa	RODOVIA PEDAGIADA	FUGA
Tempo de Viagem	02:10	04:50
Pagamento Pedágio(s)	R\$ 76.25	SEM PEDÁGIO
Escolha	A	B

CAMINHÃO 5 EIXOS / PISTA DUPLA / ACIMA DE 2 HORAS / GRUPO 5H / CARTÃO ID 176

Para uma situação em que houvesse a opção de realizar uma viagem de **CAMINHÃO 5 EIXOS** com uma distância de **240 KM (ACIMA DE 2 HORAS)** por duas alternativas de rotas, conforme apresentado nas imagens abaixo, qual é a alternativa que você escolheria?

<p>GRUPO 5I</p> <p>ORDEM 1 DE 4</p> <p>CARTÃO ID 177</p> <p>PISTA SIMPLES</p>		
Alternativa	RODOVIA PEDAGIADA	FUGA
Tempo de Viagem	02:10	04:20
Pagamento Pedágio(s)	R\$ 76.25	SEM PEDÁGIO
Escolha	A	B

CAMINHÃO 5 EIXOS / PISTA SIMPLES / ACIMA DE 2 HORAS / GRUPO 5I / CARTÃO ID 177

Para uma situação em que houvesse a opção de realizar uma viagem de **CAMINHÃO 5 EIXOS** com uma distância de **240 KM (ACIMA DE 2 HORAS)** por duas alternativas de rotas, conforme apresentado nas imagens abaixo, qual é a alternativa que você escolheria?

<p>GRUPO 5I</p> <p>ORDEM 2 DE 4</p> <p>CARTÃO ID 178</p> <p>PISTA SIMPLES</p>		
Alternativa	RODOVIA PEDAGIADA	FUGA
Tempo de Viagem	02:10	03:35
Pagamento Pedágio(s)	R\$ 76.25	SEM PEDÁGIO
Escolha	A	B

CAMINHÃO 5 EIXOS / PISTA SIMPLES / ACIMA DE 2 HORAS / GRUPO 5I / CARTÃO ID 178

Para uma situação em que houvesse a opção de realizar uma viagem de **CAMINHÃO 5 EIXOS** com uma distância de **240 KM (ACIMA DE 2 HORAS)** por duas alternativas de rotas, conforme apresentado nas imagens abaixo, qual é a alternativa que você escolheria?

<p>GRUPO 5I</p> <p>ORDEM 3 DE 4</p> <p>CARTÃO ID 179</p> <p>PISTA SIMPLES</p>		
Alternativa	RODOVIA PEDAGIADA	FUGA
Tempo de Viagem	03:00	04:50
Pagamento Pedágio(s)	R\$ 125.00	SEM PEDÁGIO
Escolha	A	B

CAMINHÃO 5 EIXOS / PISTA SIMPLES / ACIMA DE 2 HORAS / GRUPO 5I / CARTÃO ID 179

Para uma situação em que houvesse a opção de realizar uma viagem de **CAMINHÃO 5 EIXOS** com uma distância de **240 KM (ACIMA DE 2 HORAS)** por duas alternativas de rotas, conforme apresentado nas imagens abaixo, qual é a alternativa que você escolheria?

<p>GRUPO 5I</p> <p>ORDEM 4 DE 4</p> <p>CARTÃO ID 180</p> <p>PISTA SIMPLES</p>		
Alternativa	RODOVIA PEDAGIADA	FUGA
Tempo de Viagem	02:10	04:50
Pagamento Pedágio(s)	R\$ 220.00	SEM PEDÁGIO
Escolha	A	B

CAMINHÃO 5 EIXOS / PISTA SIMPLES / ACIMA DE 2 HORAS / GRUPO 5I / CARTÃO ID 180

Para uma situação em que houvesse a opção de realizar uma viagem de **CAMINHÃO 5 EIXOS** com uma distância de **240 KM (ACIMA DE 2 HORAS)** por duas alternativas de rotas, conforme apresentado nas imagens abaixo, qual é a alternativa que você escolheria?

<p>GRUPO 5J</p> <p>ORDEM 1 DE 4</p> <p>CARTÃO ID 181</p> <p>PISTA SIMPLES</p>		
Alternativa	RODOVIA PEDAGIADA	FUGA
Tempo de Viagem	02:40	04:20
Pagamento Pedágio(s)	R\$ 76.25	SEM PEDÁGIO
Escolha	A	B

CAMINHÃO 5 EIXOS / PISTA SIMPLES / ACIMA DE 2 HORAS / GRUPO 5J / CARTÃO ID 181

Para uma situação em que houvesse a opção de realizar uma viagem de **CAMINHÃO 5 EIXOS** com uma distância de **240 KM (ACIMA DE 2 HORAS)** por duas alternativas de rotas, conforme apresentado nas imagens abaixo, qual é a alternativa que você escolheria?

<p>GRUPO 5J</p> <p>ORDEM 2 DE 4</p> <p>CARTÃO ID 182</p> <p>PISTA SIMPLES</p>		
Alternativa	RODOVIA PEDAGIADA	FUGA
Tempo de Viagem	02:40	03:55
Pagamento Pedágio(s)	R\$ 76.25	SEM PEDÁGIO
Escolha	A	B

CAMINHÃO 5 EIXOS / PISTA SIMPLES / ACIMA DE 2 HORAS / GRUPO 5J / CARTÃO ID 182

Para uma situação em que houvesse a opção de realizar uma viagem de **CAMINHÃO 5 EIXOS** com uma distância de **240 KM (ACIMA DE 2 HORAS)** por duas alternativas de rotas, conforme apresentado nas imagens abaixo, qual é a alternativa que você escolheria?

<p>GRUPO 5J</p> <p>ORDEM 3 DE 4</p> <p>CARTÃO ID 183</p> <p>PISTA SIMPLES</p>		
Alternativa	RODOVIA PEDAGIADA	FUGA
Tempo de Viagem	02:40	04:20
Pagamento Pedágio(s)	R\$ 125.00	SEM PEDÁGIO
Escolha	A	B

CAMINHÃO 5 EIXOS / PISTA SIMPLES / ACIMA DE 2 HORAS / GRUPO 5J / CARTÃO ID 183

Para uma situação em que houvesse a opção de realizar uma viagem de **CAMINHÃO 5 EIXOS** com uma distância de **240 KM (ACIMA DE 2 HORAS)** por duas alternativas de rotas, conforme apresentado nas imagens abaixo, qual é a alternativa que você escolheria?

<p>GRUPO 5J</p> <p>ORDEM 4 DE 4</p> <p>CARTÃO ID 184</p> <p>PISTA SIMPLES</p>		
Alternativa	RODOVIA PEDAGIADA	FUGA
Tempo de Viagem	02:10	03:35
Pagamento Pedágio(s)	R\$ 125.00	SEM PEDÁGIO
Escolha	A	B

CAMINHÃO 5 EIXOS / PISTA SIMPLES / ACIMA DE 2 HORAS / GRUPO 5J / CARTÃO ID 184

Para uma situação em que houvesse a opção de realizar uma viagem de **CAMINHÃO 5 EIXOS** com uma distância de **240 KM (ACIMA DE 2 HORAS)** por duas alternativas de rotas, conforme apresentado nas imagens abaixo, qual é a alternativa que você escolheria?

<p>GRUPO 5K</p> <p>ORDEM 1 DE 4</p> <p>CARTÃO ID 185</p> <p>PISTA DUPLA</p>		
Alternativa	RODOVIA PEDAGIADA	FUGA
Tempo de Viagem	03:00	04:50
Pagamento Pedágio(s)	R\$ 76.25	SEM PEDÁGIO
Escolha	A	B

CAMINHÃO 5 EIXOS / PISTA DUPLA / ACIMA DE 2 HORAS / GRUPO 5K / CARTÃO ID 185

Para uma situação em que houvesse a opção de realizar uma viagem de **CAMINHÃO 5 EIXOS** com uma distância de **240 KM (ACIMA DE 2 HORAS)** por duas alternativas de rotas, conforme apresentado nas imagens abaixo, qual é a alternativa que você escolheria?

<p>GRUPO 5K</p> <p>ORDEM 2 DE 4</p> <p>CARTÃO ID 186</p> <p>PISTA DUPLA</p>		
Alternativa	RODOVIA PEDAGIADA	FUGA
Tempo de Viagem	02:10	04:20
Pagamento Pedágio(s)	R\$ 125.00	SEM PEDÁGIO
Escolha	A	B

CAMINHÃO 5 EIXOS / PISTA DUPLA / ACIMA DE 2 HORAS / GRUPO 5K / CARTÃO ID 186

Para uma situação em que houvesse a opção de realizar uma viagem de **CAMINHÃO 5 EIXOS** com uma distância de **240 KM (ACIMA DE 2 HORAS)** por duas alternativas de rotas, conforme apresentado nas imagens abaixo, qual é a alternativa que você escolheria?

<p>GRUPO 5K</p> <p>ORDEM 3 DE 4</p> <p>CARTÃO ID 187</p> <p>PISTA DUPLA</p>		
Alternativa	RODOVIA PEDAGIADA	FUGA
Tempo de Viagem	02:10	03:55
Pagamento Pedágio(s)	R\$ 125.00	SEM PEDÁGIO
Escolha	A	B


CAMINHÃO 5 EIXOS / PISTA DUPLA / ACIMA DE 2 HORAS / GRUPO 5K / CARTÃO ID 187

Para uma situação em que houvesse a opção de realizar uma viagem de **CAMINHÃO 5 EIXOS** com uma distância de **240 KM (ACIMA DE 2 HORAS)** por duas alternativas de rotas, conforme apresentado nas imagens abaixo, qual é a alternativa que você escolheria?

<p>GRUPO 5K</p> <p>ORDEM 4 DE 4</p> <p>CARTÃO ID 188</p> <p>PISTA DUPLA</p>		
Alternativa	RODOVIA PEDAGIADA	FUGA
Tempo de Viagem	03:00	03:55
Pagamento Pedágio(s)	R\$ 76.25	SEM PEDÁGIO
Escolha	A	B

CAMINHÃO 5 EIXOS / PISTA DUPLA / ACIMA DE 2 HORAS / GRUPO 5K / CARTÃO ID 188

Para uma situação em que houvesse a opção de realizar uma viagem de **CAMINHÃO 5 EIXOS** com uma distância de **240 KM (ACIMA DE 2 HORAS)** por duas alternativas de rotas, conforme apresentado nas imagens abaixo, qual é a alternativa que você escolheria?

<p>GRUPO 5L</p> <p>ORDEM 1 DE 4</p> <p>CARTÃO ID 189</p> <p>PISTA DUPLA</p>		
Alternativa	RODOVIA PEDAGIADA	FUGA
Tempo de Viagem	02:24	03:55
Pagamento Pedágio(s)	R\$ 76.25	SEM PEDÁGIO
Escolha	A	B

CAMINHÃO 5 EIXOS / PISTA DUPLA / ACIMA DE 2 HORAS / GRUPO 5L / CARTÃO ID 189

Para uma situação em que houvesse a opção de realizar uma viagem de **CAMINHÃO 5 EIXOS** com uma distância de **240 KM (ACIMA DE 2 HORAS)** por duas alternativas de rotas, conforme apresentado nas imagens abaixo, qual é a alternativa que você escolheria?

<p>GRUPO 5L</p> <p>ORDEM 2 DE 4</p> <p>CARTÃO ID 190</p> <p>PISTA DUPLA</p>		
Alternativa	RODOVIA PEDAGIADA	FUGA
Tempo de Viagem	02:24	03:35
Pagamento Pedágio(s)	R\$ 76.25	SEM PEDÁGIO
Escolha	A	B

CAMINHÃO 5 EIXOS / PISTA DUPLA / ACIMA DE 2 HORAS / GRUPO 5L / CARTÃO ID 190

Para uma situação em que houvesse a opção de realizar uma viagem de **CAMINHÃO 5 EIXOS** com uma distância de **240 KM (ACIMA DE 2 HORAS)** por duas alternativas de rotas, conforme apresentado nas imagens abaixo, qual é a alternativa que você escolheria?

<p>GRUPO 5L</p> <p>ORDEM 3 DE 4</p> <p>CARTÃO ID 191</p> <p>PISTA DUPLA</p>		
Alternativa	RODOVIA PEDAGIADA	FUGA
Tempo de Viagem	02:40	04:50
Pagamento Pedágio(s)	R\$ 172.50	SEM PEDÁGIO
Escolha	A	B

CAMINHÃO 5 EIXOS / PISTA DUPLA / ACIMA DE 2 HORAS / GRUPO 5L / CARTÃO ID 191

Para uma situação em que houvesse a opção de realizar uma viagem de **CAMINHÃO 5 EIXOS** com uma distância de **240 KM (ACIMA DE 2 HORAS)** por duas alternativas de rotas, conforme apresentado nas imagens abaixo, qual é a alternativa que você escolheria?

<p>GRUPO 5L</p> <p>ORDEM 4 DE 4</p> <p>CARTÃO ID 192</p> <p>PISTA DUPLA</p>		
Alternativa	RODOVIA PEDAGIADA	FUGA
Tempo de Viagem	02:24	04:50
Pagamento Pedágio(s)	R\$ 220.00	SEM PEDÁGIO
Escolha	A	B

CAMINHÃO 5 EIXOS / PISTA DUPLA / ACIMA DE 2 HORAS / GRUPO 5L / CARTÃO ID 192

Para uma situação em que houvesse a opção de realizar uma viagem de **CAMINHÃO 6 EIXOS** com uma distância de **80 KM (ATÉ 1 HORA)** por duas alternativas de rotas, conforme apresentado nas imagens abaixo, qual é a alternativa que você escolheria?

<p>GRUPO 6A</p> <p>ORDEM 1 DE 4</p> <p>CARTÃO ID 193</p> <p>PISTA SIMPLES</p>		
Alternativa	RODOVIA PEDAGIADA	FUGA
Tempo de Viagem	00:45	01:35
Pagamento Pedágio(s)	R\$ 36.90	SEM PEDÁGIO
Escolha	A	B


CAMINHÃO 6 EIXOS / PISTA SIMPLES / ATÉ 1 HORA / GRUPO 6A / CARTÃO ID 193

Para uma situação em que houvesse a opção de realizar uma viagem de **CAMINHÃO 6 EIXOS** com uma distância de **80 KM (ATÉ 1 HORA)** por duas alternativas de rotas, conforme apresentado nas imagens abaixo, qual é a alternativa que você escolheria?

<p>GRUPO 6A</p> <p>ORDEM 2 DE 4</p> <p>CARTÃO ID 194</p> <p>PISTA SIMPLES</p>		
Alternativa	RODOVIA PEDAGIADA	FUGA
Tempo de Viagem	01:00	01:35
Pagamento Pedágio(s)	R\$ 36.90	SEM PEDÁGIO
Escolha	A	B

CAMINHÃO 6 EIXOS / PISTA SIMPLES / ATÉ 1 HORA / GRUPO 6A / CARTÃO ID 194

Para uma situação em que houvesse a opção de realizar uma viagem de **CAMINHÃO 6 EIXOS** com uma distância de **80 KM (ATÉ 1 HORA)** por duas alternativas de rotas, conforme apresentado nas imagens abaixo, qual é a alternativa que você escolheria?

<p>GRUPO 6A</p> <p>ORDEM 3 DE 4</p> <p>CARTÃO ID 195</p> <p>PISTA SIMPLES</p>		
Alternativa	RODOVIA PEDAGIADA	FUGA
Tempo de Viagem	00:55	01:25
Pagamento Pedágio(s)	R\$ 36.90	SEM PEDÁGIO
Escolha	A	B


CAMINHÃO 6 EIXOS / PISTA SIMPLES / ATÉ 1 HORA / GRUPO 6A / CARTÃO ID 195

Para uma situação em que houvesse a opção de realizar uma viagem de **CAMINHÃO 6 EIXOS** com uma distância de **80 KM (ATÉ 1 HORA)** por duas alternativas de rotas, conforme apresentado nas imagens abaixo, qual é a alternativa que você escolheria?

<p>GRUPO 6A</p> <p>ORDEM 4 DE 4</p> <p>CARTÃO ID 196</p> <p>PISTA SIMPLES</p>		
Alternativa	RODOVIA PEDAGIADA	FUGA
Tempo de Viagem	00:55	01:20
Pagamento Pedágio(s)	R\$ 36.90	SEM PEDÁGIO
Escolha	A	B

CAMINHÃO 6 EIXOS / PISTA SIMPLES / ATÉ 1 HORA / GRUPO 6A / CARTÃO ID 196

Para uma situação em que houvesse a opção de realizar uma viagem de **CAMINHÃO 6 EIXOS** com uma distância de **80 KM (ATÉ 1 HORA)** por duas alternativas de rotas, conforme apresentado nas imagens abaixo, qual é a alternativa que você escolheria?

<p>GRUPO 6B</p> <p>ORDEM 1 DE 4</p> <p>CARTÃO ID 197</p> <p>PISTA SIMPLES</p>		
Alternativa	RODOVIA PEDAGIADA	FUGA
Tempo de Viagem	00:55	01:35
Pagamento Pedágio(s)	R\$ 36.90	SEM PEDÁGIO
Escolha	A	B

CAMINHÃO 6 EIXOS / PISTA SIMPLES / ATÉ 1 HORA / GRUPO 6B / CARTÃO ID 197

Para uma situação em que houvesse a opção de realizar uma viagem de **CAMINHÃO 6 EIXOS** com uma distância de **80 KM (ATÉ 1 HORA)** por duas alternativas de rotas, conforme apresentado nas imagens abaixo, qual é a alternativa que você escolheria?

<p>GRUPO 6B</p> <p>ORDEM 2 DE 4</p> <p>CARTÃO ID 198</p> <p>PISTA SIMPLES</p>		
Alternativa	RODOVIA PEDAGIADA	FUGA
Tempo de Viagem	00:45	01:20
Pagamento Pedágio(s)	R\$ 36.90	SEM PEDÁGIO
Escolha	A	B

CAMINHÃO 6 EIXOS / PISTA SIMPLES / ATÉ 1 HORA / GRUPO 6B / CARTÃO ID 198

Para uma situação em que houvesse a opção de realizar uma viagem de **CAMINHÃO 6 EIXOS** com uma distância de **80 KM (ATÉ 1 HORA)** por duas alternativas de rotas, conforme apresentado nas imagens abaixo, qual é a alternativa que você escolheria?

<p>GRUPO 6B</p> <p>ORDEM 3 DE 4</p> <p>CARTÃO ID 199</p> <p>PISTA SIMPLES</p>		
Alternativa	RODOVIA PEDAGIADA	FUGA
Tempo de Viagem	00:50	01:35
Pagamento Pedágio(s)	R\$ 59.70	SEM PEDÁGIO
Escolha	A	B

CAMINHÃO 6 EIXOS / PISTA SIMPLES / ATÉ 1 HORA / GRUPO 6B / CARTÃO ID 199

Para uma situação em que houvesse a opção de realizar uma viagem de **CAMINHÃO 6 EIXOS** com uma distância de **80 KM (ATÉ 1 HORA)** por duas alternativas de rotas, conforme apresentado nas imagens abaixo, qual é a alternativa que você escolheria?

<p>GRUPO 6B</p> <p>ORDEM 4 DE 4</p> <p>CARTÃO ID 200</p> <p>PISTA SIMPLES</p>		
Alternativa	RODOVIA PEDAGIADA	FUGA
Tempo de Viagem	00:55	01:35
Pagamento Pedágio(s)	R\$ 59.70	SEM PEDÁGIO
Escolha	A	B

CAMINHÃO 6 EIXOS / PISTA SIMPLES / ATÉ 1 HORA / GRUPO 6B / CARTÃO ID 200

Para uma situação em que houvesse a opção de realizar uma viagem de **CAMINHÃO 6 EIXOS** com uma distância de **80 KM (ATÉ 1 HORA)** por duas alternativas de rotas, conforme apresentado nas imagens abaixo, qual é a alternativa que você escolheria?

<p>GRUPO 6C</p> <p>ORDEM 1 DE 4</p> <p>CARTÃO ID 201</p> <p>PISTA DUPLA</p>		
Alternativa	RODOVIA PEDAGIADA	FUGA
Tempo de Viagem	00:50	01:35
Pagamento Pedágio(s)	R\$ 36.90	SEM PEDÁGIO
Escolha	A	B

CAMINHÃO 6 EIXOS / PISTA DUPLA / ATÉ 1 HORA / GRUPO 6C / CARTÃO ID 201

Para uma situação em que houvesse a opção de realizar uma viagem de **CAMINHÃO 6 EIXOS** com uma distância de **80 KM (ATÉ 1 HORA)** por duas alternativas de rotas, conforme apresentado nas imagens abaixo, qual é a alternativa que você escolheria?

<p>GRUPO 6C</p> <p>ORDEM 2 DE 4</p> <p>CARTÃO ID 202</p> <p>PISTA DUPLA</p>		
Alternativa	RODOVIA PEDAGIADA	FUGA
Tempo de Viagem	00:50	01:25
Pagamento Pedágio(s)	R\$ 36.90	SEM PEDÁGIO
Escolha	A	B

CAMINHÃO 6 EIXOS / PISTA DUPLA / ATÉ 1 HORA / GRUPO 6C / CARTÃO ID 202

Para uma situação em que houvesse a opção de realizar uma viagem de **CAMINHÃO 6 EIXOS** com uma distância de **80 KM (ATÉ 1 HORA)** por duas alternativas de rotas, conforme apresentado nas imagens abaixo, qual é a alternativa que você escolheria?

<p>GRUPO 6C</p> <p>ORDEM 3 DE 4</p> <p>CARTÃO ID 203</p> <p>PISTA DUPLA</p>		
Alternativa	RODOVIA PEDAGIADA	FUGA
Tempo de Viagem	00:50	01:20
Pagamento Pedágio(s)	R\$ 36.90	SEM PEDÁGIO
Escolha	A	B

CAMINHÃO 6 EIXOS / PISTA DUPLA / ATÉ 1 HORA / GRUPO 6C / CARTÃO ID 203

Para uma situação em que houvesse a opção de realizar uma viagem de **CAMINHÃO 6 EIXOS** com uma distância de **80 KM (ATÉ 1 HORA)** por duas alternativas de rotas, conforme apresentado nas imagens abaixo, qual é a alternativa que você escolheria?

<p>GRUPO 6C</p> <p>ORDEM 4 DE 4</p> <p>CARTÃO ID 204</p> <p>PISTA DUPLA</p>		
Alternativa	RODOVIA PEDAGIADA	FUGA
Tempo de Viagem	00:45	01:10
Pagamento Pedágio(s)	R\$ 36.90	SEM PEDÁGIO
Escolha	A	B


CAMINHÃO 6 EIXOS / PISTA DUPLA / ATÉ 1 HORA / GRUPO 6C / CARTÃO ID 204

Para uma situação em que houvesse a opção de realizar uma viagem de **CAMINHÃO 6 EIXOS** com uma distância de **80 KM (ATÉ 1 HORA)** por duas alternativas de rotas, conforme apresentado nas imagens abaixo, qual é a alternativa que você escolheria?

<p>GRUPO 6D</p> <p>ORDEM 1 DE 4</p> <p>CARTÃO ID 205</p> <p>PISTA DUPLA</p>		
Alternativa	RODOVIA PEDAGIADA	FUGA
Tempo de Viagem	00:45	01:25
Pagamento Pedágio(s)	R\$ 36.90	SEM PEDÁGIO
Escolha	A	B

CAMINHÃO 6 EIXOS / PISTA DUPLA / ATÉ 1 HORA / GRUPO 6D / CARTÃO ID 205

Para uma situação em que houvesse a opção de realizar uma viagem de **CAMINHÃO 6 EIXOS** com uma distância de **80 KM (ATÉ 1 HORA)** por duas alternativas de rotas, conforme apresentado nas imagens abaixo, qual é a alternativa que você escolheria?

<p>GRUPO 6D</p> <p>ORDEM 2 DE 4</p> <p>CARTÃO ID 206</p> <p>PISTA DUPLA</p>		
Alternativa	RODOVIA PEDAGIADA	FUGA
Tempo de Viagem	00:45	01:35
Pagamento Pedágio(s)	R\$ 59.70	SEM PEDÁGIO
Escolha	A	B

CAMINHÃO 6 EIXOS / PISTA DUPLA / ATÉ 1 HORA / GRUPO 6D / CARTÃO ID 206

Para uma situação em que houvesse a opção de realizar uma viagem de **CAMINHÃO 6 EIXOS** com uma distância de **80 KM (ATÉ 1 HORA)** por duas alternativas de rotas, conforme apresentado nas imagens abaixo, qual é a alternativa que você escolheria?

<p>GRUPO 6D</p> <p>ORDEM 3 DE 4</p> <p>CARTÃO ID 207</p> <p>PISTA DUPLA</p>		
Alternativa	RODOVIA PEDAGIADA	FUGA
Tempo de Viagem	01:00	01:25
Pagamento Pedágio(s)	R\$ 36.90	SEM PEDÁGIO
Escolha	A	B

CAMINHÃO 6 EIXOS / PISTA DUPLA / ATÉ 1 HORA / GRUPO 6D / CARTÃO ID 207

Para uma situação em que houvesse a opção de realizar uma viagem de **CAMINHÃO 6 EIXOS** com uma distância de **80 KM (ATÉ 1 HORA)** por duas alternativas de rotas, conforme apresentado nas imagens abaixo, qual é a alternativa que você escolheria?

<p>GRUPO 6D</p> <p>ORDEM 4 DE 4</p> <p>CARTÃO ID 208</p> <p>PISTA DUPLA</p>		
Alternativa	RODOVIA PEDAGIADA	FUGA
Tempo de Viagem	00:45	01:35
Pagamento Pedágio(s)	R\$ 82.50	SEM PEDÁGIO
Escolha	A	B

CAMINHÃO 6 EIXOS / PISTA DUPLA / ATÉ 1 HORA / GRUPO 6D / CARTÃO ID 208

Para uma situação em que houvesse a opção de realizar uma viagem de **CAMINHÃO 6 EIXOS** com uma distância de **160 KM (ENTRE 1-2 HORAS)** por duas alternativas de rotas, conforme apresentado nas imagens abaixo, qual é a alternativa que você escolheria?

<p>GRUPO 6E</p> <p>ORDEM 1 DE 4</p> <p>CARTÃO ID 209</p> <p>PISTA SIMPLES</p>		
Alternativa	RODOVIA PEDAGIADA	FUGA
Tempo de Viagem	01:30	03:10
Pagamento Pedágio(s)	R\$ 73.50	SEM PEDÁGIO
Escolha	A	B

CAMINHÃO 6 EIXOS / PISTA SIMPLES / ENTRE 1-2 HORAS / GRUPO 6E / CARTÃO ID 209

Para uma situação em que houvesse a opção de realizar uma viagem de **CAMINHÃO 6 EIXOS** com uma distância de **160 KM (ENTRE 1-2 HORAS)** por duas alternativas de rotas, conforme apresentado nas imagens abaixo, qual é a alternativa que você escolheria?

<p>GRUPO 6E</p> <p>ORDEM 2 DE 4</p> <p>CARTÃO ID 210</p> <p>PISTA SIMPLES</p>		
Alternativa	RODOVIA PEDAGIADA	FUGA
Tempo de Viagem	01:35	02:50
Pagamento Pedágio(s)	R\$ 73.50	SEM PEDÁGIO
Escolha	A	B

CAMINHÃO 6 EIXOS / PISTA SIMPLES / ENTRE 1-2 HORAS / GRUPO 6E / CARTÃO ID 210

Para uma situação em que houvesse a opção de realizar uma viagem de **CAMINHÃO 6 EIXOS** com uma distância de **160 KM (ENTRE 1-2 HORAS)** por duas alternativas de rotas, conforme apresentado nas imagens abaixo, qual é a alternativa que você escolheria?

<p>GRUPO 6E</p> <p>ORDEM 3 DE 4</p> <p>CARTÃO ID 211</p> <p>PISTA SIMPLES</p>		
Alternativa	RODOVIA PEDAGIADA	FUGA
Tempo de Viagem	01:30	03:10
Pagamento Pedágio(s)	R\$ 120.00	SEM PEDÁGIO
Escolha	A	B

CAMINHÃO 6 EIXOS / PISTA SIMPLES / ENTRE 1-2 HORAS / GRUPO 6E / CARTÃO ID 211

Para uma situação em que houvesse a opção de realizar uma viagem de **CAMINHÃO 6 EIXOS** com uma distância de **160 KM (ENTRE 1-2 HORAS)** por duas alternativas de rotas, conforme apresentado nas imagens abaixo, qual é a alternativa que você escolheria?

<p>GRUPO 6E</p> <p>ORDEM 4 DE 4</p> <p>CARTÃO ID 212</p> <p>PISTA SIMPLES</p>		
Alternativa	RODOVIA PEDAGIADA	FUGA
Tempo de Viagem	02:00	02:50
Pagamento Pedágio(s)	R\$ 73.50	SEM PEDÁGIO
Escolha	A	B

CAMINHÃO 6 EIXOS / PISTA SIMPLES / ENTRE 1-2 HORAS / GRUPO 6E / CARTÃO ID 212

Para uma situação em que houvesse a opção de realizar uma viagem de **CAMINHÃO 6 EIXOS** com uma distância de **160 KM (ENTRE 1-2 HORAS)** por duas alternativas de rotas, conforme apresentado nas imagens abaixo, qual é a alternativa que você escolheria?

<p>GRUPO 6F</p> <p>ORDEM 1 DE 4</p> <p>CARTÃO ID 213</p> <p>PISTA SIMPLES</p>		
Alternativa	RODOVIA PEDAGIADA	FUGA
Tempo de Viagem	01:45	03:10
Pagamento Pedágio(s)	R\$ 73.50	SEM PEDÁGIO
Escolha	A	B

CAMINHÃO 6 EIXOS / PISTA SIMPLES / ENTRE 1-2 HORAS / GRUPO 6F / CARTÃO ID 213

Para uma situação em que houvesse a opção de realizar uma viagem de **CAMINHÃO 6 EIXOS** com uma distância de **160 KM (ENTRE 1-2 HORAS)** por duas alternativas de rotas, conforme apresentado nas imagens abaixo, qual é a alternativa que você escolheria?

<p>GRUPO 6F</p> <p>ORDEM 2 DE 4</p> <p>CARTÃO ID 214</p> <p>PISTA SIMPLES</p>		
Alternativa	RODOVIA PEDAGIADA	FUGA
Tempo de Viagem	01:45	02:50
Pagamento Pedágio(s)	R\$ 73.50	SEM PEDÁGIO
Escolha	A	B

CAMINHÃO 6 EIXOS / PISTA SIMPLES / ENTRE 1-2 HORAS / GRUPO 6F / CARTÃO ID 214

Para uma situação em que houvesse a opção de realizar uma viagem de **CAMINHÃO 6 EIXOS** com uma distância de **160 KM (ENTRE 1-2 HORAS)** por duas alternativas de rotas, conforme apresentado nas imagens abaixo, qual é a alternativa que você escolheria?

<p>GRUPO 6F</p> <p>ORDEM 3 DE 4</p> <p>CARTÃO ID 215</p> <p>PISTA SIMPLES</p>		
Alternativa	RODOVIA PEDAGIADA	FUGA
Tempo de Viagem	01:30	02:25
Pagamento Pedágio(s)	R\$ 73.50	SEM PEDÁGIO
Escolha	A	B

CAMINHÃO 6 EIXOS / PISTA SIMPLES / ENTRE 1-2 HORAS / GRUPO 6F / CARTÃO ID 215

Para uma situação em que houvesse a opção de realizar uma viagem de **CAMINHÃO 6 EIXOS** com uma distância de **160 KM (ENTRE 1-2 HORAS)** por duas alternativas de rotas, conforme apresentado nas imagens abaixo, qual é a alternativa que você escolheria?

GRUPO 6F ORDEM 4 DE 4 CARTÃO ID 216 PISTA SIMPLES		
Alternativa	RODOVIA PEDAGIADA	FUGA
Tempo de Viagem	01:30	02:50
Pagamento Pedágio(s)	R\$ 120.00	SEM PEDÁGIO
Escolha	A	B

CAMINHÃO 6 EIXOS / PISTA SIMPLES / ENTRE 1-2 HORAS / GRUPO 6F / CARTÃO ID 216

Para uma situação em que houvesse a opção de realizar uma viagem de **CAMINHÃO 6 EIXOS** com uma distância de **160 KM (ENTRE 1-2 HORAS)** por duas alternativas de rotas, conforme apresentado nas imagens abaixo, qual é a alternativa que você escolheria?

<p>GRUPO 6G</p> <p>ORDEM 1 DE 4</p> <p>CARTÃO ID 217</p> <p>PISTA DUPLA</p>		
Alternativa	RODOVIA PEDAGIADA	FUGA
Tempo de Viagem	01:35	03:10
Pagamento Pedágio(s)	R\$ 73.50	SEM PEDÁGIO
Escolha	A	B

CAMINHÃO 6 EIXOS / PISTA DUPLA / ENTRE 1-2 HORAS / GRUPO 6G / CARTÃO ID 217

Para uma situação em que houvesse a opção de realizar uma viagem de **CAMINHÃO 6 EIXOS** com uma distância de **160 KM (ENTRE 1-2 HORAS)** por duas alternativas de rotas, conforme apresentado nas imagens abaixo, qual é a alternativa que você escolheria?

<p>GRUPO 6G</p> <p>ORDEM 2 DE 4</p> <p>CARTÃO ID 218</p> <p>PISTA DUPLA</p>		
Alternativa	RODOVIA PEDAGIADA	FUGA
Tempo de Viagem	02:00	03:10
Pagamento Pedágio(s)	R\$ 73.50	SEM PEDÁGIO
Escolha	A	B

CAMINHÃO 6 EIXOS / PISTA DUPLA / ENTRE 1-2 HORAS / GRUPO 6G / CARTÃO ID 218

Para uma situação em que houvesse a opção de realizar uma viagem de **CAMINHÃO 6 EIXOS** com uma distância de **160 KM (ENTRE 1-2 HORAS)** por duas alternativas de rotas, conforme apresentado nas imagens abaixo, qual é a alternativa que você escolheria?

<p>GRUPO 6G</p> <p>ORDEM 3 DE 4</p> <p>CARTÃO ID 219</p> <p>PISTA DUPLA</p>		
Alternativa	RODOVIA PEDAGIADA	FUGA
Tempo de Viagem	01:35	03:10
Pagamento Pedágio(s)	R\$ 120.00	SEM PEDÁGIO
Escolha	A	B

CAMINHÃO 6 EIXOS / PISTA DUPLA / ENTRE 1-2 HORAS / GRUPO 6G / CARTÃO ID 219

Para uma situação em que houvesse a opção de realizar uma viagem de **CAMINHÃO 6 EIXOS** com uma distância de **160 KM (ENTRE 1-2 HORAS)** por duas alternativas de rotas, conforme apresentado nas imagens abaixo, qual é a alternativa que você escolheria?

<p>GRUPO 6G</p> <p>ORDEM 4 DE 4</p> <p>CARTÃO ID 220</p> <p>PISTA DUPLA</p>		
Alternativa	RODOVIA PEDAGIADA	FUGA
Tempo de Viagem	01:35	02:25
Pagamento Pedágio(s)	R\$ 73.50	SEM PEDÁGIO
Escolha	A	B

CAMINHÃO 6 EIXOS / PISTA DUPLA / ENTRE 1-2 HORAS / GRUPO 6G / CARTÃO ID 220

Para uma situação em que houvesse a opção de realizar uma viagem de **CAMINHÃO 6 EIXOS** com uma distância de **160 KM (ENTRE 1-2 HORAS)** por duas alternativas de rotas, conforme apresentado nas imagens abaixo, qual é a alternativa que você escolheria?

<p>GRUPO 6H</p> <p>ORDEM 1 DE 4</p> <p>CARTÃO ID 221</p> <p>PISTA DUPLA</p>		
Alternativa	RODOVIA PEDAGIADA	FUGA
Tempo de Viagem	01:30	02:50
Pagamento Pedágio(s)	R\$ 73.50	SEM PEDÁGIO
Escolha	A	B

CAMINHÃO 6 EIXOS / PISTA DUPLA / ENTRE 1-2 HORAS / GRUPO 6H / CARTÃO ID 221

Para uma situação em que houvesse a opção de realizar uma viagem de **CAMINHÃO 6 EIXOS** com uma distância de **160 KM (ENTRE 1-2 HORAS)** por duas alternativas de rotas, conforme apresentado nas imagens abaixo, qual é a alternativa que você escolheria?

<p>GRUPO 6H</p> <p>ORDEM 2 DE 4</p> <p>CARTÃO ID 222</p> <p>PISTA DUPLA</p>		
Alternativa	RODOVIA PEDAGIADA	FUGA
Tempo de Viagem	01:30	02:35
Pagamento Pedágio(s)	R\$ 73.50	SEM PEDÁGIO
Escolha	A	B

CAMINHÃO 6 EIXOS / PISTA DUPLA / ENTRE 1-2 HORAS / GRUPO 6H / CARTÃO ID 222

Para uma situação em que houvesse a opção de realizar uma viagem de **CAMINHÃO 6 EIXOS** com uma distância de **160 KM (ENTRE 1-2 HORAS)** por duas alternativas de rotas, conforme apresentado nas imagens abaixo, qual é a alternativa que você escolheria?

<p>GRUPO 6H</p> <p>ORDEM 3 DE 4</p> <p>CARTÃO ID 223</p> <p>PISTA DUPLA</p>		
Alternativa	RODOVIA PEDAGIADA	FUGA
Tempo de Viagem	01:45	03:10
Pagamento Pedágio(s)	R\$ 120.00	SEM PEDÁGIO
Escolha	A	B

CAMINHÃO 6 EIXOS / PISTA DUPLA / ENTRE 1-2 HORAS / GRUPO 6H / CARTÃO ID 223

Para uma situação em que houvesse a opção de realizar uma viagem de **CAMINHÃO 6 EIXOS** com uma distância de **160 KM (ENTRE 1-2 HORAS)** por duas alternativas de rotas, conforme apresentado nas imagens abaixo, qual é a alternativa que você escolheria?

GRUPO 6H ORDEM 4 DE 4 CARTÃO ID 224 PISTA DUPLA		
Alternativa	RODOVIA PEDAGIADA	FUGA
Tempo de Viagem	01:30	03:10
Pagamento Pedágio(s)	R\$ 165.00	SEM PEDÁGIO
Escolha	A	B

CAMINHÃO 6 EIXOS / PISTA DUPLA / ENTRE 1-2 HORAS / GRUPO 6H / CARTÃO ID 224

Para uma situação em que houvesse a opção de realizar uma viagem de **CAMINHÃO 6 EIXOS** com uma distância de **240 KM (ACIMA DE 2 HORAS)** por duas alternativas de rotas, conforme apresentado nas imagens abaixo, qual é a alternativa que você escolheria?

<p>GRUPO 6I</p> <p>ORDEM 1 DE 4</p> <p>CARTÃO ID 225</p> <p>PISTA SIMPLES</p>		
Alternativa	RODOVIA PEDAGIADA	FUGA
Tempo de Viagem	02:10	04:50
Pagamento Pedágio(s)	R\$ 91.50	SEM PEDÁGIO
Escolha	A	B

CAMINHÃO 6 EIXOS / PISTA SIMPLES / ACIMA DE 2 HORAS / GRUPO 6I / CARTÃO ID 225

Para uma situação em que houvesse a opção de realizar uma viagem de **CAMINHÃO 6 EIXOS** com uma distância de **240 KM (ACIMA DE 2 HORAS)** por duas alternativas de rotas, conforme apresentado nas imagens abaixo, qual é a alternativa que você escolheria?

<p>GRUPO 6I</p> <p>ORDEM 2 DE 4</p> <p>CARTÃO ID 226</p> <p>PISTA SIMPLES</p>		
Alternativa	RODOVIA PEDAGIADA	FUGA
Tempo de Viagem	02:40	04:20
Pagamento Pedágio(s)	R\$ 91.50	SEM PEDÁGIO
Escolha	A	B

CAMINHÃO 6 EIXOS / PISTA SIMPLES / ACIMA DE 2 HORAS / GRUPO 6I / CARTÃO ID 226

Para uma situação em que houvesse a opção de realizar uma viagem de **CAMINHÃO 6 EIXOS** com uma distância de **240 KM (ACIMA DE 2 HORAS)** por duas alternativas de rotas, conforme apresentado nas imagens abaixo, qual é a alternativa que você escolheria?

<p>GRUPO 6I</p> <p>ORDEM 3 DE 4</p> <p>CARTÃO ID 227</p> <p>PISTA SIMPLES</p>		
Alternativa	RODOVIA PEDAGIADA	FUGA
Tempo de Viagem	03:00	04:20
Pagamento Pedágio(s)	R\$ 91.50	SEM PEDÁGIO
Escolha	A	B

CAMINHÃO 6 EIXOS / PISTA SIMPLES / ACIMA DE 2 HORAS / GRUPO 6I / CARTÃO ID 227

Para uma situação em que houvesse a opção de realizar uma viagem de **CAMINHÃO 6 EIXOS** com uma distância de **240 KM (ACIMA DE 2 HORAS)** por duas alternativas de rotas, conforme apresentado nas imagens abaixo, qual é a alternativa que você escolheria?

<p>GRUPO 6I</p> <p>ORDEM 4 DE 4</p> <p>CARTÃO ID 228</p> <p>PISTA SIMPLES</p>		
Alternativa	RODOVIA PEDAGIADA	FUGA
Tempo de Viagem	02:10	03:55
Pagamento Pedágio(s)	R\$ 150.00	SEM PEDÁGIO
Escolha	A	B

CAMINHÃO 6 EIXOS / PISTA SIMPLES / ACIMA DE 2 HORAS / GRUPO 6I / CARTÃO ID 228

Para uma situação em que houvesse a opção de realizar uma viagem de **CAMINHÃO 6 EIXOS** com uma distância de **240 KM (ACIMA DE 2 HORAS)** por duas alternativas de rotas, conforme apresentado nas imagens abaixo, qual é a alternativa que você escolheria?

<p>GRUPO 6J</p> <p>ORDEM 1 DE 4</p> <p>CARTÃO ID 229</p> <p>PISTA SIMPLES</p>		
Alternativa	RODOVIA PEDAGIADA	FUGA
Tempo de Viagem	02:40	04:50
Pagamento Pedágio(s)	R\$ 91.50	SEM PEDÁGIO
Escolha	A	B

CAMINHÃO 6 EIXOS / PISTA SIMPLES / ACIMA DE 2 HORAS / GRUPO 6J / CARTÃO ID 229

Para uma situação em que houvesse a opção de realizar uma viagem de **CAMINHÃO 6 EIXOS** com uma distância de **240 KM (ACIMA DE 2 HORAS)** por duas alternativas de rotas, conforme apresentado nas imagens abaixo, qual é a alternativa que você escolheria?

<p>GRUPO 6J</p> <p>ORDEM 2 DE 4</p> <p>CARTÃO ID 230</p> <p>PISTA SIMPLES</p>		
Alternativa	RODOVIA PEDAGIADA	FUGA
Tempo de Viagem	02:24	04:50
Pagamento Pedágio(s)	R\$ 150.00	SEM PEDÁGIO
Escolha	A	B

CAMINHÃO 6 EIXOS / PISTA SIMPLES / ACIMA DE 2 HORAS / GRUPO 6J / CARTÃO ID 230

Para uma situação em que houvesse a opção de realizar uma viagem de **CAMINHÃO 6 EIXOS** com uma distância de **240 KM (ACIMA DE 2 HORAS)** por duas alternativas de rotas, conforme apresentado nas imagens abaixo, qual é a alternativa que você escolheria?

<p>GRUPO 6J</p> <p>ORDEM 3 DE 4</p> <p>CARTÃO ID 231</p> <p>PISTA SIMPLES</p>		
Alternativa	RODOVIA PEDAGIADA	FUGA
Tempo de Viagem	02:10	04:50
Pagamento Pedágio(s)	R\$ 207.00	SEM PEDÁGIO
Escolha	A	B

CAMINHÃO 6 EIXOS / PISTA SIMPLES / ACIMA DE 2 HORAS / GRUPO 6J / CARTÃO ID 231

Para uma situação em que houvesse a opção de realizar uma viagem de **CAMINHÃO 6 EIXOS** com uma distância de **240 KM (ACIMA DE 2 HORAS)** por duas alternativas de rotas, conforme apresentado nas imagens abaixo, qual é a alternativa que você escolheria?

<p>GRUPO 6J</p> <p>ORDEM 4 DE 4</p> <p>CARTÃO ID 232</p> <p>PISTA SIMPLES</p>		
Alternativa	RODOVIA PEDAGIADA	FUGA
Tempo de Viagem	02:40	04:50
Pagamento Pedágio(s)	R\$ 207.00	SEM PEDÁGIO
Escolha	A	B

CAMINHÃO 6 EIXOS / PISTA SIMPLES / ACIMA DE 2 HORAS / GRUPO 6J / CARTÃO ID 232

Para uma situação em que houvesse a opção de realizar uma viagem de **CAMINHÃO 6 EIXOS** com uma distância de **240 KM (ACIMA DE 2 HORAS)** por duas alternativas de rotas, conforme apresentado nas imagens abaixo, qual é a alternativa que você escolheria?

<p>GRUPO 6K</p> <p>ORDEM 1 DE 4</p> <p>CARTÃO ID 233</p> <p>PISTA DUPLA</p>		
Alternativa	RODOVIA PEDAGIADA	FUGA
Tempo de Viagem	02:24	04:50
Pagamento Pedágio(s)	R\$ 91.50	SEM PEDÁGIO
Escolha	A	B

CAMINHÃO 6 EIXOS / PISTA DUPLA / ACIMA DE 2 HORAS / GRUPO 6K / CARTÃO ID 233

Para uma situação em que houvesse a opção de realizar uma viagem de **CAMINHÃO 6 EIXOS** com uma distância de **240 KM (ACIMA DE 2 HORAS)** por duas alternativas de rotas, conforme apresentado nas imagens abaixo, qual é a alternativa que você escolheria?

GRUPO 6K ORDEM 2 DE 4 CARTÃO ID 234 PISTA DUPLA		
Alternativa	RODOVIA PEDAGIADA	FUGA
Tempo de Viagem	02:10	04:50
Pagamento Pedágio(s)	R\$ 150.00	SEM PEDÁGIO
Escolha	A	B

CAMINHÃO 6 EIXOS / PISTA DUPLA / ACIMA DE 2 HORAS / GRUPO 6K / CARTÃO ID 234

Para uma situação em que houvesse a opção de realizar uma viagem de **CAMINHÃO 6 EIXOS** com uma distância de **240 KM (ACIMA DE 2 HORAS)** por duas alternativas de rotas, conforme apresentado nas imagens abaixo, qual é a alternativa que você escolheria?

<p>GRUPO 6K</p> <p>ORDEM 3 DE 4</p> <p>CARTÃO ID 235</p> <p>PISTA DUPLA</p>		
Alternativa	RODOVIA PEDAGIADA	FUGA
Tempo de Viagem	02:40	03:55
Pagamento Pedágio(s)	R\$ 91.50	SEM PEDÁGIO
Escolha	A	B

CAMINHÃO 6 EIXOS / PISTA DUPLA / ACIMA DE 2 HORAS / GRUPO 6K / CARTÃO ID 235

Para uma situação em que houvesse a opção de realizar uma viagem de **CAMINHÃO 6 EIXOS** com uma distância de **240 KM (ACIMA DE 2 HORAS)** por duas alternativas de rotas, conforme apresentado nas imagens abaixo, qual é a alternativa que você escolheria?

<p>GRUPO 6K</p> <p>ORDEM 4 DE 4</p> <p>CARTÃO ID 236</p> <p>PISTA DUPLA</p>		
Alternativa	RODOVIA PEDAGIADA	FUGA
Tempo de Viagem	02:40	04:20
Pagamento Pedágio(s)	R\$ 150.00	SEM PEDÁGIO
Escolha	A	B

CAMINHÃO 6 EIXOS / PISTA DUPLA / ACIMA DE 2 HORAS / GRUPO 6K / CARTÃO ID 236

Para uma situação em que houvesse a opção de realizar uma viagem de **CAMINHÃO 6 EIXOS** com uma distância de **240 KM (ACIMA DE 2 HORAS)** por duas alternativas de rotas, conforme apresentado nas imagens abaixo, qual é a alternativa que você escolheria?

<p>GRUPO 6L</p> <p>ORDEM 1 DE 4</p> <p>CARTÃO ID 237</p> <p>PISTA DUPLA</p>		
Alternativa	RODOVIA PEDAGIADA	FUGA
Tempo de Viagem	02:24	04:20
Pagamento Pedágio(s)	R\$ 91.50	SEM PEDÁGIO
Escolha	A	B

CAMINHÃO 6 EIXOS / PISTA DUPLA / ACIMA DE 2 HORAS / GRUPO 6L / CARTÃO ID 237

Para uma situação em que houvesse a opção de realizar uma viagem de **CAMINHÃO 6 EIXOS** com uma distância de **240 KM (ACIMA DE 2 HORAS)** por duas alternativas de rotas, conforme apresentado nas imagens abaixo, qual é a alternativa que você escolheria?

<p>GRUPO 6L</p> <p>ORDEM 2 DE 4</p> <p>CARTÃO ID 238</p> <p>PISTA DUPLA</p>		
Alternativa	RODOVIA PEDAGIADA	FUGA
Tempo de Viagem	02:10	03:35
Pagamento Pedágio(s)	R\$ 91.50	SEM PEDÁGIO
Escolha	A	B

CAMINHÃO 6 EIXOS / PISTA DUPLA / ACIMA DE 2 HORAS / GRUPO 6L / CARTÃO ID 238

Para uma situação em que houvesse a opção de realizar uma viagem de **CAMINHÃO 6 EIXOS** com uma distância de **240 KM (ACIMA DE 2 HORAS)** por duas alternativas de rotas, conforme apresentado nas imagens abaixo, qual é a alternativa que você escolheria?

<p>GRUPO 6L</p> <p>ORDEM 3 DE 4</p> <p>CARTÃO ID 239</p> <p>PISTA DUPLA</p>		
Alternativa	RODOVIA PEDAGIADA	FUGA
Tempo de Viagem	03:00	04:50
Pagamento Pedágio(s)	R\$ 150.00	SEM PEDÁGIO
Escolha	A	B

CAMINHÃO 6 EIXOS / PISTA DUPLA / ACIMA DE 2 HORAS / GRUPO 6L / CARTÃO ID 239

Para uma situação em que houvesse a opção de realizar uma viagem de **CAMINHÃO 6 EIXOS** com uma distância de **240 KM (ACIMA DE 2 HORAS)** por duas alternativas de rotas, conforme apresentado nas imagens abaixo, qual é a alternativa que você escolheria?

<p>GRUPO 6L</p> <p>ORDEM 4 DE 4</p> <p>CARTÃO ID 240</p> <p>PISTA DUPLA</p>		
Alternativa	RODOVIA PEDAGIADA	FUGA
Tempo de Viagem	02:40	03:35
Pagamento Pedágio(s)	R\$ 91.50	SEM PEDÁGIO
Escolha	A	B

CAMINHÃO 6 EIXOS / PISTA DUPLA / ACIMA DE 2 HORAS / GRUPO 6L / CARTÃO ID 240